
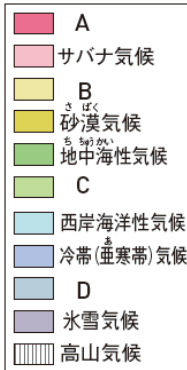




定期テスト ズバリよくでる 社会地理（全教科書版）訂正表

本書には、下記のような訂正があります。深くおわび申し上げますとともに、訂正の上ご使用いただきますようお願いいたします。新興出版社 編集部

本体		
該当箇所	原文	訂正内容
p.9 大問1 地図の凡例		
p.12 大問2 地図の塗り分け		
p.24 大問1③設問文	…の輸出にたよる経済と…	…の輸出にたよる経済を…

別冊解答		
該当箇所	原文	訂正内容
p.3 (本体 p.9) 大問1①③④ 解説	③熱帯で、乾季と雨季があるので A のサバナ気候。 ④冬の気温が-30℃近くまで下がるので、D の氷雪気候。	③熱帯で、一年中雨が降るので A の熱帯雨林気候。 ④もっとも暖かい月の平均気温が 0℃以上 10℃未満なので、D のツンドラ気候。
p.12 (本体 p.37) 大問10②㉞ 解説	…平均年齢は 48 歳以上で高いため ×。	…平均年齢は 48 歳以上で高く、合計特殊出生率が 1.4 未満で低いため ×。
p.18 (本体 p.57) 大問3① 解答	工場団地	工業団地