



1

1年生で ならった こと① (たし算・ひき算)

月	日	し 時	ふん 分～	時	分
なまえ 名前		てん 点			

① たし^{ざん}算を しましょう。

46点(1つ2)

① $2+1$

② $1+3$

③ $3+3$

④ $5+2$

⑤ $6+2$

⑥ $3+4$

⑦ $8+1$

⑧ $4+5$

⑨ $7+3$

⑩ $2+8$

⑪ $1+0$

⑫ $0+9$

⑬ $9+5$

⑭ $8+3$

⑮ $7+7$

⑯ $6+8$

⑰ $3+8$

⑱ $5+9$

⑲ $4+7$

⑳ $6+6$

㉑ $11+4$

㉒ $30+40$

㉓ $22+7$

⑬～㉒は、
10の まとまりを
つくれば いいね。



2 ひき^{ざん}算を しましょう。

40点^{てん}(1つ2)

① $2-1$

② $5-3$

③ $4-2$

④ $9-5$

⑤ $7-1$

⑥ $8-3$

⑦ $6-4$

⑧ $10-5$

⑨ $10-8$

⑩ $9-0$

⑪ $12-9$

⑫ $13-6$

⑬ $17-8$

⑭ $15-7$

⑮ $14-4$

⑯ $60-20$

⑰ $36-3$

⑱ $13-5$

⑲ $18-9$

⑳ $35-10$

3 計^{けい}算^{さん}を しましょう。

14点(1つ2)

① $1+2+2$

② $7+3+4$

③ $8-3-2$

④ $17-5-1$

⑤ $4+2-1$

⑥ $16-5+2$

⑦ $13-3+7$

一のくらの^{かず}数どうしが ひけな
い ときは、もとの 数^{かず}を 10と
のこりの 数に わけて 考えるん
だったね。





1年生で ならった こと② (たし算・ひき算)

月	日	し 時	ふん 分～	時	分
なまえ 名前				てん 点	

① たし^{ざん}算を しましょう。

46点(1つ2)

① $3+2$

② $2+2$

③ $7+1$

④ $5+4$

⑤ $4+4$

⑥ $2+7$

⑦ $3+6$

⑧ $6+1$

⑨ $5+5$

⑩ $4+6$

⑪ $2+0$

⑫ $0+8$

⑬ $9+3$

⑭ $5+7$

⑮ $8+4$

⑯ $8+8$

⑰ $7+6$

⑱ $3+9$

⑲ $4+8$

⑳ $6+7$

㉑ $10+6$

㉒ $20+50$

㉓ $32+4$

ゆびや ブロックを
つかわずに、あたまの
中で 計算できたかな？



2 ひき^{ざん}算を しましょう。

40点^{てん}(1つ2)

① $3-2$

② $5-4$

③ $8-1$

④ $9-7$

⑤ $7-6$

⑥ $6-3$

⑦ $8-4$

⑧ $10-6$

⑨ $10-3$

⑩ $0-0$

⑪ $11-4$

⑫ $14-8$

⑬ $12-6$

⑭ $15-9$

⑮ $13-3$

⑯ $25-5$

⑰ $50-20$

⑱ $16-4$

⑲ $19-7$

⑳ $30-20$

3 けい^{けい}算を しましょう。

14点(1つ2)

① $4+6+4$

② $9-6-2$

③ $5+2-3$

④ $7+3-6$

⑤ $8-2+4$

⑥ $15-5+3$

⑦ $12+7-5$

10を こえる たし算は、あと
いくつ たせば 10に なるかを
かんが 考えるんだったね。





1年生で ならった こと③ (計算)

月	日	時	分	時	分
名前		てん点			

① つぎの ^{けいさん}計算を しましょう。

27点(1つ3)

① $2+3$

② $3+6$

③ $2+2$

④ $5+5$

⑤ $4+2$

⑥ $7-2$

⑦ $5-3$

⑧ $8-1$

⑨ $9-9$

^{さん}たし算と ひき算を
まちがえないようにね。



② □に あてはまる ^{かず}数を かきましょう。

33点(1つ3)

① 10と 3で

② 10と 1で

③ 10と 10で

④ 6と 10で

⑤ 7と 10で

⑥ 15は 10と

⑦ 12は 10と

⑧ 16は 10と

⑨ 19は 10と

⑩ 20は 10と

⑪ 14は 10と

1年生で ならった ことを
おもい出してね。



3 つぎの ^{けいさん}計算を しましょう。

40点^{てん}(1つ2)

① $3+8$

② $16-6$

③ $12-3$

④ $2+9$

⑤ $7+5$

⑥ $14-8$

⑦ $11-5$

⑧ $6+7$

⑨ $15-7$

⑩ $8+8$

⑪ $4+9$

⑫ $13-6$

⑬ $6+6$

⑭ $17-8$

⑮ $18-9$

⑯ $5+8$

⑰ $9+6$

⑱ $12-4$

⑲ $11-2$

⑳ $8+9$

たし算の ときの ^あくり上がりと、
ひき算の ときの ^さくり下がりに
ちゅういして 計算してね。





4

1年生で ならった こと④ (計算)

月	日	し 時	ふん 分	時	分
なまえ 名前		てん 点			

① □に あてはまる ^{かず} 数を かきましょう。 30点(1つ5)

① 1 を □ に あつめた 数は 100

② 10 を □ に あつめた 数は 100

③ 99 より □ 大きい 数は 100

④ 80 より □ 小さい 数は 78

⑤ 40 より □ 大きい 数は 50

⑥ 81 より 1 小さい 数は □

100 は 1 や
10 を いくつ
あつめた 数か
おぼえて いる
かな。



② つぎの ^{けいさん} 計算を しましょう。

30点(1つ3)

① $3+4+1$

② $9-1-7$

③ $8-3-1$

④ $3+3+2$

⑤ $1+5+3$

⑥ $10-2-5$

⑦ $4+1+2$

⑧ $6-1-1$

⑨ $7-4-2$

⑩ $2+3+4$

3 つぎの ^{けいさん}計算を しましょう。

40点^{てん}(1つ2)

① $8 - 3 + 4$

② $2 + 7 - 4$

③ $2 + 6 - 3$

④ $1 + 9 - 6$

⑤ $4 - 1 + 5$

⑥ $3 - 2 + 8$

⑦ $9 - 5 + 1$

⑧ $6 + 4 - 5$

⑨ $4 + 4 - 2$

⑩ $7 - 6 + 7$

⑪ $5 + 2 - 3$

⑫ $6 - 3 + 4$

⑬ $10 - 4 + 2$

⑭ $2 + 5 - 1$

⑮ $4 + 6 - 4$

⑯ $12 - 2 + 1$

⑰ $9 + 1 - 3$

⑱ $16 - 6 + 9$

⑲ $13 - 3 + 4$

⑳ $2 + 8 - 1$

たし算と ひき算が まじって いるので ちゅういして 計算してね。
3つの 数の 計算は まちがいなく できるように して おこうね。






1年生で ならった こと⑤
(数・りょう・図形)

月	日	し 時	ふん 分～	時	分
なまえ 名前					


てん
点

① いくつ あるでしょう。


16点(1つ4)



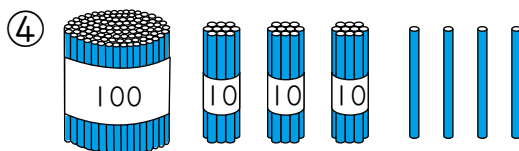
() に



() 本



() 本



() 本

② に あてはまる ^{かず} 数を かきましょう。

24点(1つ4)

① 10 を 4 こと 1 を 7 こ あわせた 数は です。

② 38 は 10 を こと、1 を こ あわせた
数です。

③ 82 の 十のくらは 、一のくらは です。

④ 十のくらが 4 で、一のくらが 5 の 数は です。

③ に あてはまる 数を かきましょう。

16点(1つ4)

① 59 — — 61 — — 63

② 70 — — 50 — 40 —

②は10ずつ
小さく なって
いるね。



4 ^{かず}数が 大きい ほうに ○を かきましょう。

12点(1つ4)

①

30
20

 () ②

49
51

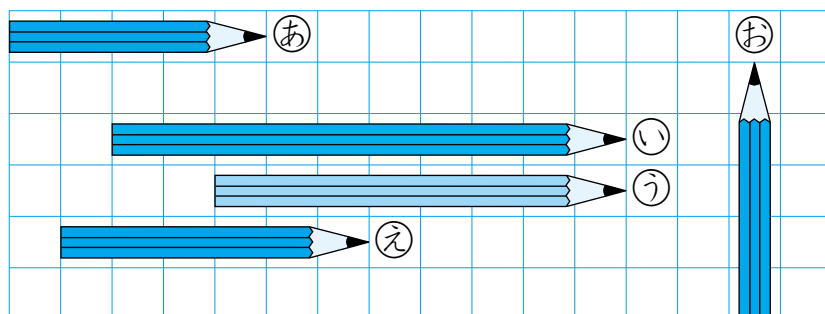
 () ③

98
89

 ()

5 下の ^え絵を 見て ^{こた}答えましょう。

8点(1つ4)



- ① いちばん ^{なが}長い えんぴつは どれでしょう。 ()
- ② あと ^{おな}同じ 長さの えんぴつは どれでしょう。 ()

6 ^{なん じ}何時何分 ^{ぶん}でしょう。

12点(1つ4)

① () ② () ③ ()

7 が 何まいで できて いるでしょう。

12点(1つ4)

① () ② () ③ ()




6

1年生で ならった こと⑥ (数・りょう・図形)

月	日	し 時	ふん 分～	時	分
なまえ 名前			てん 点		

- ① 立って いる 人は ^{まえ}前から ^{なんばん}何番目でしょう。また、うしろから 何番目でしょう。

8点(1つ4)



前から 番目、うしろから 番目

- ② に あてはまる ^{かず}数を かきましょう。

16点(1つ4)

① 79 より 1 大きい 数は

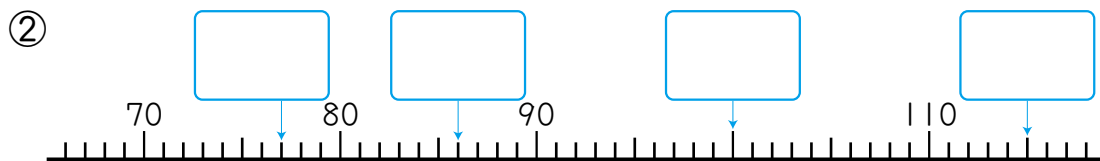
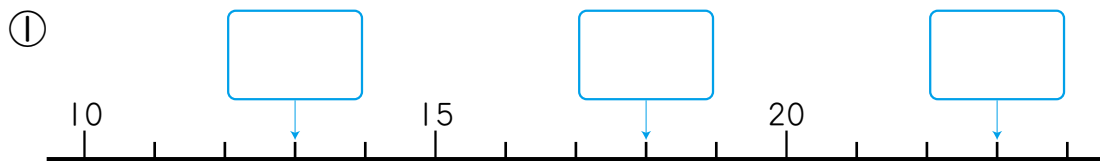
② 100 より 2 小さい 数は

③ 80 は 10 を に あつめた 数です。

④ 100 を 1 こ、10 を 1 こ、1 を 6 こ あわせた 数は です。

- ③ に あてはまる 数を かきましょう。

28点(1つ4)

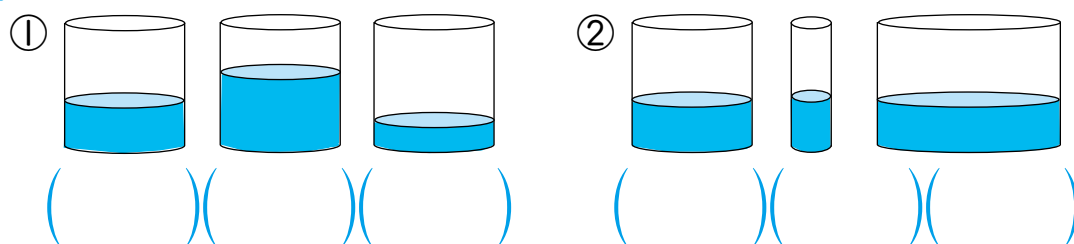


4 ^{かず}数が 大きい じゅんに かきましょう。

12点(1つ4)

- ① 64、46、56 ()
- ② 78、81、79 ()
- ③ 99、102、120、109、112 ()

5 かさが いちばん ^{おお}多い ものに ○を つけましょう。8点(1つ4)



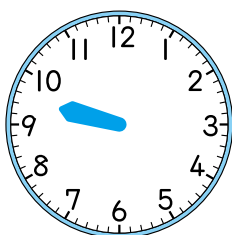
①は ^{おな}同じ 大きさの 入れものに はいって いるね。②は いちばん 右の 入れものが いちばん 大きいことに ちゅうもくしよう。



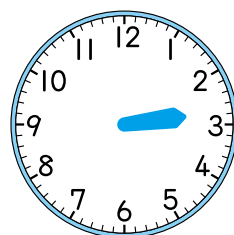
6 ^{なが}長い はりを かきましょう。

8点(1つ4)

① 9時半 ^{じはん}

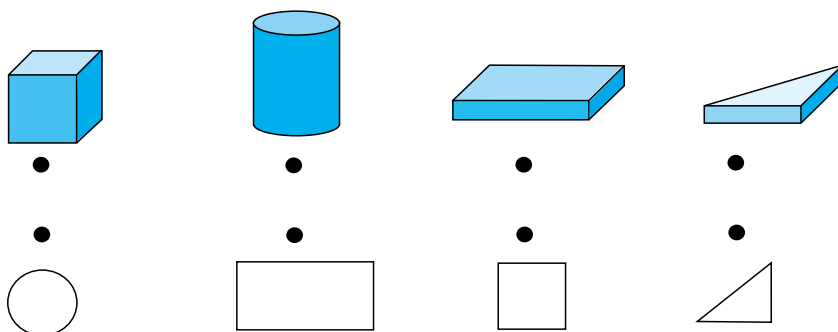


② 2時45分 ^{ふん}



7 つみきと、つみきの その ^{かたち}形を ^{せん}線で むすびましょう。

20点(1つ5)





1年生で ならった こと⑦ (時こくと時間)

月	日	時	分	時	分
なまえ		てん 点			

① 時計を よみましょう。

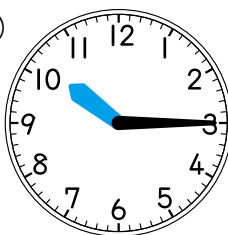
40点(1つ5)

①



()

②



()

みじかい はりで
「何時」、なが はりで
「何分」を
よむんだったね。



③



()

④



()

⑤



()

⑥



()

⑦



()

⑧

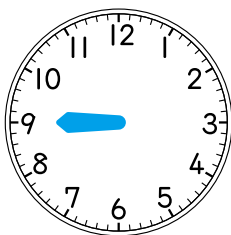


()

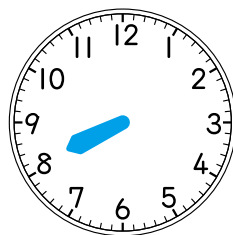
2 ^{なが}長い ^じはりを かきましょう。

36^{てん}点(1つ6)

① 9時

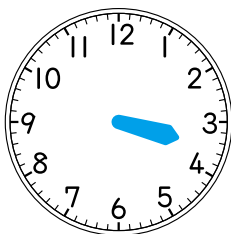


② 8時8^{ぶん}分

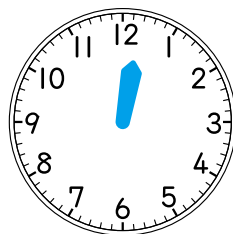


③ 3時30分

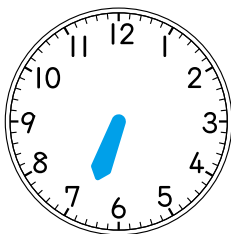
3時半^{はん}とも
いうよ。



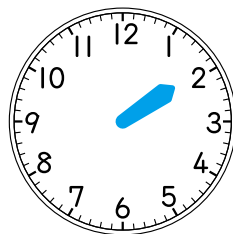
④ 12時20分



⑤ 6時41分

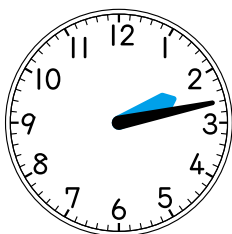


⑥ 1時52^{ぶん}分



3 ^{せん}線で むすびましょう。

24^{てん}点(1つ6)



•



•



•



•

12時

4:26

11:38

2時13分



8

1年生で ならった こと⑧ (時こくと時間)

月	日	時	分	時	分
なまえ		てん			

① 時計を よみましょう。


40点(1つ5)

①



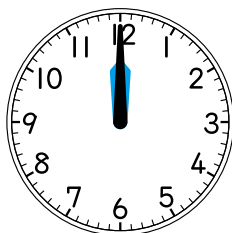
()

②



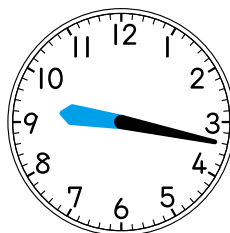
()

③



()

④



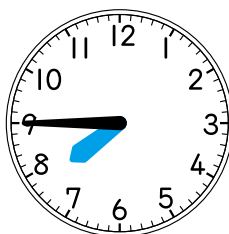
()

⑤



()

⑥

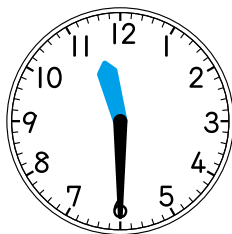


()

7時9分じゃ
ないよ。



⑦



()

⑧

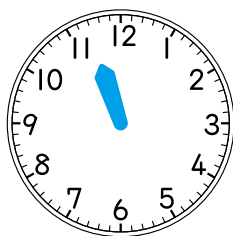


()

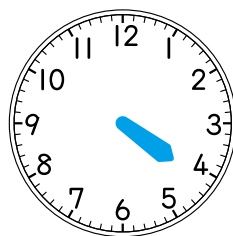
2 ^{なが}長い ^じはりを ^{ぶん}かきましょう。

36^{てん}点(1つ6)

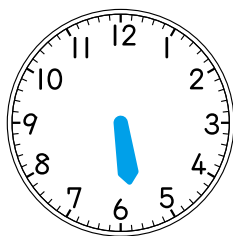
① 11時23分



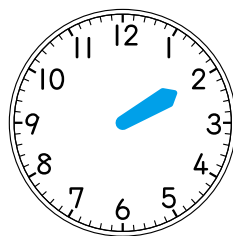
② 4時12分



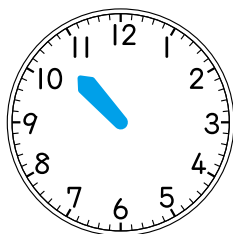
③ 5時43分



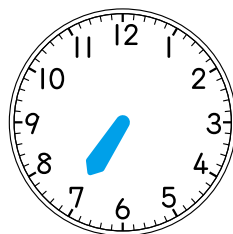
④ 2時



⑤ 10時35分

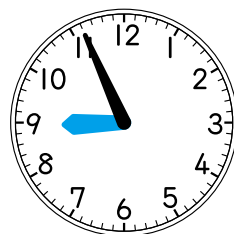
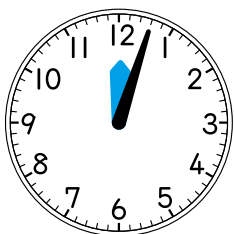


⑥ 7時6分



3 ^{せん}線で ^おおすびましょう。

24^{てん}点(1つ6)



•

•

•

•

•

•

•

•

8:56

1:39

12時3分

6時3分



くり上がりの ない たし算の ひっ算

月	日	時	分	分	分
名前			てん点		

① つぎの ^{けいさん}計算を ひっ算で しましょう。

30点(1つ3)

$$\begin{array}{r} 25 \\ + 14 \\ \hline \end{array} \rightarrow \begin{array}{r} 25 \\ + 14 \\ \hline 9 \end{array} \rightarrow \begin{array}{r} 25 \\ + 14 \\ \hline 39 \end{array}$$

一のくらいから
じゅんに たてに
たして いくよ。



く
ら
い
を
そ
ろ
え
て
か
く。

一
の
く
ら
い
を
た
す。
 $5+4=9$

十
の
く
ら
い
を
た
す。
 $2+1=3$

$$\begin{array}{r} 42 \\ + 25 \\ \hline \end{array}$$

$$\begin{array}{r} 63 \\ + 33 \\ \hline \end{array}$$

$$\begin{array}{r} 18 \\ + 81 \\ \hline \end{array}$$

$$\begin{array}{r} 36 \\ + 52 \\ \hline \end{array}$$

$$\begin{array}{r} 77 \\ + 12 \\ \hline \end{array}$$

$$\begin{array}{r} 51 \\ + 26 \\ \hline \end{array}$$

$$\begin{array}{r} 43 \\ + 32 \\ \hline \end{array}$$

$$\begin{array}{r} 35 \\ + 23 \\ \hline \end{array}$$

$$\begin{array}{r} 11 \\ + 18 \\ \hline \end{array}$$



10

くり上がりのある たし算の ひっ算

月	日	し 時	ふん 分～	時	分
なまえ 名前		てん 点			

① つぎの ^{けいさん}計算を ひっ算で しましょう。

30点(1つ3)

①

$$\begin{array}{r} 25 \\ + 37 \\ \hline \end{array} \rightarrow \begin{array}{r} | \\ 25 \\ + 37 \\ \hline 2 \end{array} \rightarrow \begin{array}{r} | \\ 25 \\ + 37 \\ \hline 62 \end{array}$$

十のくらの
上の ^{かず}数は、
くり上がった
数だよ。



くらを
そろえて
かく。

5+7=12
十のくらに
あ
くり上げる。

くり上げた
1とで
1+2+3=6

②

$$\begin{array}{r} 54 \\ + 29 \\ \hline \end{array}$$

③

$$\begin{array}{r} 6 \\ + 85 \\ \hline \end{array}$$

④

$$\begin{array}{r} 44 \\ + 18 \\ \hline \end{array}$$

⑤

$$\begin{array}{r} 64 \\ + 6 \\ \hline \end{array}$$

⑥

$$\begin{array}{r} 38 \\ + 43 \\ \hline \end{array}$$

⑦

$$\begin{array}{r} 73 \\ + 17 \\ \hline \end{array}$$

⑧

$$\begin{array}{r} 5 \\ + 28 \\ \hline \end{array}$$

⑨

$$\begin{array}{r} 17 \\ + 54 \\ \hline \end{array}$$

⑩

$$\begin{array}{r} 8 \\ + 42 \\ \hline \end{array}$$



11

くり下がりの ない ひき算の ひっ算

月	日	じ 時	ふん 分	時	分
なまえ 名前			てん 点		

① つぎの ^{けいさん}計算を ひっ算で しましょう。

30点(1つ3)

$$\begin{array}{r} 23 \\ -12 \\ \hline \end{array} \rightarrow \begin{array}{r} 23 \\ -12 \\ \hline \end{array} \rightarrow \begin{array}{r} 23 \\ -12 \\ \hline \end{array}$$

一のくらいから
じゅんに たてに
ひいて いくよ。

く
らいを
そろえて
かく。

一のく
らいを
ひく。
 $3-2=1$

十のく
らいを
ひく。
 $2-1=1$



$$\begin{array}{r} 37 \\ -20 \\ \hline \end{array}$$

$$\begin{array}{r} 56 \\ -41 \\ \hline \end{array}$$

$$\begin{array}{r} 49 \\ -40 \\ \hline \end{array}$$

$$\begin{array}{r} 18 \\ -13 \\ \hline \end{array}$$

$$\begin{array}{r} 64 \\ -31 \\ \hline \end{array}$$

$$\begin{array}{r} 77 \\ -7 \\ \hline \end{array}$$

$$\begin{array}{r} 54 \\ -23 \\ \hline \end{array}$$

$$\begin{array}{r} 85 \\ -55 \\ \hline \end{array}$$

$$\begin{array}{r} 34 \\ -11 \\ \hline \end{array}$$



12

くり下がりのある ひき算の ひっ算

月	日	し 時	ふん 分	時	分
なまえ 名前		てん 点			

① つぎの ^{けいさん}計算を ひっ算で しましょう。

30点(1つ3)

①

$$\begin{array}{r} 32 \\ -16 \\ \hline \end{array} \rightarrow \begin{array}{r} 2 \\ 32 \\ -16 \\ \hline 6 \end{array} \rightarrow \begin{array}{r} 2 \\ 32 \\ -16 \\ \hline 16 \end{array}$$

1 くり下げると
いうことは、
十のくらいの ^{かず}数を
1 へらすと いう
ことだね。

くらいを
そろえて
かく。

十のくらいから 1 くり下げた
1 くり下げる。ので
 $12 - 6 = 6$ $2 - 1 = 1$



②

$$\begin{array}{r} 74 \\ -47 \\ \hline \end{array}$$

③

$$\begin{array}{r} 51 \\ -23 \\ \hline \end{array}$$

④

$$\begin{array}{r} 48 \\ -9 \\ \hline \end{array}$$

⑤

$$\begin{array}{r} 43 \\ -36 \\ \hline \end{array}$$

⑥

$$\begin{array}{r} 90 \\ -69 \\ \hline \end{array}$$

⑦

$$\begin{array}{r} 36 \\ -28 \\ \hline \end{array}$$

⑧

$$\begin{array}{r} 52 \\ -45 \\ \hline \end{array}$$

⑨

$$\begin{array}{r} 97 \\ -78 \\ \hline \end{array}$$

⑩

$$\begin{array}{r} 60 \\ -19 \\ \hline \end{array}$$



13

1000までの数の計算①

月	日	時	分	分
名前		てん点		

① つぎの ^{けいさん}計算を しましょう。

27点(1つ3)

① $70 + 50 = 120$

10の ^{なんぶん}何こ分に ^{なるかな}なるかな。
70 + 50 なら、7 + 5 = 12で、12こ分 だね。

② $50 + 60$

③ $60 + 70$



④ $80 + 50$

⑤ $20 + 90$

⑥ $90 + 30$

⑦ $40 + 90$

⑧ $50 + 90$

⑨ $30 + 80$

② つぎの 計算を しましょう。

27点(1つ3)

① $120 - 30 = 90$

(10の ^{なんぶん}何こ分) - (10の ^{なんぶん}何こ分)
の ^{ひきざん}ひき算だよ。
120 - 30 なら、12 - 3 = 9で、
9こ分 だね。



② $110 - 30$

③ $150 - 90$

④ $130 - 60$

⑤ $180 - 90$

⑥ $140 - 70$

⑦ $120 - 80$

⑧ $170 - 90$

⑨ $110 - 60$



14

1000までの数の計算 ②

月	日	時	分	分
名前		てん点		

① つぎの ^{けいさん}計算を しましょう。

27点(1つ3)

① $300 + 200$

100の ^{なん}何^{ぶん}分に ^{なる}なるかな。
 $300 + 200$ なら、 $3 + 2 = 5$ で、
 5 ^こ分 ^{だね}だね。



② $600 + 300$

③ $700 + 100$

④ $400 + 500$

⑤ $200 + 700$

⑥ $100 + 900$

⑦ $800 + 200$

⑧ $500 + 30$

⑨ $600 + 10$

② つぎの 計算を しましょう。

27点(1つ3)

① $500 - 200$

(100の ^{なん}何^{ぶん}分) - (100の ^{なん}何^{ぶん}分)
 の ^{ひき}ひき^{ざん}算だよ。
 $500 - 200$ なら、 $5 - 2 = 3$ で、
 3 ^こ分 ^{だね}だね。



② $900 - 700$

③ $800 - 200$

④ $600 - 500$

⑤ $700 - 300$

⑥ $1000 - 600$

⑦ $1000 - 900$

⑧ $720 - 20$

⑨ $480 - 80$



15

十のくらいが くり上がる たし算の ひっ算

月	日	時	分	分
名前		てん点		

① つぎの ^{けいさん}計算を ひっ算で しましょう。

30点(1つ3)

①

$$\begin{array}{r} 62 \\ + 65 \\ \hline \end{array} \rightarrow \begin{array}{r} 62 \\ + 65 \\ \hline 7 \end{array} \rightarrow \begin{array}{r} 62 \\ + 65 \\ \hline 127 \end{array}$$

一のくらいから
じゅんに たして
いくよ。



くらいを
そろえて
かく。

一のくらいは

$$2+5=7$$

くりあがらない。百のくらいに

十のくらいは

$$6+6=12$$

1 くり上げる。

②

$$\begin{array}{r} 44 \\ + 73 \\ \hline \end{array}$$

③

$$\begin{array}{r} 70 \\ + 85 \\ \hline \end{array}$$

④

$$\begin{array}{r} 54 \\ + 92 \\ \hline \end{array}$$

⑤

$$\begin{array}{r} 33 \\ + 70 \\ \hline \end{array}$$

⑥

$$\begin{array}{r} 98 \\ + 61 \\ \hline \end{array}$$

⑦

$$\begin{array}{r} 21 \\ + 84 \\ \hline \end{array}$$

⑧

$$\begin{array}{r} 87 \\ + 51 \\ \hline \end{array}$$

⑨

$$\begin{array}{r} 56 \\ + 62 \\ \hline \end{array}$$

⑩

$$\begin{array}{r} 90 \\ + 34 \\ \hline \end{array}$$



16

一のくらい、十のくらいが
くり上がる たし算の ひっ算

月	日	し 時	ふん 分	時	分
なまえ 名前		てん 点			

① つぎの ^{けいさん}計算を ひっ算で しましょう。

30点(1つ3)

①

$$\begin{array}{r} 45 \\ + 78 \\ \hline \end{array} \rightarrow \begin{array}{r} | \\ 45 \\ + 78 \\ \hline 3 \end{array} \rightarrow \begin{array}{r} | \\ 45 \\ + 78 \\ \hline 123 \end{array}$$

十のくらいは
くり上げた
1も たすよ。



く
ら
い
を
そ
ろ
え
て
か
く。

一のくらいは

$$5 + 8 = 13$$

十のくらいは

$$1 + 4 + 7 = 12$$

十のくらいに

百のくらいに

1 ^あくり上げる。 1 ^あくり上げる。

②

$$\begin{array}{r} 57 \\ + 63 \\ \hline \end{array}$$

③

$$\begin{array}{r} 26 \\ + 95 \\ \hline \end{array}$$

④

$$\begin{array}{r} 94 \\ + 8 \\ \hline \end{array}$$

⑤

$$\begin{array}{r} 81 \\ + 49 \\ \hline \end{array}$$

⑥

$$\begin{array}{r} 68 \\ + 54 \\ \hline \end{array}$$

⑦

$$\begin{array}{r} 72 \\ + 99 \\ \hline \end{array}$$

⑧

$$\begin{array}{r} 39 \\ + 71 \\ \hline \end{array}$$

⑨

$$\begin{array}{r} 83 \\ + 77 \\ \hline \end{array}$$

⑩

$$\begin{array}{r} 9 \\ + 96 \\ \hline \end{array}$$



17

百のくらいから くり下がる ひき算の ひっ算

月	日	じ 時	ふん 分	時	分
なまえ 名前		てん 点			

① つぎの ^{けいさん}計算を ひっ算で しましょう。

30点(1つ3)

①
$$\begin{array}{r} 126 \\ - 64 \\ \hline \end{array} \rightarrow \begin{array}{r} 126 \\ - 64 \\ \hline 2 \end{array} \rightarrow \begin{array}{r} 126 \\ - 64 \\ \hline 62 \end{array}$$

ひけない ときは、
1つ 上の くらいから
くり下げて くるよ。

く
ら
い
を
そ
ろ
え
て
か
く。

一のく
ら
い
は
 $6-4=2$
くり下がりなし。

十のく
ら
い
は
百のく
ら
い
か
ら
1
く
り
下
げ
て、
 $12-6=6$



②
$$\begin{array}{r} 154 \\ - 81 \\ \hline \end{array}$$

③
$$\begin{array}{r} 167 \\ - 73 \\ \hline \end{array}$$

④
$$\begin{array}{r} 179 \\ - 95 \\ \hline \end{array}$$

⑤
$$\begin{array}{r} 115 \\ - 52 \\ \hline \end{array}$$

⑥
$$\begin{array}{r} 178 \\ - 86 \\ \hline \end{array}$$

⑦
$$\begin{array}{r} 146 \\ - 65 \\ \hline \end{array}$$

⑧
$$\begin{array}{r} 105 \\ - 33 \\ \hline \end{array}$$

⑨
$$\begin{array}{r} 109 \\ - 71 \\ \hline \end{array}$$

⑩
$$\begin{array}{r} 104 \\ - 52 \\ \hline \end{array}$$



18

十のくらい、百のくらいから
くり下がる ひき算の ひっ算

月	日	じ 時	ふん 分	時	分
なまえ 名前		てん 点			

① つぎの ^{けいさん}計算を ひっ算で しましょう。

30点(1つ3)

①

$$\begin{array}{r}
 122 \\
 - 94 \\
 \hline
 \end{array}
 \rightarrow
 \begin{array}{r}
 1\cancel{2}2 \\
 - 94 \\
 \hline
 8
 \end{array}
 \rightarrow
 \begin{array}{r}
 1\cancel{2}2 \\
 - 94 \\
 \hline
 28
 \end{array}$$

く
ら
い
を
そ
ろ
え
て
か
く。

一のく
ら
い
は
十のく
ら
い
か
ら
一
く
り
下
げ
て、
 $12-4=8$

十のく
ら
い
は
百のく
ら
い
か
ら
一
く
り
下
げ
て、
 $11-9=2$

一のくらいも
十のくらいも
りょうほう
ひけないね。



②

$$\begin{array}{r}
 116 \\
 - 67 \\
 \hline
 \end{array}$$

③

$$\begin{array}{r}
 134 \\
 - 86 \\
 \hline
 \end{array}$$

④

$$\begin{array}{r}
 153 \\
 - 59 \\
 \hline
 \end{array}$$

⑤

$$\begin{array}{r}
 147 \\
 - 78 \\
 \hline
 \end{array}$$

⑥

$$\begin{array}{r}
 142 \\
 - 85 \\
 \hline
 \end{array}$$

⑦

$$\begin{array}{r}
 125 \\
 - 48 \\
 \hline
 \end{array}$$

⑧

$$\begin{array}{r}
 131 \\
 - 93 \\
 \hline
 \end{array}$$

⑨

$$\begin{array}{r}
 138 \\
 - 39 \\
 \hline
 \end{array}$$

⑩

$$\begin{array}{r}
 194 \\
 - 97 \\
 \hline
 \end{array}$$



19

たし算と ひき算の ひっ算 ①

月	日	し 時	ふん 分～	時	分
なまえ 名前				てん 点	

① つぎの ^{けいさん}計算を ひっ算で しましょう。 24点(1つ4)

①
$$\begin{array}{r} 129 \\ + 40 \\ \hline \end{array}$$

②
$$\begin{array}{r} 351 \\ + 19 \\ \hline \end{array}$$

③
$$\begin{array}{r} 245 \\ + 28 \\ \hline \end{array}$$

④
$$\begin{array}{r} 536 \\ + 56 \\ \hline \end{array}$$

⑤
$$\begin{array}{r} 418 \\ + 7 \\ \hline \end{array}$$

⑥
$$\begin{array}{r} 767 \\ + 24 \\ \hline \end{array}$$

② つぎの 計算を ひっ算で しましょう。 24点(1つ4)

①
$$\begin{array}{r} 673 \\ - 35 \\ \hline \end{array}$$

②
$$\begin{array}{r} 387 \\ - 69 \\ \hline \end{array}$$

③
$$\begin{array}{r} 751 \\ - 51 \\ \hline \end{array}$$

④
$$\begin{array}{r} 592 \\ - 73 \\ \hline \end{array}$$

⑤
$$\begin{array}{r} 824 \\ - 9 \\ \hline \end{array}$$

⑥
$$\begin{array}{r} 435 \\ - 28 \\ \hline \end{array}$$



20

たし算と ひき算の ひっ算 ②

月	日	じ 時	ふん 分	時	分
なまえ 名前		てん 点			

① つぎの ^{けいさん}計算を ひっ算で しましょう。 70点(1つ5)

$$\begin{array}{r} \textcircled{1} \quad 369 \\ + 24 \\ \hline \end{array}$$

$$\begin{array}{r} \textcircled{2} \quad 428 \\ - 11 \\ \hline \end{array}$$

$$\begin{array}{r} \textcircled{3} \quad 731 \\ + 9 \\ \hline \end{array}$$

$$\begin{array}{r} \textcircled{4} \quad 540 \\ + 53 \\ \hline \end{array}$$

$$\begin{array}{r} \textcircled{5} \quad 878 \\ - 8 \\ \hline \end{array}$$

$$\begin{array}{r} \textcircled{6} \quad 254 \\ + 35 \\ \hline \end{array}$$

$$\begin{array}{r} \textcircled{7} \quad 696 \\ - 47 \\ \hline \end{array}$$

$$\begin{array}{r} \textcircled{8} \quad 987 \\ + 6 \\ \hline \end{array}$$

$$\begin{array}{r} \textcircled{9} \quad 180 \\ + 11 \\ \hline \end{array}$$

$$\begin{array}{r} \textcircled{10} \quad 373 \\ - 6 \\ \hline \end{array}$$

$$\begin{array}{r} \textcircled{11} \quad 952 \\ - 24 \\ \hline \end{array}$$

$$\begin{array}{r} \textcircled{12} \quad 426 \\ + 67 \\ \hline \end{array}$$

$$\begin{array}{r} \textcircled{13} \quad 135 \\ + 59 \\ \hline \end{array}$$

$$\begin{array}{r} \textcircled{14} \quad 761 \\ - 13 \\ \hline \end{array}$$

たし^{さん}算と ひき算を
まちがえないでね。





21

5のだん，2のだんの 九九

月	日	し 時	ふん 分～	時	分
なまえ 名前		てん 点			

① 5のだんの 九九をつくりましょう。

27点(1つ3)

① $5 \times 1 = 5$

② $5 \times 2 = 10$

③ $5 \times 3 = 15$

④ 5×4

⑤ 5×5

⑥ 5×6

⑦ 5×7

⑧ 5×8

⑨ 5×9

5× かける数が 5のだんだよ。
かける数が 1 ふえると，
答えは 5ずつ ふえて いくよ。



② 2のだんの 九九をつくりましょう。

27点(1つ3)

① $2 \times 1 = 2$

② $2 \times 2 = 4$

③ $2 \times 3 = 6$

④ 2×4

⑤ 2×5

⑥ 2×6

⑦ 2×7

⑧ 2×8

⑨ 2×9

2× かける数が 2のだんだよ。
かける数が 1 ふえると，
答えは 2ずつ ふえて いくよ。





22

3のだん，4のだんの 九九

月	日	時	分	分
名前		てん点		

① 3のだんの 九九を つくりましょう。

27点(1つ3)

① $3 \times 1 = 3$

② $3 \times 2 = 6$

③ $3 \times 3 = 9$

④ 3×4

⑤ 3×5

⑥ 3×6

⑦ 3×7

⑧ 3×8

⑨ 3×9

3× かける数が 3 のだんだよ。
かける数が 1 ふえると，
答えは 3 ずつ ふえて いくよ。



② 4のだんの 九九を つくりましょう。

27点(1つ3)

① $4 \times 1 = 4$

② $4 \times 2 = 8$

③ $4 \times 3 = 12$

④ 4×4

⑤ 4×5

⑥ 4×6

⑦ 4×7

⑧ 4×8

⑨ 4×9

4× かける数が 4 のだんだよ。
かける数が 1 ふえると，
答えは 4 ずつ ふえて いくよ。





23

2, 3, 4, 5 のだんの
九九

月	日	時	分	分
名前		てん点		

① 2 のだんの ^く九九の ^{けいさん}計算を しましょう。 8点(1つ2)

① 2×8

② 2×4

③ 2×7

④ 2×3

② 3 のだんの 九九の 計算を しましょう。 8点(1つ2)

① 3×2

② 3×9

③ 3×6

④ 3×5

③ 4 のだんの 九九の 計算を しましょう。 8点(1つ2)

① 4×3

② 4×7

③ 4×1

④ 4×4

④ 5 のだんの 九九の 計算を しましょう。 8点(1つ2)

① 5×6

② 5×2

③ 5×7

④ 5×9



24

6のだん, 7のだんの 九九

月	日	時	分	分
なまえ 名前			てん 点	

① 6のだんの 九九をつくりましょう。

27点(1つ3)

① $6 \times 1 = 6$

② $6 \times 2 = 12$

③ $6 \times 3 = 18$

④ 6×4

⑤ 6×5

⑥ 6×6

⑦ 6×7

⑧ 6×8

⑨ 6×9

6× かける数が 6のだんだよ。
かける数が 1 ふえると、
答えは 6ずつ ふえて いくよ。



② 7のだんの 九九をつくりましょう。

27点(1つ3)

① $7 \times 1 = 7$

② $7 \times 2 = 14$

③ $7 \times 3 = 21$

④ 7×4

⑤ 7×5

⑥ 7×6

⑦ 7×7

⑧ 7×8

⑨ 7×9

7× かける数が 7のだんだよ。
かける数が 1 ふえると、
答えは 7ずつ ふえて いくよ。





25

8のだん、9のだん、
1のだんの 九九

月	日	時	分	時	分
なまえ 名前		てん 点			

① 8のだんの 九九をつくりましょう。

27点(1つ3)

① $8 \times 1 = 8$

② $8 \times 2 = 16$

③ $8 \times 3 = 24$

④ 8×4

⑤ 8×5

⑥ 8×6

⑦ 8×7

⑧ 8×8

⑨ 8×9

8× かける数が 8のだんだよ。
かける数が 1 ふえると、
答えは 8ずつ ふえて いくよ。



② 9のだんの 九九をつくりましょう。

27点(1つ3)

① $9 \times 1 = 9$

② $9 \times 2 = 18$

③ $9 \times 3 = 27$

④ 9×4

⑤ 9×5

⑥ 9×6

⑦ 9×7

⑧ 9×8

⑨ 9×9

9× かける数が 9のだんだよ。
かける数が 1 ふえると、
答えは 9ずつ ふえて いくよ。





26

6, 7, 8, 9, 1
のだんの 九九

月	日	し 時	ふん 分	時	分
なまえ 名前		てん 点			

① □に あてはまる ^{かず} 数を かきましょう。

10点(1つ2)

① 7×1 は, □ のだんの 九九です。

② 8×3 は, □ のだんの 九九です。

③ 6×2 は, □ のだんの 九九です。

④ 1×9 は, □ のだんの 九九です。

⑤ 9×7 は, □ のだんの 九九です。

② □に あてはまる 数を かきましょう。

21点(1つ3)

① $8 \times$ □ は, 8×4 より 8 大きい。

② $1 \times$ □ は, 1×7 より 1 大きい。

③ 6×6 は, 6×5 より □ 大きい。

④ 9×7 は, 9×8 より □ 小さい。

⑤ 7×5 は, 7×6 より □ 小さい。

⑥ 1 の 3 ^{ぶん} 分は □

⑦ 9 の 2 分は □





27

九九

月 日 時 分 分

なまえ
名前てん
点

① □に あてはまる ^{かず} 数を かきましょう。

52点(1つ2)

① いんご 一五が

② くさん 九三

③ ごは 五八

④ しちご 七五

⑤ はちさん 八三

⑥ にいち 二一が

⑦ しご 四五

⑧ さんに 三二が

⑨ くく 九九

⑩ いんはち 一八が

⑪ ろくし 六四

⑫ ににん 二二が

⑬ ごさん 五三

⑭ はちしち 八七

⑮ しに 四二が

⑯ さんし 三四

⑰ しちく 七九

⑰ に はち 二八

⑱ くし 九四

⑳ いんに 一二が

㉑ ろくろく 六六

㉒ ごっく 五九

㉓ はちに 八二

㉔ ししち 四七

㉕ しちろく 七六

㉖ くろく 九六





1年の

たし算・ひき算



1 | 1年生で ならった こと①

- 1 ①3 ②4
③6 ④7
⑤8 ⑥7
⑦9 ⑧9
⑨10 ⑩10
⑪1 ⑫9
⑬14 ⑭11
⑮14 ⑯14
⑰11 ⑱14
⑲11 ⑳12
㉑15 ㉒70
㉓29

- 2 ①1 ②2
③2 ④4
⑤6 ⑥5
⑦2 ⑧5
⑨2 ⑩9
⑪3 ⑫7
⑬9 ⑭8
⑮10 ⑯40
⑰33 ⑱8
⑲9 ⑳25
3 ①5 ②14
③3 ④11
⑤5 ⑥13
⑦17



2 | 1年生で ならった こと②

- 1 ①5 ②4
③8 ④9
⑤8 ⑥9
⑦9 ⑧7
⑨10 ⑩10
⑪2 ⑫8
⑬12 ⑭12
⑮12 ⑯16
⑰13 ⑱12
⑲12 ⑳13
㉑16 ㉒70
㉓36

- 2 ①1 ②1
③7 ④2
⑤1 ⑥3
⑦4 ⑧4
⑨7 ⑩0
⑪7 ⑫6
⑬6 ⑭6
⑮10 ⑯20
⑰30 ⑱12
⑲12 ⑳10
3 ①14 ②1
③4 ④4
⑤10 ⑥13
⑦14

🏠 おうちの方へ

ゆびやブロックをつかわず、あたみの中で計算できるようにすることがたいせつです。1と9、2と8のような10になる数のくみあわせがすらすらできるようにしましょう。

1 ⑬～⑳あといくつで10になるかをかんがえます。

2 ⑪～⑭、⑱、⑲10のまとまりからひくことを考えます。

⑪10から9をひいて1、

1と2で3

または

12から2をひいて10

10から7をひいて3

🏠 おうちの方へ

くり上がりのあるたし算やくり下がりのあるひき算は、まちがえやすいので、気をつけましょう。9をたすのはとくいだが、6をたすのはにがて、というように、数によって計算しづらいこともあります。まちがえたところは、しっかりふくしゅうしておきましょう。



1年の 計算



3 | 1年生で ならった こと ③

- | | |
|--|--|
| 1 ①5 ②9
③4 ④10
⑤6 ⑥5
⑦2 ⑧7
⑨0 | 3 ①11 ②10
③9 ④11
⑤12 ⑥6
⑦6 ⑧13
⑨8 ⑩16
⑪13 ⑫7
⑬12 ⑭9
⑮9 ⑯13
⑰15 ⑱8
⑲9 ⑳17 |
| 2 ①13 ②11
③20 ④16
⑤17 ⑥5
⑦2 ⑧6
⑨9 ⑩10
⑪4 | |

🏠 おうちの方へ | 1年生のふくしゅうなので、まちがえたら、しっかり見なおしましょう。

- 1** 答えが10までの数のたし算と、くり下がりのないひき算です。
- 2** ことばであらわされた、たし算とひき算のもんだいです。たし算やひき算のしきにかきなおして、計算した答えが、あてはまる数になります。
- 3** くり上がりのあるたし算と、くり下がりのあるひき算です。たし算かひき算か記ごうにちゅういします。



4 | 1年生で ならった こと ④

- | | |
|--|---|
| 1 ①100
③1
⑤10 | ②10
④2
⑥80 |
| 2 ①8
③4
⑤9
⑦7
⑨1 | ②1
④8
⑥3
⑧4
⑩9 |
| 3 ①9
③5
⑤8
⑦5
⑨6
⑪4
⑬8
⑮6
⑰7
⑲14 | ②5
④4
⑥9
⑧5
⑩8
⑫7
⑭6
⑯11
⑰9
⑱9 |

🏠 おうちの方へ 100までの数と、3つの数の計算のふくしゅうです。

- 1** わかりにくければ、図や数の線をかいて考えてみるとよいでしょう。
- 2・3** たし算とひき算のまじった3つの数の計算もんだいです。くり上がりはありませんが、+、-の記ごうに気をつけましょう。

答

え

1年の

数・りょう・図形



5 1年生で ならった こと ⑤

- ① ①42 ②56
③100 ④134
- ② ①47 ②3、8
③8、2 ④45
- ③ ①60、62 ②60、30
- ④ ①30に○ ②51に○ ③98に○
- ⑤ ①い ②お
- ⑥ ①9時^じ ②2時30分^{ぶん} ③6時10分
- ⑦ ①3まい ②5まい ③4まい

おうちの方へ 1年生でならったことのふくしゅうです。

- ① 10が10こで100になることをしっかりおさえましょう。どのくらいにどの数字^{すうじ}がくるかなど、数のしくみがりがいできているかをかくにん^{かん}しましょう。2年生では、さらに大きい数を学^{まな}びますので、きほんをみにつけておくことが大切^{たいせつ}です。
- ⑥ 時^いこく^{なん}を正^{ただ}しくによみとれるように、家で何^{なん}でもれんしゅうしておきましょう。



6 1年生で ならった こと ⑥

- ① 3、7
- ② ①80 ②98 ③8 ④116
- ③ ①13、18、23
②77、86、100、115

- ④ ①64、56、46
②81、79、78
③120、112、109、102、99

- ⑤ ① () (○) ()
② () () (○)

- ⑥ ① ②

- ⑦

おうちの方へ かさ、時^{かたち}こく、形は、2年生でさらにくわしく学^{まな}びます。できていないところは、しっかりふくしゅうしておきましょう。

- ⑦ 見えないぶぶんがどのような形になっているか、そうぞうすることが大切です。じっさいにつみきなどをつかって、かくにん^{かん}しましょう。

答

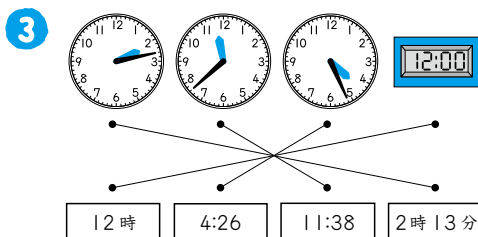

え

1年の 時と時間



7 1年生で ならった こと ⑦

- ① ⑦時^じ ② 10時15分^{ふん}
 ③ 6時4分^{ぶん}
 ④ 8時30分(8時半^{はん})
 ⑤ 3時48分 ⑥ 1時21分
 ⑦ 9時56分 ⑧ 5時34分



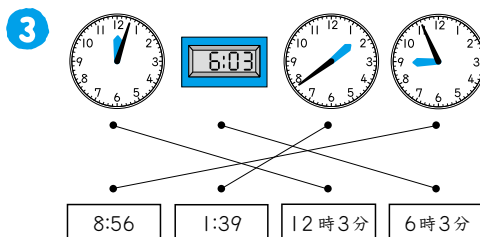

④ おうちの方へ 1年生でならった時計

のしくみや時間のよみ方がみについているかどうかをたしかめるもんだいです。

- ① ⑦みじかいはりが通りすぎた数字は「9」だから、「10時56分」ではなく、「9時56分」と理^りかいしているかどうか見てあげましょう。
- ② ②数字の「1」が5分だから、そこから右まわりに1目もりずつ6分、7分、8分とかぞえていけばわかります。

8 1年生で ならった こと ⑧

- ① ⑤時19分 ② 10時51分
 ③ 12時 ④ 9時17分
 ⑤ 4時2分 ⑥ 7時45分
 ⑦ 11時30分(11時半)
 ⑧ 2時24分



④ おうちの方へ ③のようなもんだい

では、あたえられた時計がそれぞれ「何時何分」なのかを、声に出してよんでから答えさせるようにするとよいでしょう。

- ① ⑥長い^{なが}いはりが「9」をさしている^{ふん}ので、7時9分とよむまちがいがおおいようです。長い^{なが}いはりの「何分」は、小さい目^めもりの数^{かず}をかぞえることをかくにんしておきます。
- ③ デジタル時計^{とけい}のよみ方^{かた}をかくにんしておきましょう。03の0はよまない^{よまない}ので6時3分です。

14 1000までの数の計算②

- 1 ①500
②900 ③800
④900 ⑤900
⑥1000 ⑦1000
⑧530 ⑨610
- 2 ①300
②200 ③600
④100 ⑤400
⑥400 ⑦100
⑧700 ⑨400

15 十のくらいがくり上がるたし算のひっ算

- 1 ① $\begin{array}{r} 62 \\ +65 \\ \hline 7 \end{array} \rightarrow \begin{array}{r} 62 \\ +65 \\ \hline 127 \end{array}$
- ② $\begin{array}{r} 44 \\ +73 \\ \hline 117 \end{array}$ ③ $\begin{array}{r} 70 \\ +85 \\ \hline 155 \end{array}$ ④ $\begin{array}{r} 54 \\ +92 \\ \hline 146 \end{array}$
- ⑤ $\begin{array}{r} 33 \\ +70 \\ \hline 103 \end{array}$ ⑥ $\begin{array}{r} 98 \\ +61 \\ \hline 159 \end{array}$ ⑦ $\begin{array}{r} 21 \\ +84 \\ \hline 105 \end{array}$
- ⑧ $\begin{array}{r} 87 \\ +51 \\ \hline 138 \end{array}$ ⑨ $\begin{array}{r} 56 \\ +62 \\ \hline 118 \end{array}$ ⑩ $\begin{array}{r} 90 \\ +34 \\ \hline 124 \end{array}$

16 一のくらい、十のくらいがくり上がるたし算のひっ算

- 1 ① $\begin{array}{r} 45 \\ +78 \\ \hline 3 \end{array} \rightarrow \begin{array}{r} 45 \\ +78 \\ \hline 123 \end{array}$
- ② $\begin{array}{r} 57 \\ +63 \\ \hline 120 \end{array}$ ③ $\begin{array}{r} 26 \\ +95 \\ \hline 121 \end{array}$ ④ $\begin{array}{r} 94 \\ +8 \\ \hline 102 \end{array}$
- ⑤ $\begin{array}{r} 81 \\ +49 \\ \hline 130 \end{array}$ ⑥ $\begin{array}{r} 68 \\ +54 \\ \hline 122 \end{array}$ ⑦ $\begin{array}{r} 72 \\ +99 \\ \hline 171 \end{array}$
- ⑧ $\begin{array}{r} 39 \\ +71 \\ \hline 110 \end{array}$ ⑨ $\begin{array}{r} 83 \\ +77 \\ \hline 160 \end{array}$ ⑩ $\begin{array}{r} 9 \\ +96 \\ \hline 105 \end{array}$

17 百のくらいからくり下がるひき算のひっ算

- 1 ① $\begin{array}{r} 126 \\ -64 \\ \hline 2 \end{array} \rightarrow \begin{array}{r} 126 \\ -64 \\ \hline 62 \end{array}$
- ② $\begin{array}{r} 154 \\ -81 \\ \hline 73 \end{array}$ ③ $\begin{array}{r} 167 \\ -73 \\ \hline 94 \end{array}$ ④ $\begin{array}{r} 179 \\ -95 \\ \hline 84 \end{array}$
- ⑤ $\begin{array}{r} 115 \\ -52 \\ \hline 63 \end{array}$ ⑥ $\begin{array}{r} 178 \\ -86 \\ \hline 92 \end{array}$ ⑦ $\begin{array}{r} 146 \\ -65 \\ \hline 81 \end{array}$
- ⑧ $\begin{array}{r} 105 \\ -33 \\ \hline 72 \end{array}$ ⑨ $\begin{array}{r} 109 \\ -71 \\ \hline 38 \end{array}$ ⑩ $\begin{array}{r} 104 \\ -52 \\ \hline 52 \end{array}$

18 十のくらい、百のくらいからくり下がるひき算のひっ算

- 1 ① $\begin{array}{r} 122 \\ -94 \\ \hline 8 \end{array} \rightarrow \begin{array}{r} 122 \\ -94 \\ \hline 28 \end{array}$
- ② $\begin{array}{r} 116 \\ -67 \\ \hline 49 \end{array}$ ③ $\begin{array}{r} 134 \\ -86 \\ \hline 48 \end{array}$ ④ $\begin{array}{r} 153 \\ -59 \\ \hline 94 \end{array}$
- ⑤ $\begin{array}{r} 147 \\ -78 \\ \hline 69 \end{array}$ ⑥ $\begin{array}{r} 142 \\ -85 \\ \hline 57 \end{array}$ ⑦ $\begin{array}{r} 125 \\ -48 \\ \hline 77 \end{array}$
- ⑧ $\begin{array}{r} 131 \\ -93 \\ \hline 38 \end{array}$ ⑨ $\begin{array}{r} 138 \\ -39 \\ \hline 99 \end{array}$ ⑩ $\begin{array}{r} 194 \\ -97 \\ \hline 97 \end{array}$

19 たし算とひき算のひっ算①

- 1 ① $\begin{array}{r} 129 \\ +40 \\ \hline 169 \end{array}$ ② $\begin{array}{r} 351 \\ +19 \\ \hline 370 \end{array}$ ③ $\begin{array}{r} 245 \\ +28 \\ \hline 273 \end{array}$
- ④ $\begin{array}{r} 536 \\ +56 \\ \hline 592 \end{array}$ ⑤ $\begin{array}{r} 418 \\ +7 \\ \hline 425 \end{array}$ ⑥ $\begin{array}{r} 767 \\ +24 \\ \hline 791 \end{array}$
- 2 ① $\begin{array}{r} 673 \\ -35 \\ \hline 638 \end{array}$ ② $\begin{array}{r} 387 \\ -69 \\ \hline 318 \end{array}$ ③ $\begin{array}{r} 751 \\ -51 \\ \hline 700 \end{array}$
- ④ $\begin{array}{r} 592 \\ -73 \\ \hline 519 \end{array}$ ⑤ $\begin{array}{r} 824 \\ -9 \\ \hline 815 \end{array}$ ⑥ $\begin{array}{r} 435 \\ -28 \\ \hline 407 \end{array}$

20 たし算と ひき算の ひっ算②

- ① $\begin{array}{r} 369 \\ + 24 \\ \hline 393 \end{array}$ ② $\begin{array}{r} 428 \\ - 11 \\ \hline 417 \end{array}$ ③ $\begin{array}{r} 731 \\ + 9 \\ \hline 740 \end{array}$
 ④ $\begin{array}{r} 540 \\ + 53 \\ \hline 593 \end{array}$ ⑤ $\begin{array}{r} 878 \\ - 8 \\ \hline 870 \end{array}$ ⑥ $\begin{array}{r} 254 \\ + 35 \\ \hline 289 \end{array}$
 ⑦ $\begin{array}{r} 696 \\ - 47 \\ \hline 649 \end{array}$ ⑧ $\begin{array}{r} 987 \\ + 6 \\ \hline 993 \end{array}$ ⑨ $\begin{array}{r} 180 \\ + 11 \\ \hline 191 \end{array}$
 ⑩ $\begin{array}{r} 373 \\ - 6 \\ \hline 367 \end{array}$ ⑪ $\begin{array}{r} 952 \\ - 24 \\ \hline 928 \end{array}$ ⑫ $\begin{array}{r} 426 \\ + 67 \\ \hline 493 \end{array}$
 ⑬ $\begin{array}{r} 135 \\ + 59 \\ \hline 194 \end{array}$ ⑭ $\begin{array}{r} 761 \\ - 13 \\ \hline 748 \end{array}$

21 5のだん, 2のだんの 九九

- ① ①5 ②10 ③15 ④20 ⑤25 ⑥30 ⑦35 ⑧40 ⑨45
 ② ①2 ②4 ③6 ④8 ⑤10 ⑥12 ⑦14 ⑧16 ⑨18

22 3のだん, 4のだんの 九九

- ① ①3 ②6 ③9 ④12 ⑤15 ⑥18 ⑦21 ⑧24 ⑨27
 ② ①4 ②8 ③12 ④16 ⑤20 ⑥24 ⑦28 ⑧32 ⑨36

23 2, 3, 4, 5のだんの 九九

- ① ①16 ②8 ③14 ④6
 ② ①6 ②27 ③18 ④15
 ③ ①12 ②28 ③4 ④16
 ④ ①30 ②10 ③35 ④45

24 6のだん, 7のだんの 九九

- ① ①6 ②12 ③18 ④24 ⑤30 ⑥36 ⑦42 ⑧48 ⑨54
 ② ①7 ②14 ③21 ④28 ⑤35 ⑥42 ⑦49 ⑧56 ⑨63

25 8のだん, 9のだん, 1のだんの 九九

- ① ①8 ②16 ③24 ④32 ⑤40 ⑥48 ⑦56 ⑧64 ⑨72
 ② ①9 ②18 ③27 ④36 ⑤45 ⑥54 ⑦63 ⑧72 ⑨81

26 6, 7, 8, 9, 1のだんの 九九

- ① ①7 ②8 ③6 ④1 ⑤9
 ② ①5 ②8 ③6 ④9 ⑤7 ⑥3 ⑦18

27 九九

- ① ①5 ②27 ③40 ④35 ⑤24 ⑥2 ⑦20 ⑧6 ⑨81 ⑩8 ⑪24 ⑫4 ⑬15 ⑭56
 ⑮8 ⑯12 ⑰63 ⑱16 ⑲36 ⑳2 ㉑36 ㉒45 ㉓16 ㉔28 ㉕42 ㉖54



刀・万・丸・工
2画・3画



名前

月 日

もくひょう時間 15分

点




□にあてはまる かん字を 書きましょう。

70点(二つ10)

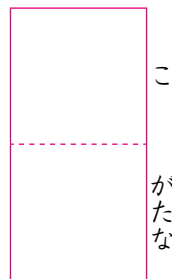
①

長い なが



をもつ。

②



で 竹を 細く ほそ けずる。

③



の じてん車を 買う か。

④


正しい

答え こた に



をつける。

⑤



い 玉を 力 ちから いっぱい なげる。

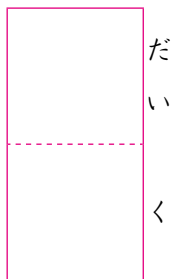
⑥

図 ず

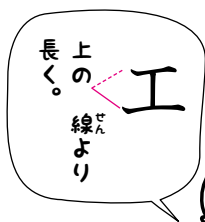


の 時間 じかん に 本立 ほんたち てを 作 つく った。

⑦



さんが 木を トントン たたく。





3画・4画

オ・弓・引・牛



名前

月 日

もくひょう時間 15分

点



□にあてはまるかん字を書きましょう。

70点(二つ10)

①

ぶん さい

のある人。

②

かれは、サッカーの

てん さい

だ。

③

ゆ み

から 矢をはなつ。

④

まっすぐに 線を

ひ

く。

⑤

りっぱな 人の ことばを

いん

用する。

⑥

う し

が 草を 食べて いる。

⑦

ぼくは、毎日

ぎゆう

にゆうを のみます。

「ゆみ」は、
三画で書くよ。





午・元・戸・公



名前

月 日

もくひょう時間 15分

点



□にあてはまる かん字を 書きましょう。

70点(二つ10)

①

きょうの



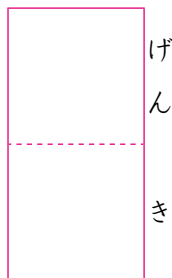
前中は、雨が ふった。

②



後になると、たぶん 晴れるだろう。

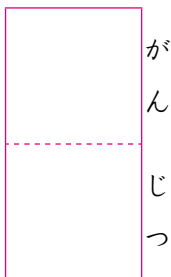
③



な 声で あいさつを する。

④

ことしの



は、よく 晴れた。

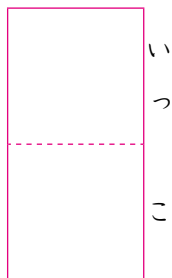
⑤

しずかに



をしめる。

⑥



だての 家に 引っこす。

⑦

近くの



園で 友だちと あそんだ。



「がんじつ」とは
一月一日のことだよ。



今・止・少・心



名前

月 日

もくひょう時間 15分


点



□にあてはまる かん字を 書きましょう。

70点(二つ10)

①

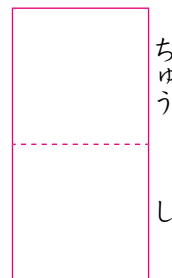


いま

すぐ 出かけると、まにあうだろう。

②

雨のため、花火大会が



ちゅう し

になった。

③

とけいが



と

まる。

④

川の 水が



すく

なくなる。

⑤

花の たねを



すこ

しだけ もらう。

⑥

夏休みは、早ね早おきを



こころ

がけよう。

⑦

町の



ちゅう

しん

に 公園がある。

止 正
少 小
書きまちがえ
ないように。





切・分・太・父



名前

月 日

もくひょう時間 15分

点



□にあてはまる かん字を 書きましよう。

70点(二つ10)

① 木の えだを

□る。

② おじいさんが 親^{しん}に 教^{おし}えて くれる。

□せつ

③ パンを 二つに け^わる。

□わ

④ ここから えきまでは、 け^ごかかる。

□ごふん

⑤ ねこが まるまる

□ふとる。

⑥ 陽^{よう}が てりつける。

□たい

⑦ ち^ちと 母^{はは}は、もう すぐ 帰^{かえ}って きます。

□ちち



太^点を わすれない ように。



方・毛・友・内



名前

月 日

もくひょう時間 15分

点



□にあてはまるかん字を書きましょう。


70点(二つ10)

①おもちゃの作りつくをか教えておしもらう。




かた

②お日さまが西にしの角かくにほしずむ。



ほう

③系のマフラーをか買ってけもらう。




け

④だちととかぶと虫をとりに行いった。



とも

⑤わたしには、二人ふたりの親しんがゆいる。



ゆう


⑥はこのがわに色いろをぬる。



うち



⑦車なでさわぐのはやめましよう。



ない





7 外・兄・母・古



名前

月 日

もくひょう時間 15分

点



□にあてはまるかん字を書きましょう。

70点(二つ10)


①

家のいえ



に 出る。


②



国のことばを おぼえる。

③

わたしの



は、六年生です。

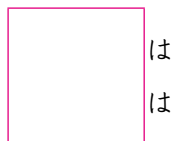
④

ぼくたちは、よく



弟げんかをする。

⑤



は、あみものが とくいです。


⑥



いたてものを こわす。

⑦

天気よほうが



れる。



まん中の「い」を
サシに書けよ。

母



広・市・台・冬



名前

月 日

もくひょう時間 15分

点



□にあてはまる かん字を 書きましよう。

70点(二つ10)

①

海は、
□ ひろ
い。

②

うわさが 町じゅうに
□ ひろ
まる。

③

お母さんと
□ いち
場に行く。

④

□ し
長さんに あいさつを する。

⑤

□ だい
の 上に 立つ。

⑥

強い
□ たい
風が おそう。

⑦

あすから
□ ふゆ やす
みが はじまる。





半・北・矢・用



名前

月 日

もくひょう時間 15分

点



□にあてはまる かん字を 書きましょう。

70点(一ツ10)

① 夏休みも



ばを すぎた。

② りんごを



分に 切る。

半
この ぶぶんの
むきに ちゅうい。




③



の 国では、もう 雪が ふりはじめた。

④



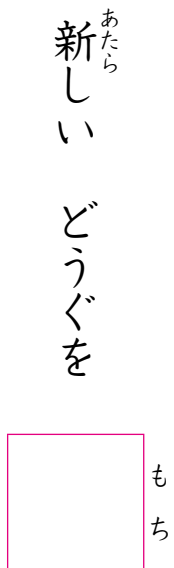
極には、白くまが すんで いる。

⑤




じるしに そって すすむ。

⑥




新しい どうぐを いる。

⑦



げんこう 紙に 書く。



10

羽 6画

羽・会・合・回



名前

月 日

もくひょう時間 15分


点



□にあてはまるかん字を書きましょう。

70点(二つ10)

① 小鳥の



をひろった。

② にわとりが五




いる。

③ えきで先生と



う。

④ 大きくなったら、英



話をならいたい。

⑤ クラスのみんなと

話し




う。

⑥ うでをぐるぐる

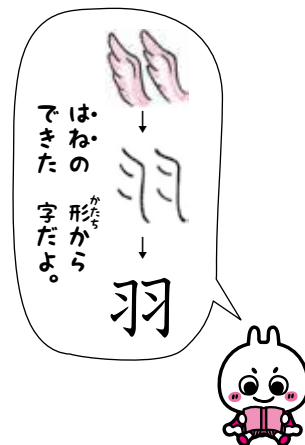


す。

⑦ 作文を三



書き直す。



11

交・光・考・行



名前

月 日

もくひょう時間 15分

点



□にあてはまる かん字を 書きましよう。

70点(二つ10)

① 道と 道とが

まじ わる。

② 白い 花に

ま じって、赤い 花が さく。

③ お日さまが まぶしく

ひか る。

④ まどから 太陽の

こう 線が さしこむ。



光
しなこでね。

⑤ あわてずに、よく

かんが えましよう。

⑥ おじいさんの 家に

い く。

⑦ あなたの

おこな いは、りっぱだ。

12

寺・白・色・西



名前

月 日

もくひょう時間 15分

点



□にあてはまる かん字を 書きましよう。

70点(二つ10)

①

お におまいりする。

②

みずか らの 力を しんじる。

③

じ 分の ぶん 考えを かんが もとう。

④

青い いろ を ぬる。

⑤

青 いっしょく の 空が ひろ 広がる。

⑥

学校は、えきの にし がわに ある。

⑦

せい 洋りよう理を り 食べる。

自 白
書きまちがえないように。



13

多・地・池・当



名前

月 日

もくひょう時間 15分

点



□にあてはまる かん字を 書きましよう。

70点(二つ10)

① 日本は、山が

□

い。

② 学校に

□

数の 人が あつまる。



「おおい」の
「はんだい」は、
「少ない」。

③ 広い

□

に 家を たてる。

④ 大きな

□

の まわりを さんぽする。

⑤ この 人形は、電

□

を 入れると うごく。

⑥ まどに 朝日が

□

たる。

⑦ そうじ

□

番を すましてから 帰る。

14

6画

同・肉・米・毎



名前

月 日

もくひょう時間 15分

点



□にあてはまるかん字を書きましょう。

70点(二つ10)

① みんなで

□おなじ電車にのる。

② 二人は、

□どう時にわらった。

③ 鳥の

□にくを食べる。

④ にんじんと牛

□にくをかう。

⑤ お

□こめのとぎ方を教わる。

⑥ ことしの新

□まいをおいしくいただいた。

⑦ 春に

□まいねん花をうえる。

内肉
かたち
の
字に
ちゅうい。



15

何・作・体・角



名前

月 日

もくひょう時間 15分

点



□にあてはまる かん字を 書きましょう。

70点(二つ10)

① ごはんも パンも、
□ も 食べた^たくない。

なんにん

かに 分^わかれよう。

③ 船^{ふね}の もけいを
□ る。

つく



④ 心^{こころ}に のこった ことを
□ に 書く。

さくぶん

からだ

⑤ □ は 小さいが、走る^{はし}のは はやい。

かど

⑥ まがり
□ で 人と ぶつかる。

形の^{かたち}に^にて^ている^{いる}字^じに^にち^ちゅう^{ゅう}い^い。

休—体



⑦ トナカイの
□ は、大きい。

つの

16

汽・近・形・言



名前

月 日

もくひょう時間 15分

点



□にあてはまるかん字を書きましょう。

70点(二つ10)

①



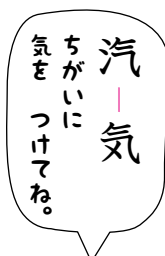
船で大きなしまに行く。

②

夏休みが



づく。




③



所にすんでいる友達と、学校に行く。

④

花の




や色をよく見よう。

⑤

丸と

三角



をかく。

⑥

意見をはっきり



う。

⑦

ほんのひと



ちゅういします。

17

社・図・声・売



名前

月 日

もくひょう時間 15分

点



□にあてはまる かん字を 書きましよう。

70点(二つ10)

① お父^{とう}さんは、会^{かい}□^{しゃ}ではたらいて います。

② 道^{みち}に まよった ときは、地^ち□^ずで しらべよう。

③ □^と書室^{しよしつ}で 本を さがす。

④ 大きな □^{こえ}で へんじを する。

⑤ しっかりした 音^{おん} □^{せい}で 話^{はな}す。

⑥ この 本は、よく □^うれて いる。



⑦ □^{ばい}店^{てん}で ジュースを 買^かう。

売^うる↕買^かう
はんたいの
ことだよ。

18

走・谷・弟・麦



名前

月 日

もくひょう時間 15分

点




□にあてはまる かん字を 書きましょう。

70点(二つ10)


① 車が はしりだす。




② マラソンの 者が ゴールに入った。



③ たにがわを ながれる 水音が 聞こえる。



④ わたしの おとうとは、絵を かくのが すきだ。



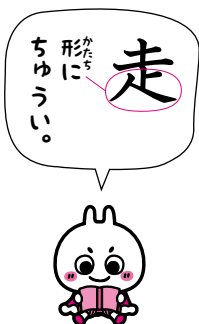

⑤ あの 兄は、どちらも 足が はやい。



⑥ つめたい 茶を のむ。



⑦ 百メートル競で 一とうになった。



19

7画・8画

来・里・画・岩



名前

月 日

もくひょう時間 15分

点



□にあてはまる かん字を 書きましよう。

70点(二つ10)

① あす、おばさんが わたしの 家いえに ます。

② 兄にいさんは、 の 春はる、中学生になる。

③ お母かあさんが いもを にる。

④ フランスの 家かの 絵えを 見た。

⑤ 夏休なつみの 計けい を 立てる。

⑥ の 多おほい 山を のぼる。

「山」と
「石」で
「岩」だよ。



⑦ 火山 を かんさつする。

20

8画

京・国・姉・妹



名前

月 日

もくひょう時間 15分

点



□にあてはまるかん字を書きましょう。

70点(二つ10)

①

東^{とう}



きょう

タワーを見上げる。

②

いろいろな



く

の人となかよくなろう。

③

父^{ちち}は、

しごとでよく

外^{がい}



こ

に行きます。

④

ぼくには、二人^{ふたり}の



あ

がいます。

⑤

わたしは、小さな



いもうと

をだきあげた。

⑥


北^{きた}



ぐ

の春^{はる}はおそい。

⑦



きょう

都^とには、お寺^{てら}がたくさんある。



「あね」と「いもうと」というかん字の左がわは「女」だよ。

21

知・長・直・店



名前

月 日

もくひょう時間 15分

点



□にあてはまるかん字を書きましょう。


70点(二つ10)

① 魚さかなの名前まえを

る。

② きりんの首くびは

い。



③ こ
う
ち
やう

先生のはなしお話をしずかに聞きく。

④ かん字のまちがいを

す。

⑤ あの人は

な人だ。



⑥ 大きな

で、ぼうしを買かってもらった。

⑦ 本屋やの

買いさんと話をする。

22

東・歩・明・門



名前

月 日

もくひょう時間 15分

点



□にあてはまる かん字を 書きましょう。

70点(二つ10)


①



ひがし

の 空に 太陽が のぼって きた。

②



とう

西の チームが しあいを する。

③

池の まわりを




ある

く。

④

ボールが



ほ

道から 車道に ころがった。

⑤

まもなく

夜が



あ

ける。

⑥


くわしく せつ



めい

する。

⑦



こう もん

の

前で 会おう。

もんの 形から
できたんだよ。



門



23

8画・9画

夜・昼・科・海



名前

月 日

もくひょう時間 15分

点



□にあてはまる かん字を 書きましょう。

70点(二つ10)

①

しずかに



が ふけて いく。

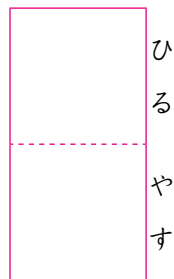
②

前^{ぜん}



からの 雨が やんで、 晴^はれに なる。

③



みに ボールけりを する。

④

きょうの



食^{しょく}は サンドイッチだ。

⑤


教^{きょう}



書^{しょ}を ひらく。

⑥

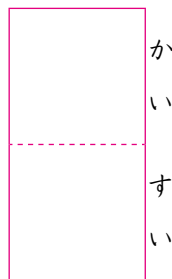
広^{ひろ}い



を ながめる。

⑦

家^かぞく みんなで



よくに 行^いく。



「ちゅう食」は、
おひるごはんの
ことだよ。

24

活・計・後・前



名前

月 日

もくひょう時間 15分

点



□にあてはまる かん字を 書きましよう。

70点(二つ10)

① むかしの 人の 生 □ を 本で しらべる。

② えきに つくまでの 時間 □ を みる。

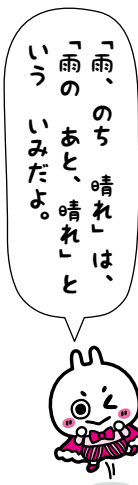
③ お金の □ 算を する。

④ 雨、 □ のち 晴れ。

⑤ しっぱいしたが、 今 □ は 気をつけよう。

⑥ 一歩 □ に すすみなさい。

⑦ 夏休みの □ ぜんご に テストがある。



25

思・室・首・秋



名前

月 日

もくひょう時間 15分

点

□にあてはまるかん字を書きましょう。

70点(二つ10)

① わたしは、うれしく

おも

いました。

② 読^よみたい 本を 図^{とし}書^{しょ}

しつ

でさがす。



「思」だよ。
「心」で
「田」で

③ 左右に をふる。

くび

④ すきな チームが、ついに

しゅ

位^いに 立った。

⑤ すずしい の 風^{かぜ}が ふいて くる。

あき

⑥ 分^{ぶん}の日に おはぎを 食^たべた。

しゅう

⑦ 一年生の ころの ことを 出^いす。

おも

26

春・食・星・茶



名前

月 日

もくひょう時間 15分

点



□にあてはまる かん字を 書きましよう。

70点(二つ10)

①



はる

になって、草が めを出す。

②



しゅん

分の日におはかまいりに 行った。

③



た

ごちそうを べる。

④



しよく

朝は、パンの 日が多い。

⑤



ほし

が きらきら 光っている。

⑥



せい

テレビで、はじめて 火の ようすを見た。

⑦



ちや

あつい おを のむ。

「日」と
「生」で
「星」だね。



27

9画・10画

点・南・風・夏



名前

月 日

もくひょう時間 15分

点



□にあてはまる かん字を 書きましよう。

70点(二つ10)

① つぎの テストでは、よい □ を とりたい。

② わたり鳥が □ の 方にとんで いく。

③ □ には、ペンギンが すんで いる。

④ 九月に なると、さわやかな □ が ふく。

⑤ 台が 通りすぎる。

⑥ □ みかんを 食べる。

⑦ □ 線の ところで 切りとりなさい。

点—店
同じぶんが
あるね。



28

家・帰・記・原



名前

月 日

もくひょう時間 15分

点

□にあてはまる かん字を 書きましよう。 70点(二つ10)

① けさは 八時に えた。

② 日曜日に ぞく そろって 出かけた。

③ 学校から いそいで える。

④ ノートに 名前を する。

⑤ さんかん日の ことを につ き に 書く。

⑥ 野の たんぽぽの 花を 見つけた。

⑦ 高で キャンプを する。

原

戸と まちがえ ないように。



29

高¹⁰・紙・時・書



名前

月 日

もくひょう時間 15分


点



□にあてはまる かん字を 書きましよう。

70点(二つ10)

①



たか

い 山に のぼる。

②

わたしの

兄^{あに}は、



こう

校生です。

③

画^が用^{よう}



し

で はこを 作る^{つく}。

④

楽^{たの}しくて、



とき

の たつのを わすれる。

⑤

やくそくの




じ

間^{かん}に おくれる。

⑥

日^き記^きを




か

く。

⑦

教^{きょう}科^か



しよ

と ノートを ひらく。

「目」は
「寺」で
「時」だね。



30

通・馬・弱・強
10画・11画



名前

月 日

もくひょう時間 15分

点



□にあてはまる かん字を 書きましよう。

70点(二つ10)

① 道の^{みち}右がわを

□^{とお}る。

② 学校に 毎^{まい}日

□^{かよ}う。

③ ひつじや 牛^{うし}や

□^{うま}を かう。

④ 少年^{しょう}が 白^{はく} □^ばに またがり、かけて いく。

⑤ カが □^{よわ}いので、体^{からだ}を きたえる。

⑥ □^{つよ}い 雨^{あめ}が ふって きた。

強^{はつ} ↑ ↓ 弱^{じやく}
はんたいの いみの かん字だよ。



⑦ □^{きよう} □^{じやく} を つけて、たいこを たたく。

31

黄・黒・魚・鳥 11画



名前

月 日

もくひょう時間 15分

点



□にあてはまる かん字を 書きましょう。

70点(二つ10)

①

にわに



色い 花が さいた。

②



いくつを はく。

③

答えを



ばんに 書く。

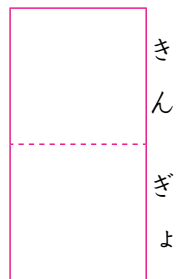
④

川の中を



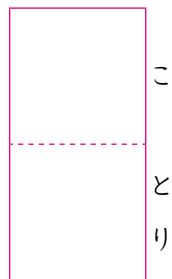
が およいで いる。

⑤



に えさを やる。

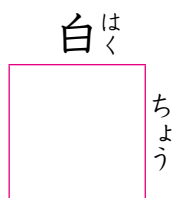
⑥



が 木から とび立つ。

⑦

みずうみに



が やって きた。

①・②は 色を あらわす かん字だね。



32

教・細・組・週



名前

月 日

もくひょう時間 15分

点



□にあてはまる かん字を 書きましよう。

70点(二つ10)

① 兄^{あに}が サッカーを □^{おし}えて くれる。

② 先生^{せんせい}が □^{きょう}室^{しつ}に 入^いって こられる。

③ □^{ほそ}い 糸^{いと}を はりの あな^{あな}に 通^{とお}す。

④ 空^{から}から □^{こま}かい 雪^{ゆき}が ふ^ふつて くる。

⑤ プラモデルを □^くみ立てる。

「目」では
ないよ。



⑥ 二年三 □^{くみ}の みんなが、いっしょに 歌^{うた}う。

⑦ 今^{こん} □^{しゅう}の ニュースを は^はつぴようする。

33

船・野・理・雪



名前

月 日


もくひょう時間 15分

点


□にあてはまる かん字を 書きましょう。

70点(二つ10)

① 大きな □ に のる。




② のんびりと □ 旅を 楽しむ。



③ □ の 原に たんぽぽが さいて いた。





④ けんこうの ために、 □ さいを 食べよう。



⑤ 三年生が □ 科の 時間に 花を かんさつした。



⑥ 山に □ が ふりつもる。



⑦ ゆっくりと □ 汽が みなとを 出る。



34

雲・絵・間・場



名前

月 日

もくひょう時間 15分

点



□にあてはまる かん字を 書きましょう。

70点(二つ10)

① 空に 白い □ が うかんで いる。

② うんどう会^{かい}の □ を かく。

③ 大きな 川が、二つの 町の □ を ながれる。

④ いそがしくて、休む □ が ない。

⑤ 一日は 二十四時^じ □ です。

⑥ 楽し^{たの}かった □ めんを 思い出^{おも}す。

⑦ ピアノの はっぴょう会^{かい}の □ に 行く。



天気^{てんき}を
あらわす
かん字だね。
雨—雪—雲

35

晴・朝・答・買 12画

晴・朝・答・買



名前

月 日

もくひょう時間 15分

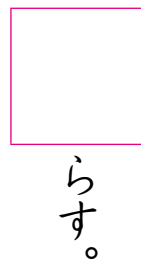
点



□にあてはまる かん字を 書きましょう。

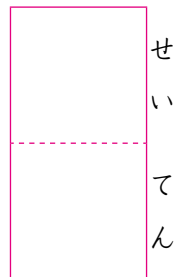
70点(二つ10)

① うたがいを



らす。

② の 空を見上げる。



あさ

③ 早く おきる。



ちよう

④ きょうの 食は、パンと ミルクだった。



しよく

⑤ 先生の しつもんに



こた

える。

⑥ お父さんに 本を



か

って もらった。

⑦ しなものの 売



ばい

が さかんになる。

「あさ」の 左がわの 形に ちゅうい。



36

12画・13画

番・道・遠・園



名前

月 日

もくひょう時間 15分

点



□にあてはまる かん字を 書きましょう。

70点(二つ10)

① 水えい大会で

いちばん になった。

② えきへ 行く

みち を たずねられた。

③ の 水で、手をよく あらう。

すいどう

④ バスに のって、

とお い 町まで 行った。

⑤ あすの 足が 楽しみだ。

えん

かたち 形に ちゅうい。 遠



⑥ 友だちと いっしょに 公 であそんだ。

えん

⑦ 出る が 近づいて きて、ときどきした。

ばん

37

楽・新・数・電



名前

月 日

もくひょう時間 15分

点



□にあてはまる かん字を 書きましよう。

70点(二つ10)

① 遠足^{えん}は、とても

□^{たの}しかった。

② 姉^{あね}は、音^{がく}を きくのが すきです。

③ □^{あた}ら しい ふくを 買^かって もらった。

④ □^{しん}ねん 明^あけまして おめでとう。

⑤ あつまった 人^{かず}の を しらべる。

⑥ 一から 十までの □^{すう}じ。

字^{かた}の 形^{かたち}が いて いるよ。

数教



⑦ この 車^{でん}は、 □^きの カで うごく。

38

話・語・読・歌
13画・14画



名前

月 日

もくひょう時間 15分

点



□にあてはまる かん字を 書きましよう。

70点(二つ10)

① みんなで よく し合おう。



はな

あ

② 友だちと り合う。



かた

同じところの
ある かん字だよ。

話—語—読



③ 国 じてんで、ことばの いみを しらべる。



こ

④ わたしは、本を むのが すきです。



よ

⑤ ものがたりを 音 して みましよう。



どく

⑥ うつくしい 声 が 聞こえて くる。



うた

こえ

⑦ 校 を みんなで うたう。



か

39

算・聞・鳴・線
14画・15画



名前

月 日

もくひょう時間 15分

点



□にあてはまる かん字を 書きましよう。

70点(二つ10)

①



さん

数の しゆくだいを する。

②

先生の 話を しずかに

はなし



き

く。

③

みんなで クラスの 新

しん



ぶん

を 作ろう。

つく

④

ひよこが ピヨピヨ



な

く。

⑤

げんかんの チャイムが



な

る。

⑥

太い



せん

を 引く。

ひ

⑦

すずめが 電

でん



せん

に とまっている。



「鳥」に「ロ」を
くわえると、
「鳴」だよ。

40

親・頭・顔・曜
16画・18画



名前

月 日

もくひょう時間 15分

点



□にあてはまる かん字を 書きましよう。

70点(二つ10)

①



おや

鳥が ひなに 食べものを あたえる。

②

お年よりに



しん

切に しよう。

③




あたま

を あらって もらう。

④

友だちが




とう

先 を きって 走る。

⑤

つめたい 水で



かお

を あらった。

⑥

ボールが

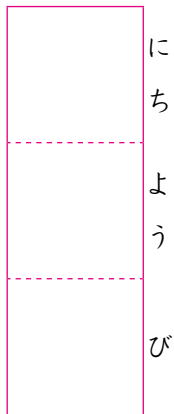


がん

面に 当たりそうに なった。

⑦

つぎの



にち

よう

び

は、雨だろう。

頭の形が
字の形が
にているよ。

頭
顔



答

え

2年の

かん字



1 刀・万・丸・工

①刀 ②小刀 ③一万円 ④丸 ⑤丸 ⑥工
⑦大工

2 才・弓・引・牛

①文才 ②天才 ③弓 ④引 ⑤引 ⑥牛
⑦牛

3 午・元・戸・公

①午 ②午 ③元氣 ④元日 ⑤戸 ⑥一戸
⑦公

4 今・止・少・心

①今 ②中止 ③止 ④少 ⑤少 ⑥心
⑦中心

5 切・分・太・父

①切 ②切 ③分 ④五分 ⑤太 ⑥太 ⑦父

6 方・毛・友・内

①方 ②方 ③毛 ④友 ⑤友 ⑥内 ⑦内

7 外・兄・母・古

①外 ②外 ③兄 ④兄 ⑤母 ⑥古 ⑦外

8 広・市・台・冬

①広 ②広 ③市 ④市 ⑤台 ⑥台 ⑦冬休

9 半・北・矢・用

①半 ②半 ③北 ④北 ⑤矢 ⑥用 ⑦用

10 羽・会・合・回

①羽 ②羽 ③会 ④会 ⑤合 ⑥回 ⑦回

11 交・光・考・行

①交 ②交 ③光 ④光 ⑤考 ⑥行 ⑦行

12 寺・自・色・西

①寺 ②自 ③自 ④色 ⑤一色 ⑥西 ⑦西

13 多・地・池・当

①多 ②多 ③土地 ④池 ⑤池 ⑥当 ⑦当

14 同・肉・米・毎

①同 ②同 ③肉 ④肉 ⑤米 ⑥米 ⑦毎年

15 何・作・体・角

①何 ②何人 ③作 ④作文 ⑤体 ⑥角
⑦角

16 汽・近・形・言

①汽 ②近 ③近 ④形 ⑤形 ⑥言 ⑦言

17 社・図・声・売

①社 ②図 ③図 ④声 ⑤声 ⑥売 ⑦売

18 走・谷・弟・麦

①走 ②走 ③谷川 ④弟 ⑤弟 ⑥麦 ⑦走

19 来・里・画・岩

①来 ②来年 ③里 ④画 ⑤画 ⑥岩 ⑦岩

20 京・国・姉・妹

①京 ②国 ③国 ④姉 ⑤妹 ⑥国 ⑦京

21 知・長・直・店

①知 ②長 ③校長 ④直 ⑤正直 ⑥店 ⑦店

22 東・歩・明・門

①東 ②東 ③歩 ④歩 ⑤明 ⑥明 ⑦校門

23 夜・昼・科・海

①夜 ②夜 ③昼休 ④昼 ⑤科 ⑥海 ⑦海水

24 活・計・後・前

①活 ②計 ③計 ④後 ⑤後 ⑥前 ⑦前後

25 思・室・首・秋

①思 ②室 ③首 ④首 ⑤秋 ⑥秋 ⑦思

26 春・食・星・茶

①春 ②春 ③食 ④食 ⑤星 ⑥星 ⑦茶

27 点・南・風・夏

①点 ②南 ③南 ④風 ⑤風 ⑥夏 ⑦点

28 家・帰・記・原

①家 ②家 ③帰 ④記 ⑤日記 ⑥原 ⑦原

29 高・紙・時・書

①高 ②高 ③紙 ④時 ⑤時 ⑥書 ⑦書

30 通・馬・弱・強

①通 ②通 ③馬 ④馬 ⑤弱 ⑥強 ⑦強弱

31 黄・黒・魚・鳥

①黄 ②黒 ③黒 ④魚 ⑤金魚 ⑥小鳥 ⑦鳥

32 教・細・組・週

①教 ②教 ③細 ④細 ⑤組 ⑥組 ⑦週

33 船・野・理・雪

①船 ②船 ③野 ④野 ⑤理 ⑥雪 ⑦船

34 雲・絵・間・場

①雲 ②絵 ③間 ④間 ⑤間 ⑥場 ⑦場

35 晴・朝・答・買

①晴 ②晴天 ③朝 ④朝 ⑤答 ⑥買 ⑦買

36 番・道・遠・園

①一番 ②道 ③水道 ④遠 ⑤遠 ⑥園 ⑦番

37 楽・新・数・電

①楽 ②楽 ③新 ④新年 ⑤数 ⑥数字 ⑦電気

38 話・語・読・歌

①話 ②語 ③語 ④読 ⑤読 ⑥歌 ⑦歌

39 算・聞・鳴・線

①算 ②聞 ③聞 ④鳴 ⑤鳴 ⑥線 ⑦線

40 親・頭・顔・曜

①親 ②親 ③頭 ④頭 ⑤顔 ⑥顔 ⑦日曜日

ここからは
アルファベットの
おさらいをしよう！





1

こもじ 小文字 a~d

月

日

し
時ふん
分~

時

分


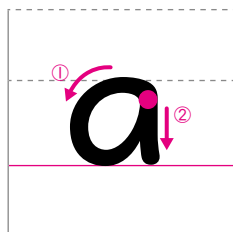
なまえ
名前

- ① 文字の名前を確認しましょう。
声に出しながらなぞった後、自分で2回書きましょう。

① 小文字 [エイ]




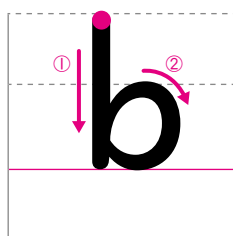
alligator



② 小文字 [ビー]



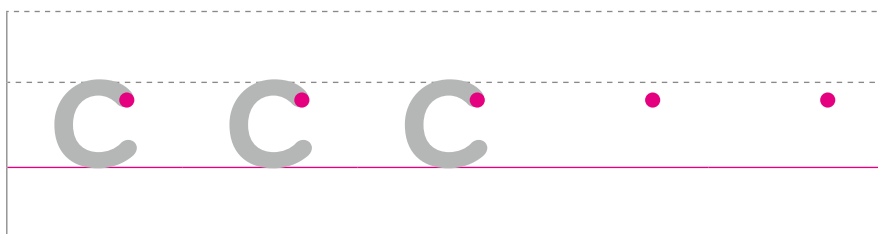
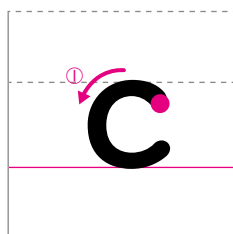
bag



③ 小文字 [スィー]



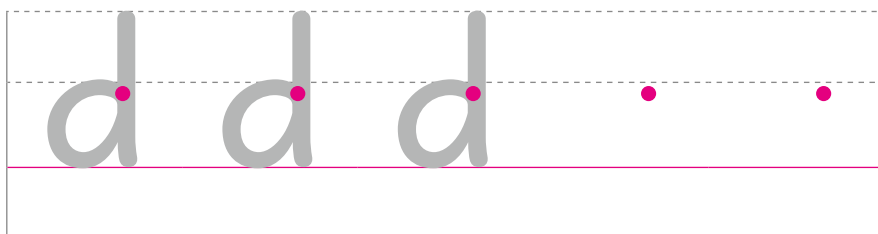
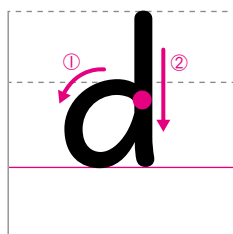
cap



④ 小文字 [ディー]



desk





2

こもじ 小文字 e~l

月 日 し 時 分~ 時 分


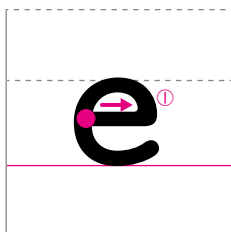
なまえ
名前

- ① 文字の名前を確認しましょう。
声に出しながらなぞった後、自分で2回書きましょう。

⑤ 小文字 [イー]



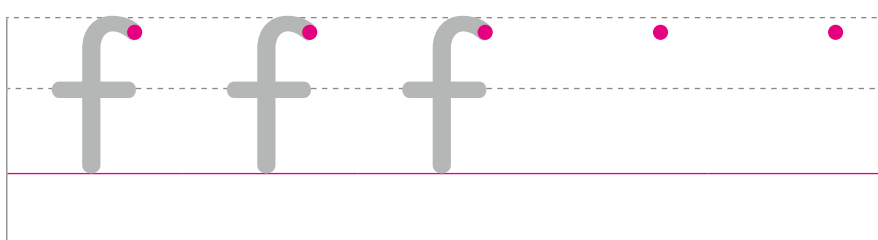
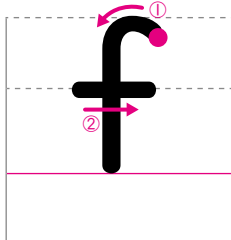
elephant



⑥ 小文字 [エフ]




fish



⑦ 小文字 [ジー]



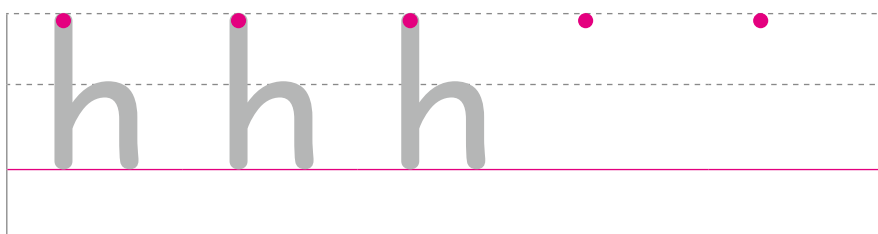
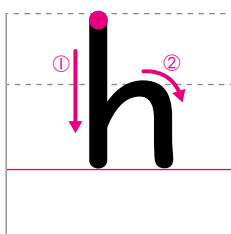
gum



⑧ 小文字 [エイチ]



hat

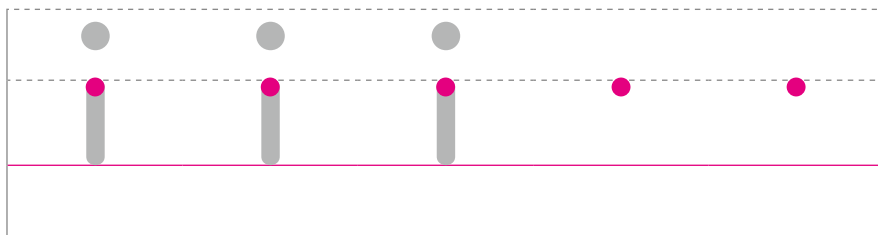
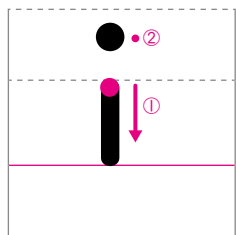


2 もじの名前を確認しましょう。
 声に出しながらなぞった後、自分で2回書きましょう。

⑨小文字 [アイ]



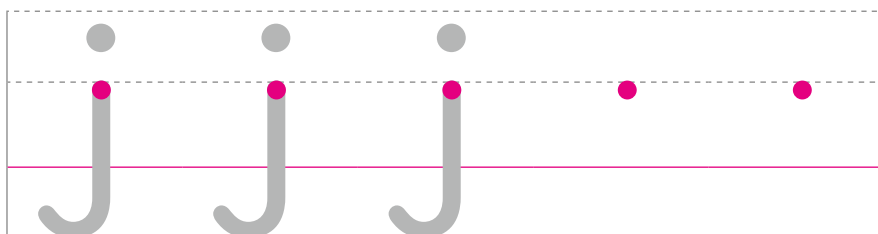
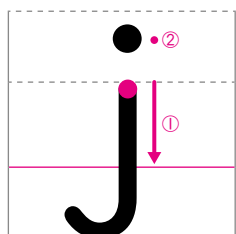
igloo



⑩小文字 [ヂェイ]



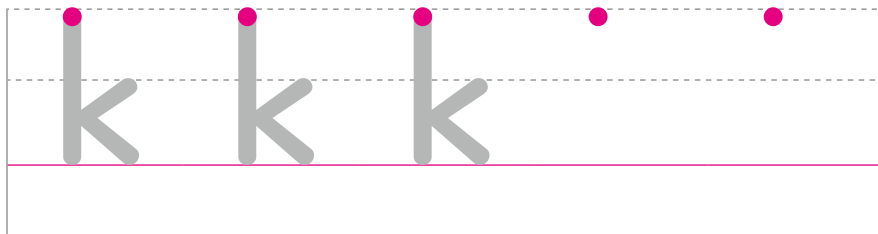
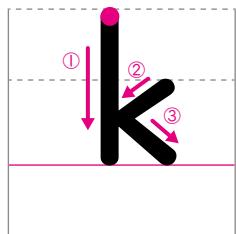
jam



⑪小文字 [ケイ]



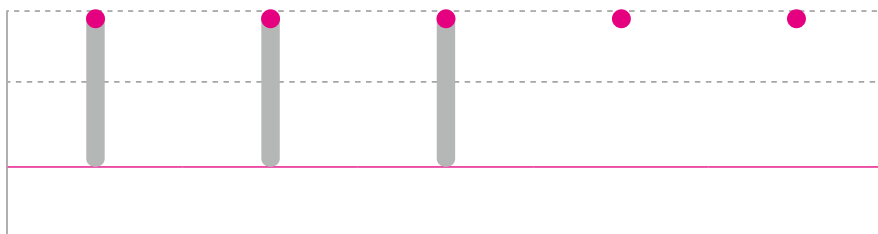
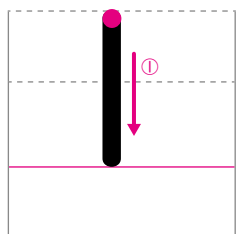
kangaroo



⑫小文字 [エル]



lemon





3

こもじ 小文字 m~t

月 日 し 時 分~ 時 分


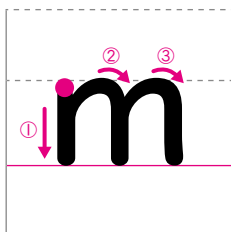
なまえ
名前

- ① ^{もじ}文字の^{なまえ}名前を確認しましょう。
^{こえ}声に出しながら^だなぞった^{あと}後、^{じぶん}自分で2回^{かい}書きましょう。

⑬ ^{こもじ}小文字 [エム]



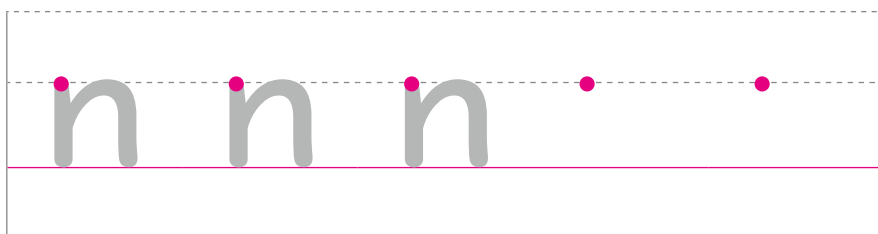
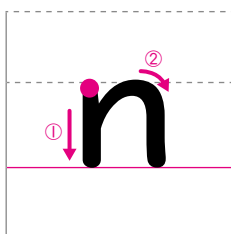
milk



⑭ ^{こもじ}小文字 [エン]



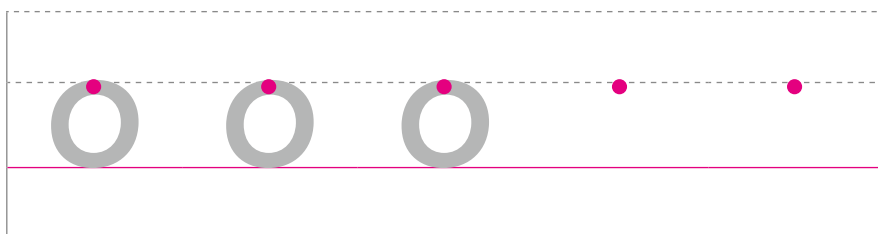
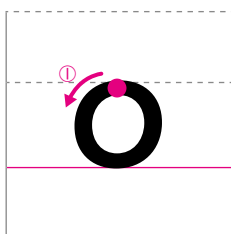
net



⑮ ^{こもじ}小文字 [オウ]



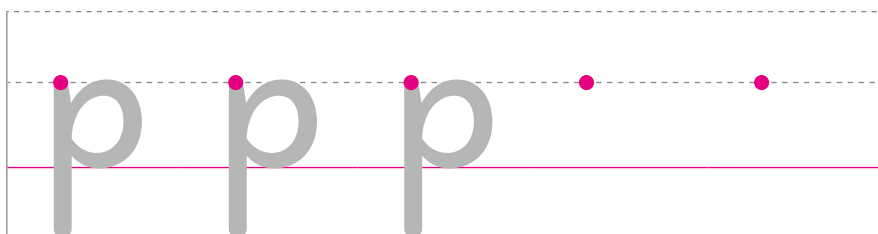
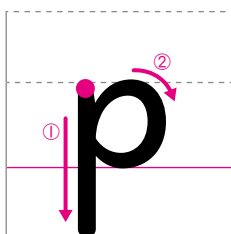
octopus



⑯ ^{こもじ}小文字 [ピー]



piano

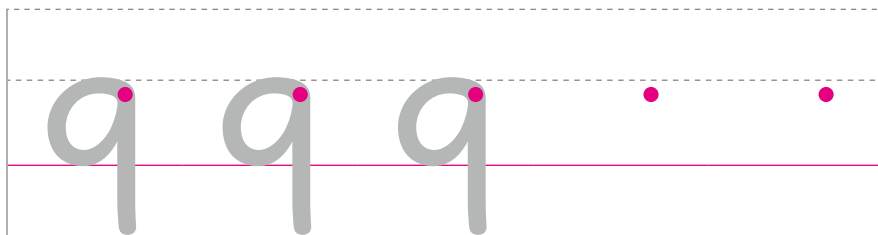
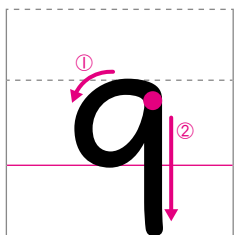


② ^もじ ^なまえ ^{かくにん}を確認しましょう。
^{こえ}声に出しながら ^だぞった ^{あと}後、 ^{じぶん}自分で2回 ^{かい}書きましょう。

⑰小文字 [キュー]




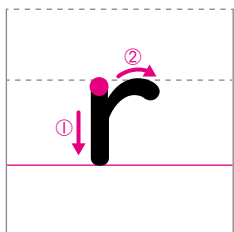
quiz



⑱小文字 [アー]



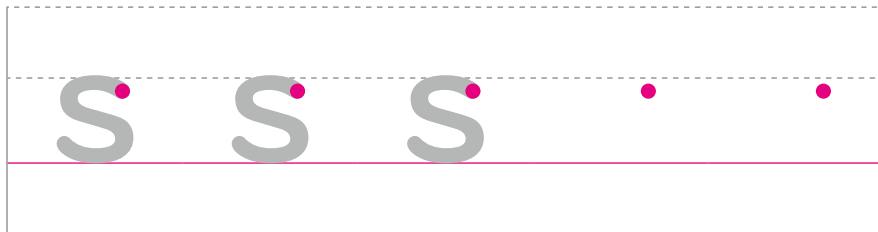
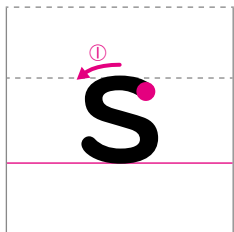
room



⑲小文字 [エス]



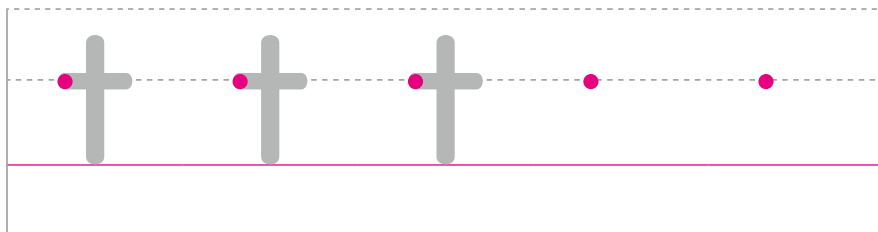
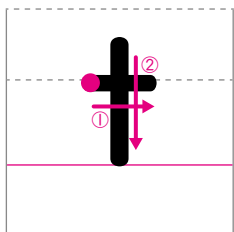
snow



⑳小文字 [ティー]



tennis





4

こもじ 小文字 u~z

月 日 し 時 分~ 時 分


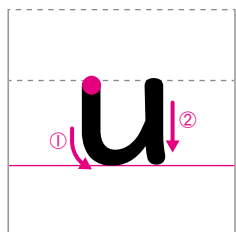
なまえ
名前

① ^{もじ}文字の^{なまえ}名前を確認しましょう。
^{こえ}声に出しながら^だなぞった^{あと}後、^し自分で^{ぶん}2回^{かい}書き^かましょう。

② 小文字 [ユー]



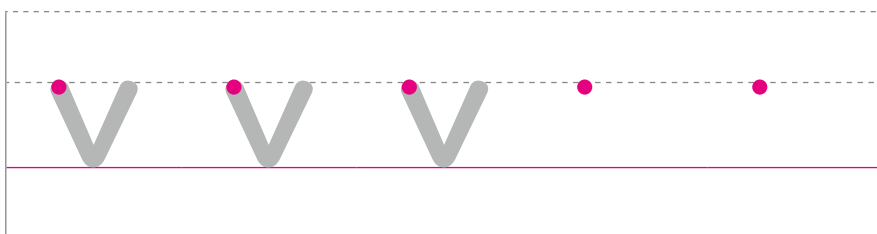
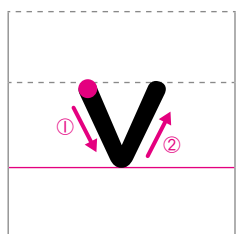
up



② 小文字 [ヴィー]



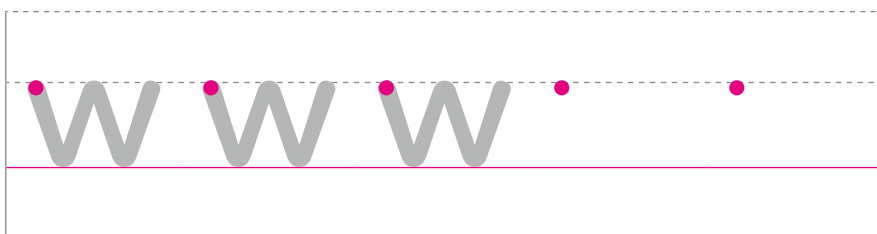
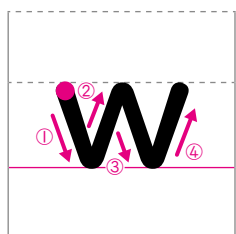
vest



③ 小文字 [ダブリュー]



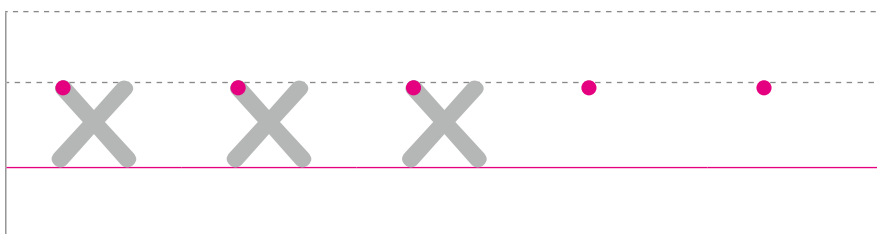
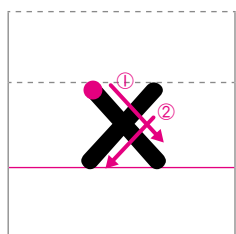
watch



④ 小文字 [エックス]



six


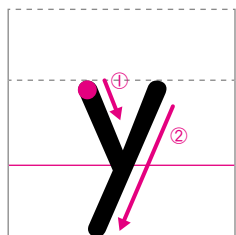


2 文字の名前を確認しましょう。
 声に出しながらなぞった後、自分で2回書きましょう。

②⑤ 小文字 [ワイ]



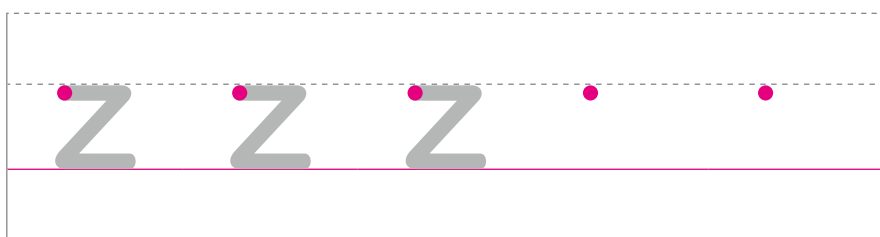
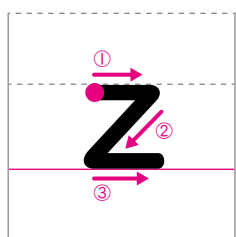
yo-yo



②⑥ 小文字 [ズー]



zoo



3 次の絵の中から、文字を見つけて○で囲みましょう。
 4 つかくれています。





5

こもじ 小文字 a~z

月 日 時 分~ 時 分

名前

① a から z まで声に出しながら順になぞりましょう。

a b c d e f

[エイ]

[ビー]

[スィー]

[ディー]

[イー]

[エフ]

g h i j k l

[ジー]

[エイチ]

[アイ]

[ジェイ]

[ケイ]

[エル]

m n o p q r

[エム]

[エン]

[オウ]

[ピー]

[キュー]

[アー]

s t u v w x

[エス]

[ティー]

[ユー]

[ヴィー]

[ダブリュー]

[エックス]

y z

[ワイ]

[ズィー]



こもじ 小文字を書くときは4本の線のどこに書くか気をつけよう。

2 a から z まで順に並ぶように、□の中に正しく小文字を書きましょう。

	b	c			f
[エイ]	[ビー]	[スィー]	[ディー]	[イー]	[エフ]

g				k	l
[ジー]	[エイチ]	[アイ]	[チェイ]	[ケイ]	[エル]

	n	o		q	r
[エム]	[エン]	[オウ]	[ピー]	[キュー]	[アー]

s			v		x
[エス]	[ディー]	[ユー]	[ヴィー]	[ダブリュー]	[エックス]

	z
[ワイ]	[ズィー]

a から z までのアルファベットの
順番をおぼえることも大切だよ。





に 似ている形の文字

月	日	時	分
名前			

1 次の文字を、形のちがいに気をつけてなぞった後、自分で1回書きましょう。

b d

小文字 [ビー]

b

小文字 [ディー]

d

p q

小文字 [ピー]

p

小文字 [キュー]

q

v u

小文字 [ヴィー]

v

小文字 [ユー]

u

i j

小文字 [アイ]

i

小文字 [ジェイ]

j

h n

小文字 [エイチ]

h

小文字 [エン]

n