



別冊

取りはずしてご使用ください。



ホントにわかる 中学3年間の総復習 社会

解答と解説



新興出版社 shinko publishing



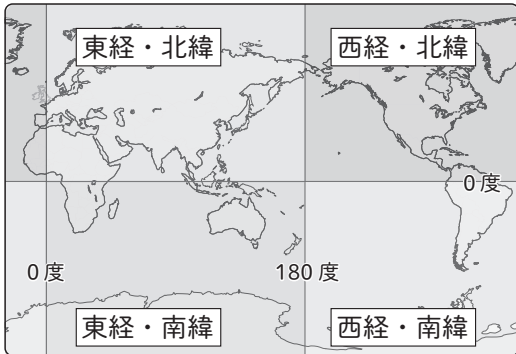
世界の姿と日本の姿

ステップ
2

- (1) X南(緯)30(度)・東(経)120(度) Y北(緯)30(度)・西(経)90(度)
(2)北(緯)30(度)・東(経)150(度) (3)あ→い→え (4)ウ (5) i (6)①ウ ②イ
(7)Aアジア(州) Bアフリカ(州) (8)12(月)15(日)午前3(時)
(9)1(月)2(日)午後6(時)
- (1)A南アメリカ(大陸) Bオーストラリア(大陸) (2)ウ
- (1)ア択捉島 イ南鳥島 ウ沖ノ鳥島 エ与那国島 (2)排他的経済水域
(3)竹島 (4)尖閣諸島 (5)3(つ)

解説

1 (1)地図の縦軸が緯度、横軸が経度を示している。
正しく位置を読み取ろう。



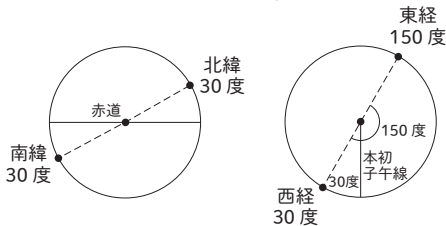
(2)対蹠点の求め方

【緯度】角度はそのまま北緯なら南緯に、南緯なら北緯にする。

(例 北緯30度→南緯30度)

【経度】180度からもとの地点の経度を引いて、東経なら西経に、西経なら東経にする。

(例 西経30度→東経150度)



確認

北緯36度、東経140度の対蹠点は？

→南緯36度、西経40度

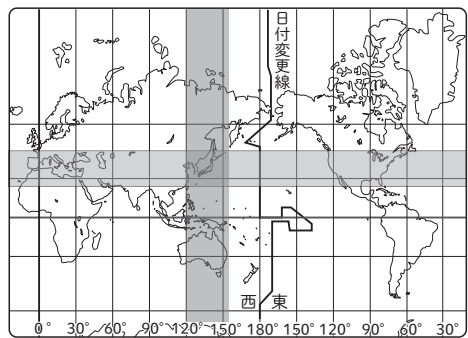
(3)三大洋は、面積の広い順に、太平洋→大西洋
→インド洋である。

(4) aは北緯30度、bは南緯30度なので、a - b
間は緯度60度分の距離がある。

地球1周は約40000kmなので、 $40000 \times (60 \div 360) = \text{約}6666$ と求めることができる。

(5)最短距離は、正距方位図法では直線で表される。
メルカトル図法では曲線で表され、北半球では上に曲がった曲線、南半球では下に曲がった曲線で表される。

(6)日本と同緯度、経度の範囲は次の通り。

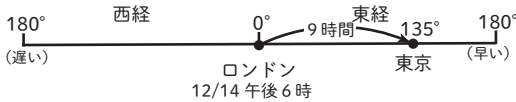


◆赤道や北緯40度の緯線が通る地域

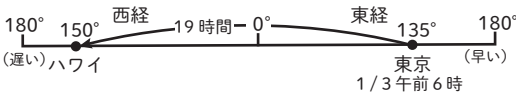
- ・赤道が通る地域
→ギニア湾沿岸～シンガポールの先～エクアドル
- ・北緯40度の緯線が通る地域
→秋田県～アメリカ合衆国のニューヨーク～地中海沿岸～中国北部

(8)時差は $(135 - 0) \div 15 = 9$ (時間)。

日本は12月14日午後6時の9時間後となる。



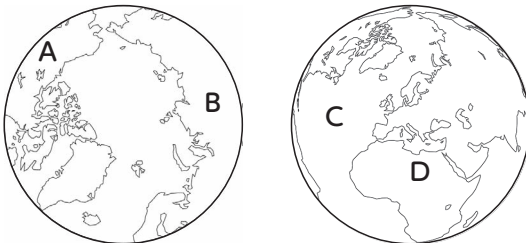
(9)時差は $(135 + 150) \div 15 = 19$ (時間)。日本での出発時刻1月3日午前6時は、ハワイでは1月2日午前11時となる。7時間後が到着時刻となるので、1月2日午後6時となる。



確認

成田空港を2月10日午前10時に出発した飛行機が13時間後にロンドンに到着した。ロンドンの現地時間は？
→ 2月10日午後2時

2(1)いろいろな地図で六大陸・三大洋を答えられるようにする。

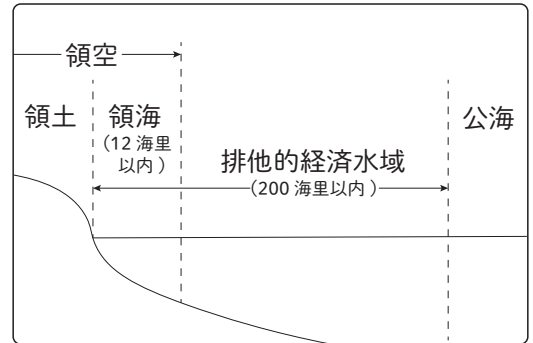


確認

A 北アメリカ大陸, B ユーラシア大陸,
C 大西洋, D アフリカ大陸

(2)ア a は赤道ではなく東京から10000kmを表している。イ東京から見てロサンゼルスは北東の方角になる。エ東京からケープタウンまでの距離のほうが長い。オ順に、オーストラリア大陸、南極大陸、南アメリカ大陸、ユーラシア大陸を通過する。

- 3(1)択捉島は北海道、南鳥島と沖ノ鳥島は東京都、与那国島は沖縄県に属している。
(2)国連海洋法条約で、排他的経済水域は、海岸線から200海里以内の、領海を除く海域と定められている。



- (3)竹島は島根県に属している。
(4)尖閣諸島は沖縄県に属している。
(5)中国・四国地方で県名と県庁所在地名が異なるのは、島根県(松江市)、香川県(高松市)、愛媛県(松山市)である。

入試につながる

● 図法の特徴をおさえる

- メルカトル図法…経線と緯線が直角に交わる。
航海図に利用。赤道から離れるほど実際の面積より大きく表示される。
- 正距方位図法…中心からの距離と方位が正しい。
航空図に利用。中心から離れるほど陸地の形が変わる。
- モルワイデ図法…面積が正しい。分布図に利用。赤道から離れるほど陸地の形が変わる。

形もおさえよう

メルカトル

正距方位

モルワイデ

ステップ
2

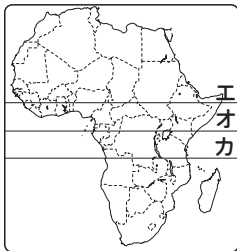
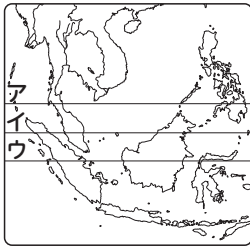
- 1 (1)B (2)環太平洋(造山帯) ア・ウ (3)ウラル(山脈) (4)aア bエ cウ dイ
(5)ウ (6)バンコクY サンフランシスコX
- 2 (1)aエ bウ cイ dア (2)cウ xア yイ
- 3 aユーラシア(大陸) b南アメリカ(大陸) cアフリカ(大陸)

解説

1 (1)赤道の位置は各大陸でもおさえる。

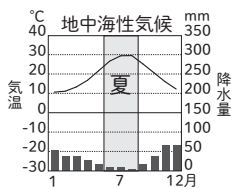
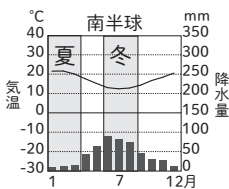
確認

赤道の位置はどこ？



答え ウ・オ・キ

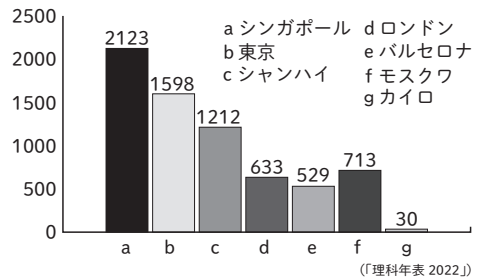
- (2)造山帯は、環太平洋造山帯とアルプス・ヒマラヤ造山帯の2つがあり、地震や火山活動が活発である。
- (3)ロシアのウラル山脈がアジア州とヨーロッパ州を分ける北の境界となっている。
- (4)問題になっている都市の気候帯が不明な場合は、雨温図を見て考えるとよい。



(「理科年表 2022」)

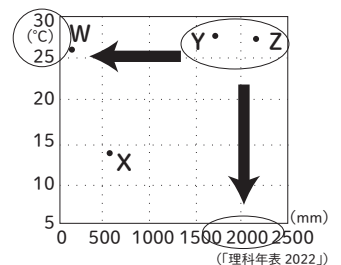
ウ…気温の折れ線グラフから南半球の雨温図だとわかる。ア・エ…夏に降水量が少ないエが地中海性気候、年中ほぼ一定の降水量のアが西岸海洋性気候である。イ…温暖湿潤気候の雨温図である。

◆おもな都市の年間降水量(mm)



(「理科年表 2022」)

- (5)ア…「日曜日は教会に祈り」からキリスト教、イ…「牛を神聖な動物」からヒンドゥー教、ウ…「コーラン」からイスラム教、エ…「日本には6世紀に伝わった」から仏教である。
- (6)YとZは年平均気温が高く、年間降水量も多いため熱帯である。YよりZのほうが年間降水量が多いので、熱帯雨林気候のシンガポール、Yは雨季と乾季があるサバナ気候のバンコク。W…年間降水量が少ないので、乾燥帯のリヤドとなる。



(「理科年表 2022」)

確認

〈表形式の問題〉

下の表中ア～エはそれぞれ、パース(オーストラリア), シャンハイ(中国), モスクワ(ロシア), ロンドン(イギリス)のいずれかの都市である。ア～エの都市名をそれぞれ答えなさい。

	平均気温(°C)		平均降水量(mm)	
	1月	7月	1月	7月
ア	5.7	19.0	59.7	47.2
イ	24.7	13.0	15.2	137.1
ウ	-6.2	19.7	53.2	83.8
エ	5.0	28.8	67.5	144.1

(理科年表 2022)

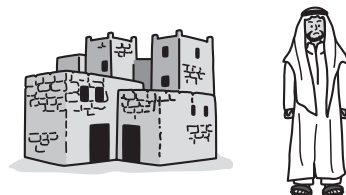
〈考え方〉

イ…7月の平均気温が1月の平均気温より低いので南半球の都市のパース, ウ…1月の気温が低いのでモスクワ(冷帯), エ…7月の降水量が多いのでシャンハイ(温暖湿潤気候)。ア…温暖で降水量がほぼ同じなのでロンドン(西岸海洋性気候)。

答え ア…ロンドン, イ…パース,
ウ…モスクワ, エ…シャンハイ

2(1)特徴的な住居や伝統的な衣服をおさえる。ア…「暑さや湿気」や「高床の住居」などから東南アジア, イ…「窓が小さく」や「石でつくられた壁」などからヨーロッパ, ウ…「永久凍土」や「高床」からロシア, エ…「イグルー」などから寒帯地域となる。

●乾燥した地域の住居は日干しれんがでつくられ, 衣服は日差しや砂ほこりをさける服である。



(2)小麦は比較的降水量が少ない地域で栽培される(ヨーロッパなど)。

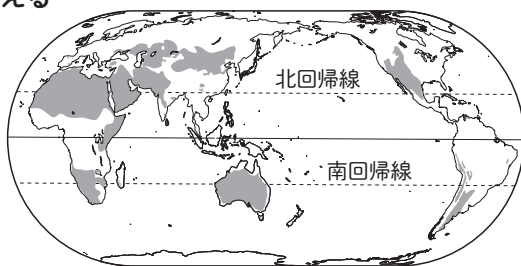
●米は降水量が多い地域で栽培される(東アジアや東南アジア)。

3 南半球に冷帯(亜寒帯)がないことから, b・cはアフリカ大陸, 南アメリカ大陸のどちらかとなる。サハラ砂漠があるアフリカ大陸の方が乾燥帯の割合が高いためc, 熱帯の割合が高いbが南アメリカ大陸と判断する。a・d…中東地域やモンゴルの砂漠などを考え, 乾燥帯の割合が高いaがユーラシア大陸, dが北アメリカ大陸と判断する。

🔄入試につながる

●乾燥帯の気候とそこに住む人々の生活をおさえる

- ・乾燥帯はおもに回帰線付近に分布している。
 - ・イスラム教を信仰している人が多い。
- ただし, イスラム教を信仰している人口が最も多い国は, 赤道付近にあるインドネシア。

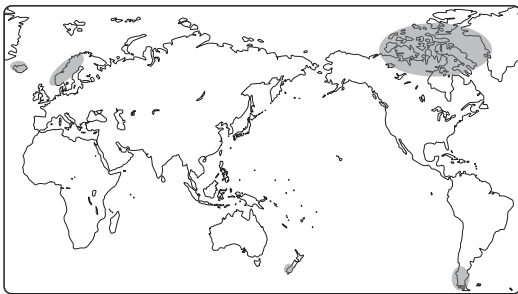


ステップ
2

- 1 (1)フィヨルド (2)ライン(川) (3)イ (4)①D ②C ③B (5)①北大西洋 ②偏西風
(6)イ (7)ウ (8)X④ Y② Z③ (9)モノカルチャー経済 (10)レアメタル
- 2 (1)①b ②a ③ウ ④イ (2)経済特区 (3)cイ dア eウ (4)①夏 ②f
- 3 中国 a ブラジル e オーストラリア d

解説

1 (1)スカンディナヴィア半島など、フィヨルドが見られるおもな地域は以下の通り。



- (2)国際河川とは、複数の国の領土を流れ、条約を結んだ沿岸の国が自由に航行できる河川のことである。
- (3)スペインやイタリア、ギリシャなどの国を通過する北緯40°の緯線は、日本では秋田県や岩手県を通過する。ヨーロッパのおもな国と日本の都市の位置関係に注意しよう。

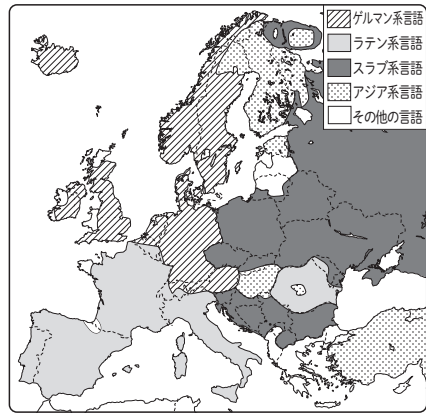
◆おもな都市のおよその緯度

北緯51°…ロンドン
北緯43°…札幌
北緯38°…アテネ

- (4)A…ノルウェー, B…イギリス, C…ドイツ, D…フランス, E…イタリア。
①…「EU最大の農業国」からフランス, ②…「EU最大の工業国」からドイツ, ③…「ゲルマン系言語」, 「EUを離脱」からイギリスとなる。

◆混合農業

ドイツを中心にヨーロッパ北部でさかん。

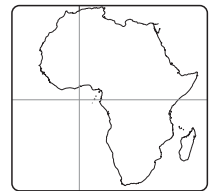


(「ディルケアトラス」ほか)

◆おもなキリスト教の宗派

- ・ゲルマン系言語の地域…プロテスタント
- ・ラテン系言語の地域…カトリック
- ・スラブ系言語の地域…正教会

- (6)赤道と本初子午線はギニア湾沖で交差する。
- (7)カカオはコートジボワールとガーナで世界の生産量の50%以上を占めている(2019年)。



- (8)①エジプト, ②ケニア, ③ザンビア, ④ナイジェリアである。ケニアでは茶の生産と輸出がさかんである。
- (9)効率の面では1種類の作物の栽培に特化したほうがよいが、国際価格の下落があると農家の生活が苦しくなる。こういった現状に対処する手段の1つとしてフェアトレードがある。
- (10)おもなレアメタルとして、マンガンやクロム、

コバルトなどがある。

- 2 (1) アは茶, イは小麦, ウは米の生産量を示したグラフである。生産量が1位中国, 2位インドという農作物は, 3位まで覚えるようにしよう。

◆中国の農業

黄河^{こうが}流域…小麦
長江^{ちやうこう}流域…稲作^{いなさく}
西部…牧畜^{ぼくちく}

牧畜	小麦
	稲作

- (2) 中国では, 経済特区のある沿岸部と, 内陸部との経済格差が大きな問題になっている。
(3) 東南アジアにはさまざまな民族が暮らしており, 言語も宗教もさまざまである。

◆東南アジア諸国のおもな宗教

タイ(e)・ベトナム…仏教
インドネシア(d)・マレーシア…イスラム教
フィリピン(c)…キリスト教

- (4) インドでは, fのガンジス川流域と季節風の影響を受ける沿岸部で稲作が, 北部の乾燥地帯で小麦の栽培がさかんである。

- 3 a…「衣類」などから中国, d…「鉄鉱石」と「石炭」などからオーストラリア, e…「大豆」と「鉄鉱石」からブラジルとなる。b…アメリカ合衆国^{がっしやうこく}, c…ロシア, f…カナダである。国ごとに特徴ある輸出品をおさえておこう。

◆アジア諸国のおもな輸出品

インド…石油製品, 機械類, ダイヤモンド
フィリピン…機械類, 野菜・果物, 精密機械
マレーシア…機械類, 石油製品, 液化天然ガス

⇄入試につながる

●各国の貿易相手国をおさえる

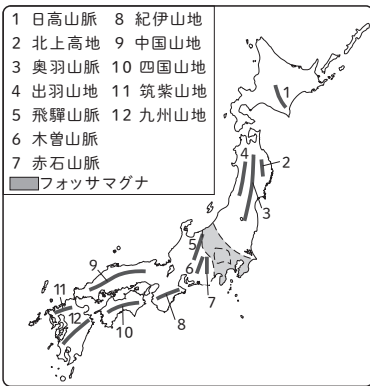
- ・各国間で貿易の自由化などが進められている。そのため, 貿易相手国上位は近隣諸国^{きんりん}が多くなっている。(例 ヨーロッパ諸国→EU加盟国, アメリカ→カナダ, メキシコ)。
- ・オーストラリアの貿易相手国1位はイギリス→日本→中国と変化している。
→かつては, イギリスの植民地であったが, イギリスのEU加盟後に, 貿易相手国は当時の経済大国の日本に, そして現在は経済発展が著しい中国へと変化している。

ステップ
2

- (1)イ (2)①ウ ②リアス海岸 (3)Y (4)Aイ Bウ Cア (5)米ウ 畜産物ア
(6)栽培方法：促成栽培
理由：(例)他の地域の供給量が少ないときに出荷すると高い価格で売れるから。
- (1)(約)750(m) (2)ア
- 千葉県工 東京都ア 北海道イ 山口県ウ
- 大阪府ウ 千葉県ア 福岡県イ 北海道工

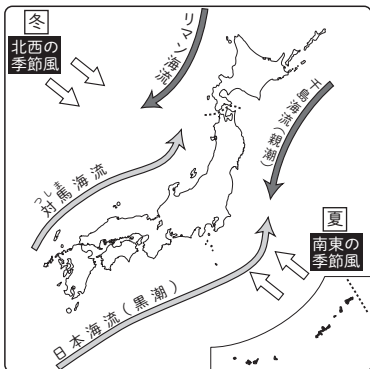
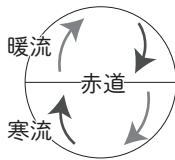
解説

1(1)覚える山地・山脈などは以下の通り。



中国山地・筑紫山地…なだらか
四国山地・九州山地…険しい

(2)(3)暖流は、低緯度から高緯度へ、寒流は高緯度から低緯度へ向かって流れる。日本周辺の海流と季節風の向きは以下の通り。



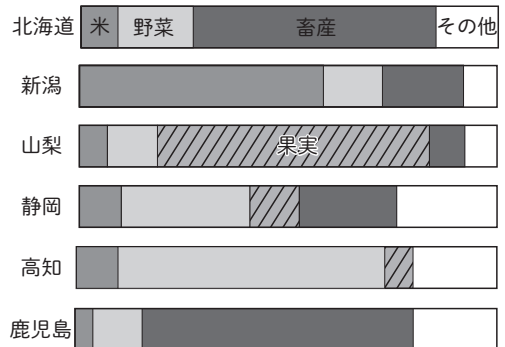
(4)A秋田市…日本海側の気候, B松本市…内陸の気候, C高松市…瀬戸内の気候である。
イ…年間降水量が多いことから日本海側の気候の秋田市。アとウ…1月の平均気温からアが瀬戸内の気候の高松市, 0℃未満になっているウが松本市である。

◆年間降水量と気候区分

- 年間降水量が多い
- ・太平洋側, 日本海側, 南西諸島
- 年間降水量が少ない
- ・北海道, 内陸, 瀬戸内

(5)ウ…米は以前と比べて消費量が減っていることから構成比も低くなっている。ア…畜産物は構成比が最も高い。イが果実, 工は野菜, オは麦類である。

農業産出額構成比には各都道府県の特徴が出ている。



(「2022 データでみる県勢」)

◆おもな農産物の生産地

- ・肉牛…北海道・鹿児島・宮崎
- ・米…新潟・北海道・秋田
- ・ぶどう…山梨・長野・山形
- ・みかん…和歌山・愛媛・静岡
- ・なす…高知・熊本・群馬

2(1)約 3 cm × 25000 = 約75000cm = 約750m

(2)ア…辺の長さを実際の距離にすると、

$$2 \text{ cm} \times 25000 = 50000 \text{ cm} = 0.5 \text{ km}$$

縦×横で面積を求めると、

$$0.5 \text{ km} \times 0.5 \text{ km} = 0.25 \text{ km}^2。$$

イ…北西ではなく北東。ウ…周辺の土地には果樹園が広がっている。エ…発電所の近くにあるのは神社。

3(1)ア…昼夜間人口比率などから東京都、エ…昼夜間人口比率などから千葉県、イ…第3次産業有業者割合から北海道となる。

◆昼夜間人口比率

昼夜間人口比率が100%を超えていると、近隣の県から多くの人が通勤・通学していることになる。

〈100%を超える都府〉

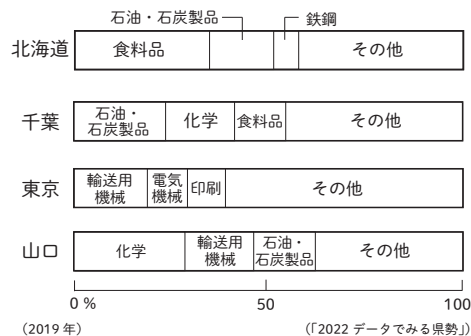
- ・東京117.8, 大阪104.4, 京都101.8

〈90%を下回る県〉

- ・埼玉88.9, 千葉89.7 (2015年)

- ・第3次産業有業者の割合（全国）72.5%
- ・第3次産業有業者割合が高い都道府県
東京83.7, 沖縄80.7, 神奈川78.1,
千葉77.6, 北海道76.5, 福岡75.8
⇒人口が多い、もしくは観光業がさかん
な都道府県 (2017年)

都道府県ごとの製造品出荷額割合からそれぞれの都道府県の工業の特徴が分かる。



4 ア…成田国際空港（千葉県）は国際線の利用者数が最も多い空港である。ウ…国際線の利用者数から関西国際空港がある大阪府、エ…貨物輸送量が多いことから北海道となる。人口が多く首都にある羽田（東京国際）空港以外に国内線の利用者が多い空港は、新千歳空港（北海道）、福岡空港、沖縄空港と、首都から離れたところに位置している。

🔗入試につながる

●都道府県の製造品出荷額等割合のグラフから、どこの都道府県のグラフかを判別する

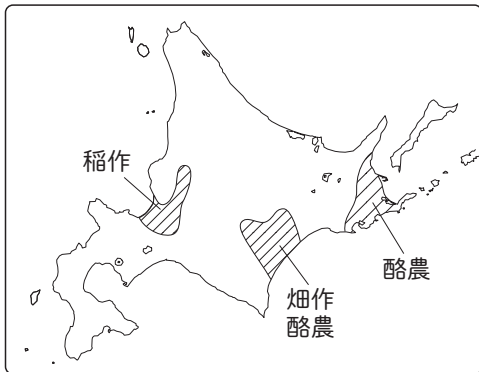
- ・食料品の割合が30%以上…沖縄県・北海道・鹿児島県
- ・輸送用機械の割合が30%以上…愛知県・群馬県・広島県・福岡県
- ・石油・石炭製品の割合が20%以上…千葉県・和歌山県
- ・印刷の割合が高い…東京都・埼玉県

ステップ
2

- 1 (1)ウ (2)ア (3)イ (4)(例)夏の南東の季節風が、親潮に冷やされるから。(5)知床半島 (6)東京都ア 新潟県エ 北海道イ 山梨県ウ (7)①オホーツク ②北洋
- 2 (1)A琵琶(湖) B淀(川) C紀伊(山地) (2)高松(市) (3)イ
- 3 大分県イ 沖縄県エ 鹿児島県ウ 鳥取県ア
- 4 エ

解説

- 1 (2)石狩平野では稲作，十勝平野では畑作と酪農，根釧台地では酪農がさかんである。

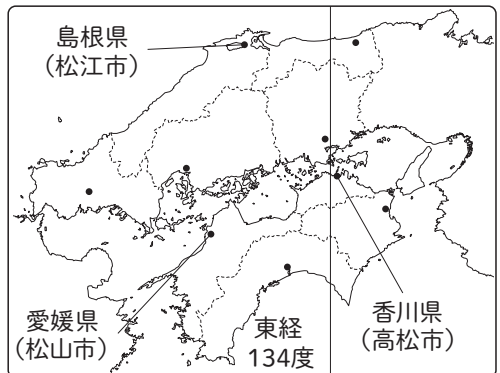


- (3)日高山脈は北海道唯一の山脈である。
- (4)北海道東部の太平洋側では、寒流の千島海流（親潮）によって季節風が冷やされ、濃霧が発生しやすいため、夏でも晴れの日が少なく低温になりやすい。
- (5)世界自然遺産に登録されている知床半島では、エコツーリズムがさかんとなっている。エコツーリズムとは、ガイドとともに森林を歩いたり、川でカヌーに乗ったりすることで、自然環境を学ぶ観光のことであり、生態系の保存と観光の両立を目指している。
- (6)エ…米の割合が高いことから新潟県，ア…米はほとんど生産されていないことから東京都と判断する。ウ…その他（この場合は果実）の割合が高いことから山梨県，残るイが北海道となる。
- (7)北海道では、沖合漁業や沿岸漁業のほかに養殖業や栽培漁業もさかんに行われている。

◆養殖業と栽培漁業

- ・養殖業…いけすの中で、魚介類を商品として売れる大きさになるまで育ててから漁獲する漁業。
- ・栽培漁業…卵から稚魚になるまで育てて放流し、育ってから漁獲する漁業。

- 2 (1)A…琵琶湖周辺では赤潮の原因の一つであるリンを含む家庭用の合成洗剤の使用が禁止されている。B…淀川は、琵琶湖から大阪湾へと流れている。C…紀伊山地は年間の降水量が多いため、樹木の生長が早く、林業がさかんである。「吉野すぎ」や「尾鷲ひのき」は高品質な木材ブランドとして知られている。
- (2)日本の標準時子午線が、兵庫県明石市を通過する東経135度の経線であることから考える。東経134度の経線と、中国・四国地方の県名と県庁所在地名が異なる県庁所在地は次の図の通り。



(3)ア…化学工業の割合が最も高いことから京葉、ウ…次に化学工業の割合が高いことから瀬戸内、エ…機械工業の割合が高いことから東海と判断できる。

3エ…第3次産業有業者割合が最も高いので沖縄県、ウ…農業産出額(畜産)が高いので鹿児島県、イ…製造品出荷額等が高いので大分県となる。人口が少ない県は、鳥取県(約55万人)、島根県(約67万人)、高知県(約69万人)、徳島県(約72万人)、福井県(約77万人)である(2020年)。

- ・九州地方で製造品出荷額が高い県とさかんな工業
福岡県…自動車工業
大分県…自動車工業、化学工業
- ・九州地方で畜産業がさかんな県
鹿児島県、宮崎県、熊本県

4ウ…面積から岩手県、ア…都県内総生産や食料自給率から東京都、イ…面積や人口増加率から埼玉県となる。人口増加率とは、ある地域において、一定期間のうちに増加した人口の割合のこと。東京都や埼玉県以外のおもな人口増加率がプラスの県は、神奈川県、愛知県、福岡県、沖縄県などである。都道府県別の食料自給率とは、各都道府県内で消費される食料のうち、どれだけが各都道府県で生産されているかを示す割合のこと。食料自給率が高い都道府県は、農業がさかんな都道府県である。岩手県以外に食料自給率が高いおもな道県は北海道、青森県、秋田県、山形県、新潟県、佐賀県などである。都道府県内総生産とは、県内で産み出された生産物の総額から経費を引いたものである。数字が高いほど、その都道府県は生産活動がさかんであるといえる。東京都や埼玉県以外に県内総生産が高いのは愛知県、大阪府、神奈川県、千葉県、兵庫県などである。

🔗入試につながる

●地名を見たら、その場所を地図帳で確認する

- ・最上川や山形盆地など地名を見かけたら、必ず地図帳で場所を確認するようにする。
- ・平野や盆地は、流れている河川も確認するようにしよう。
- ・地図帳にはいろいろな統計資料も載っているので、それらにも目を通してみよう。入試では、初めて見る資料が多いので、いろいろな資料に慣れておくとよい。

ステップ 2

- 1 (1) X イエス Y ○ (2) ア 8 (世紀) イ 紀元前 1 (世紀) ウ 16 (世紀)
(3) ①シ ②イ ③オ ④ア ⑤エ (4) ①ア ②ウ ③エ
- 2 (1) 国名：殷 文字：甲骨文字 (2) 儒学(儒教) (3) (秦の) 始皇帝 (4) 万里の長城
(5) シルクロード(絹の道) (6) X → Z → Y
- 3 (1) ウ (2) 聖武(天皇) (3) イ (4) 天台(宗)
(5)(例) 阿弥陀仏にすがり、死後に極楽浄土に生まれ変わることを願う信仰。
(6) 岩手県 (7) ①オ ②ウ ③ア ④ア
- 4 (1) ア → ウ → イ (2) ウ → イ → ア (3) イ → ア → ウ

解説

1 (2) 世紀から西暦への変換もできるようにする。

確認

- ① 8 世紀 ② 12 世紀 ③ 21 世紀は何年から何年を指す?
→ ① 701 年 ~ 800 年, ② 1101 年 ~ 1200 年,
③ 2001 年 ~ 2100 年

(3) 各時代の始まりに近い年号やできごとを覚えておくとよい。

- 縄文… 1 万年前
- 弥生… 紀元前 4 世紀
- 古墳… 3 世紀
- 飛鳥… 593 年 (聖徳太子が摂政になる)
- 奈良… 710 年 (平城京)
- 平安… 794 年 (平安京)
- 鎌倉… 1192 年 (征夷大將軍 源頼朝)
- 室町… 1338 年 (征夷大將軍 足利尊氏)
- 安土桃山… 1573 年 (室町幕府滅亡)
- 江戸… 1603 年 (征夷大將軍 徳川家康)
- 明治… 1868 年 (五箇条の御誓文)
- 大正… 1914 年 (第一次世界大戦)
- 昭和… 1929 年 (世界恐慌)

(4) 時代の順番を覚えた後、時代区分と各時代を対応させて覚える。一般に古代は武士が誕生する前まで、中世は江戸幕府成立の前まで、近代は昭和の太平洋戦争の終結までである。

2 (1) 中国の王朝名(国名)はその時に活躍した日本の人物もしくは時代とつなげて覚える。

漢… 奴国王, 魏… 卑弥呼, 隋… 聖徳太子,
唐… 中大兄皇子 ~ 桓武天皇, 宋… 平清盛,
元… 北条時宗, 明… 足利義満 ~ 徳川家康,
清… 徳川家光 ~ 日清戦争,
中华民国… 大正 ~ 戦後

- (3) 始皇帝は統一した国をまとめるために、文字、貨幣などを統一した。
- (5) シルクロードは、西アジアや地中海地域(ローマ帝国)と中国(漢)を結ぶ交通路で、西方へは中国の絹などが、西方からは馬やぶどうなどがもたらされた。
- (6) 以下の通りである。
紀元前 8 世紀… ギリシャのポリス成立 (X)
紀元前 6 世紀ごろ… シャカが仏教を開く (Z)
紀元前 202 年… 漢が中国を統一する (Y)

3 (1) ア… 936 年, イ… 960 年, ウ… 610 年ごろ, エ… 1096 年のできごと。

世界のできごとは、日本のいつの時代に起こったのかをだまかに捉える。

- ・ 高麗の統一と宋の成立は平安前期
- ・ イスラム教成立は聖徳太子の時代
- ・ 十字軍遠征開始は院政の時代

- (2)聖武天皇は奈良時代の天皇で、仏教の力で、伝染病や災害などから国を守ろうとした。また、行基に大仏づくりの協力をさせた。
- (3)ア…鎌倉時代、ウ・エ…平安時代の作品である。作品などはどの時代のものかをおさえておこう。

【飛鳥文化】

法隆寺・法隆寺の釈迦三尊像

【天平文化（奈良）】

古事記・日本書紀・風土記・万葉集

正倉院（校倉造）

【国風文化（平安）】

仮名文字・古今和歌集・源氏物語（紫式部）・枕草子（清少納言）・寝殿造・平等院鳳凰堂（藤原頼通）

- (4)最澄－天台宗－延暦寺、空海－真言宗－金剛峯寺をセットで覚えておこう。
- (5)このころ人々は、シャカが亡くなって2000年目にあたる年になったと信じ、その後は世の中が乱れるという思想が広まって、皇族や貴

族の間では浄土信仰がさかんになった。平等院鳳凰堂もこの信仰によって造られた。

- (6)おもな遺跡や建築物はどの都道府県にあるかをおさえておく。

【古墳】

大仙古墳（大阪府）、稲荷山古墳（埼玉県）、江田船山古墳（熊本県）

【平安】

延暦寺（滋賀県・京都府）、金剛峯寺（和歌山県）、巖島神社（広島県）

- (7)ア…飛鳥時代から奈良時代、イ…奈良時代、ウ…奈良時代から平安時代、エ・オ…平安時代。①…白河上皇（平安）、②…平安京遷都（桓武天皇）、③…平城京遷都、④…飛鳥時代のできごとである。
- 4(1)ア…1世紀、奴国王が金印を授かる。イ…5世紀（古墳時代）、中国の南朝に朝貢した。ウ…3世紀、邪馬台国の卑弥呼。
- (2)富本銭は天武天皇の時代につくられた。
- (3)保元の乱→平治の乱という順番である。

🔗入試につながる

●歴史用語や人物は何時代のものなのかを必ず確認する

- ・並べ替え問題などに対応するために、必ず時代を古い順から覚える。
- ・古事記、日本書紀は奈良時代、源氏物語は平安時代など、いつの時代の作品かを確認する。
- ・入試では、寺院や仏像などの写真が出題される場合もあるので、寺院や仏像などは教科書や資料集で確認しておく。

ステップ2

- 1 (1) a 壇ノ浦の戦い 記号工 (2)藤原純友 (3)ウ→イ→ア→エ (4)御家人 (5)平家物語 (6)後醍醐天皇 (7)ウ (8)徳政令 (9)雪舟 (10)ア (11)工
- 2 (1)①北条泰時 ②執権 ③ a 守護 b 頼朝 (2)①明 ②工 ③(例)正式な貿易船と倭寇を区別するため。 ④狂言
- 3 (1)惣(惣村) (2)馬借 (3)座 (4)足利義政 (5)(例)身分が下の者が、身分が上の者を倒すこと。 (6)町衆

解説

- 1 (1) a の壇ノ浦の戦いは、現在の山口県で起こった源平最後の戦いである。地図中のアは平泉、イは下総、ウは京都を示している。

◆おもな戦い・反乱

平将門・藤原純友の乱…地方武士の反乱
 保元・平治の乱→平氏の台頭
 壇ノ浦の戦い…平氏の滅亡
 承久の乱→幕府の全国支配の確立
 応仁の乱→下剋上の世へ

- (2)藤原純友は伊予国(現在の愛媛県)の役人だった。瀬戸内海周辺(海賊)らと朝廷に対して反乱を起こしたが、武士に鎮圧された。関東地方で反乱を起こしたのが、平将門である。
- (3)アは1159年、イは1156年、ウは1086年、エは1167年のできごとである。平安時代のおもな権力者の順番は、桓武天皇→藤原道長→白河上皇→平清盛である。平清盛は保元の乱、平治の乱に勝利し、太政大臣となった。
- (4)御家人とは、将軍と主従関係を結んだ武士のことをいう。
- (5)平家物語は、平家一門の盛衰を描くとともに世のはかなさを説いた軍記物である。琵琶法師の語りにより、武士や庶民の間に広まっていった。
- (6)後醍醐天皇は、2度倒幕計画を進めたが、いずれも失敗した。

- (7)正長の土一揆は1428年のできごとである。アは1519年、イは7世紀ごろ、ウは1429年、エは1206年のできごとである。
- (8)徳政令が最初に出されたのは、鎌倉時代後半の1297年であるが、室町時代に入り庶民の力が強くなると、しばしば徳政を要求する一揆が起こった。
- (9)雪舟は室町時代の水墨画家である。
- (10)加賀の一向一揆では、一向宗(浄土真宗)の信徒らが守護大名を滅ぼし、約100年間自治を行った。
- (11)おもな一揆と乱の順番は、正長の土一揆→応仁の乱→山城国一揆→加賀の一向一揆となる。
- 2 (1)①この資料は、鎌倉幕府第3代執権である北条泰時が制定した御成敗式目である。資料を見て、御成敗式目とわかるようにすること。

◆鎌倉時代の執権

北条時政…源頼朝の妻・北条政子の父で、初代執権として政治の実権を握った。
 北条泰時…御成敗式目を制定した。
 北条時宗…元寇を退けた。

- ②有力な御家人をまとめた北条氏が執権の地位を独占した。この政治を執権政治という。幕府の将軍の補佐役は、鎌倉一執権、室町一管領、江戸一老中である。
- ③ a の守護には、御家人が任命され、国内の御家人の統率、軍事・警察などにあたった。

(2)①足利義満は、明の倭寇の取り締まり要求と貿易の利益に目をつけ、貿易による利益を幕府のものにしようとして、明との貿易を始めた。勘合貿易は、寺院や大名、堺や博多の商人などが行い、その利益は幕府の大きな財源となった。

③14世紀後半、九州北部や瀬戸内海沿岸の武士や漁民などが、集団で海賊行為を働いたり、朝鮮や明の沿岸で貿易を強要したりして、倭寇とよばれた。この倭寇と正式な貿易船を区別するために、正式な貿易船には、勘合とよばれる合い札が交付され、明でもう片方と照合された。

◆中世の貿易

日宋貿易…12世紀後半、平清盛が進めた。
兵庫の港を修築した。

日明貿易…1404年、足利義満が始めた。明に朝貢する形の貿易。

④狂言は能の合間に演じられた、人々の失敗などをもとにした喜劇である。

3(1)惣とは、農民らが団結して自分たちで運営した組織（村）である。有力者が中心となって寄合を開き、村のおきてをつくったり、犯罪者を処罰したりした。

(3)商人らは座をつくり、特定の貴族や寺社に税を納めるかわりに営業を独占した。

(4)足利義政のとき、将軍のあとつぎ問題をめぐり、細川氏と山名氏の対立が深まり、応仁の乱が起こった。

(6)京都では町衆とよばれる裕福な商工業者による自治が行われた。

🔗入試につながる

●何の資料が判別できるようにする

・教科書に掲載されている資料は、入試によく出題されるので、資料中のキーワードを覚え、何の資料かわかるようにする。

→(例)「頼朝公」「恩」…北条政子の訴え、「守護の職務」…御成敗式目、
「祇園精舎の鐘の声」…平家物語、「このごろ都ではやるもの」…二条河原落書

ステップ2

- 1 (1)B フランシスコ・ザビエル F 水野忠邦 (2)I イエズス II 関ヶ原 III 享保 IV 天保
(3)ア (4)宗教改革 (5)千歯こき (6)株仲間 (7)イ・エ・オ (8)イ
(9)(例)一揆の中心人物を特定できないようにするため。
- 2 (1)①A ②鉄砲(火縄銃) ③愛知(県)
(2)①刀狩令 ②(例)武士と農民の身分の区別をはっきりさせること。 ③千利休
- 3 (1)エ→ウ→イ→ア (2)ウ (3)イ (4)対馬(藩) 使節：朝鮮通信使 (5)薩摩(藩)
(6)オランダ・清(中国)

解説

- 1 (1)B カトリック教会は、プロテスタントに対抗するためイエズス会をつくり、海外で布教することによりカトリックの勢力回復を目指した。F 天保の改革を進めた水野忠邦は、**儉約令**を出してぜいたく品を禁止するとともに、物価を引き下げするため、株仲間の解散を命じた。また、江戸への出かせぎを禁止し、江戸に出ている農民を村に帰した。
- (2)II 関ヶ原の戦いでは、1600年、豊臣側の西軍と徳川側の東軍が戦った。勝った徳川家康は江戸に幕府を開いた。III 享保の改革とは、8代将軍徳川吉宗が進めた政治改革である。享保の改革では、上げ米の制のほか目安箱の設置や新田開発、公事方御定書の制定などが行われた。

◆江戸時代の改革

徳川吉宗…享保の改革 (1716年～)
松平定信…寛政の改革 (1787年～)
水野忠邦…天保の改革 (1841年～)
人物名と改革名と年号を覚える。

- (3)コロンブスは、1492年、スペインの支援を受けて、西インド諸島に到達した。
- (4)ドイツ人のルターは、聖書の教えによってのみ救われると説いた。ルターやカルバンの教えはドイツ、フランス、イギリスなどに広まった。

- (5)江戸時代には、**脱穀**のための千歯こきや、田畑を深く耕することができる備中ぐわなど、農具の改良が進んだ。
- (6)株仲間は、江戸時代、幕府や諸藩により、営業の独占を許された商工業者の同業組合である。田沼意次のときに結成が奨励され、結成が進んだ。

◆同業組合

室町時代…座

江戸時代…株仲間

- (7)三都とは、江戸・大阪・京都のことである。大阪は「天下の台所」とよばれ、各大名が蔵屋敷を設置した。
- (8)ア…1688年、イ…1775年～、ウ…1519年、エ…14世紀ごろである。Eの田沼意次は1772年に老中に就任して経済対策を行った。
- (9)「一揆の参加者が連帯して責任を取ることを表すため」と書いてもよい。
- 2 (1)①長篠の戦いは、織田信長・徳川家康連合軍と甲斐の武田勝頼軍との戦いであった。この戦いで、資料I中で左側に位置する鉄砲隊が威力を発揮し、騎馬隊で知られている武田軍を破った。
- ②鉄砲づくりの技術は、種子島から各地に伝わり、特に堺(大阪府)や国友(滋賀県)は有数の鉄砲の産地となった。

③織田信長は尾張（愛知県）の大名であり、桶狭間の戦いや長篠の戦いはともに現在の愛知県で起こった。

(2)①②資料Ⅱは豊臣秀吉が出した刀狩令で、農民の一揆を防ぎ、農耕に専念させるため、農民から武器を取り上げた。刀狩と太閤検地により、武士と農民の身分が明確に分けられた。太閤検地では、年貢を確実に納めさせるために、収穫量を石高で示し、検地帳に耕作者、土地の質などを記した。

◆信長、秀吉とキリスト教

信長…仏教勢力に対抗するため、キリスト教を保護。

秀吉…宣教師を国外に追放。ただし南蛮貿易は認めた。

③千利休は、織田信長や豊臣秀吉などに茶の湯の作法を指導した。また茶器の鑑定も行った。

3(1)ア…1641年、イ…1639年、ウ…1637年、エ…1624年のことである。最後に来航が禁止となっ

たのがポルトガル船であることに注意する。

(2)島原は長崎県、天草は熊本県である。

(3)このときの将軍は徳川家光である。島原・天草一揆の後、キリスト教の信者を見つけるため、絵踏を強化した。また、宗門改により、人々が仏教徒であることを寺院に証明させた。

(4)朝鮮との貿易は対馬藩の宗氏が担当し、朝鮮には貿易を行う倭館が置かれた。朝鮮人参や生糸が輸入され、対馬藩からは銀や銅が輸出された。

(5)琉球王国からは将軍がかわるごとに慶賀使とよばれる使節が江戸に派遣された。

(6)オランダや中国（清）との貿易では、生糸や絹織物、書籍などが輸入された。

◆江戸時代のおもな権力者

徳川家康→徳川家光→徳川綱吉→徳川吉宗
→田沼意次→松平定信→水野忠邦→井伊直弼→徳川慶喜。

人物名を順番に覚え、その人物の政策をおさえていく。

🔗入試につながる

●世界のできごとと日本のできごとの横の繋がりに注意する

- ・江戸時代は特に外国との繋がりがほとんどないため、世界のできごとが日本のどの時期にあったのかを注意しておさえる。
- ・世界で起こったできごとが、日本のできごととどのように関連していくかを考えるようにしておく、忘れにくくなる。

(例)宗教改革、大航海時代→ザビエルの来日、南蛮貿易

アヘン戦争→大国の清が敗れたことで幕府の鎖国体制がゆらいでいく。

ステップ
2

- 1 (1)A 権利章典 B 独立宣言 C 人権宣言 (2)リンカン (3)ルソー (4)ナポレオン
2 (1)a ベリー b 徳川慶喜 c 西南戦争 d 韓国 (2)ウ→イ→エ→ア (3)3%
(4)法律 (5)(例)直接国税を15円以上納める満25歳以上の男子。
(6)E 下関条約 F ポーツマス条約 (7)①ウ ②ア ③エ
3 (1)①アヘン ②エ (2)産業革命
4 (1)ウ (2)ア (3)エ

解説

1 (1)A ピューリタン革命で勝利したクロムウェルは王政を廃止したが、クロムウェルも議회를軽視した政治を行ったため、クロムウェルの死後、王政に戻った。しかし国王が再度議会と対立したため、議会は国王を追放し、新たな国王をオランダから迎えた。これが名誉革命である。王は議会の承認なしに王権を行使することはできないとする権利章典が出された。

B 17世紀以来、北アメリカにわたったイギリス人は、18世紀半ばまでに、13の植民地をつくっていた。財政が苦しくなったイギリスが植民地の人々にも新しい税をかけたため、本国からの独立を求める戦いを起こした。

C 人権宣言は、自由、平等、人民主権(国民主権)、私有財産の不可侵など、市民革命の原理を明らかにしたことで知られている。

(2)南北戦争中、北部を率いたリンカンは、奴隷解放宣言によって支持を広げ、勝利をおさめた。リンカンが演説の中で発した、「人民の、人民による、人民のための政治」という言葉は有名である。

(3)ルソーの考えは、アメリカの独立やフランス革命などの市民革命に大きな影響をあたえた。

◆市民革命

イギリス…ピューリタン革命→名誉革命(権利章典)

アメリカ…イギリスから弾圧→独立戦争(独立宣言, 合衆国憲法)

フランス…フランス革命(人権宣言)

- 2 (1) a ベリーは、4 せきの軍艦(黒船)で浦賀(神奈川県)沖に現れ、開国を求めるアメリカ大統領の手紙を幕府に差し出した。日本は、翌年の1854年、日米和親条約を結び、函館と下田を開いた。
(2) アは1866年、イは1862年、ウは1858～59年、エは1863年のできごと。薩英戦争は、生麦事件に対するイギリスの報復である。
(3) 明治政府はこれまでの年貢を改めた地租改正により安定した税収を確保しようとした。これにより土地の所有者は、土地の所有権を認められたが、地価の3% (後に2.5%) にあたる地租を現金で納めることになった。
(4) 大日本帝国憲法の制定と翌年の議会の開設により、日本は近代国家として形を整えたが、天皇に権力が集中していて、国民の人権は法律で制限された。

◆大日本帝国憲法

草案→伊藤博文がドイツ（プロイセン）の憲法を手本に作成

発布→1889年

天皇→主権者・神聖であり陸海軍の統帥権をもつ

国民の人権→法律の範囲内で保障＝法律により制限

生産が可能になった。大量生産をするしくみは、社会や人々の生活に大きな変化をもたらした。

◆アヘン戦争

時期→1840～42年

原因→イギリスによるアヘンの密輸を清政府が厳しく取り締まったこと

結果→イギリスの勝利、不平等な南京条約の締結

- (6) E 日清戦争の講和会議は、山口県の下関市で開かれた。このとき結ばれた講和条約を、その地名をとって下関条約という。
- F アメリカの仲介により、ポーツマスで講和会議が開かれ、講和条約が結ばれた。
- 3 (1) インド産のアヘンをイギリスが清に密輸したのに対し、清政府がこれを取り締まったため、イギリスは軍艦を送って戦争を起こした。勝利したイギリスは、清から香港を手に入れ、上海など5港を開かせた。
- (2) ワットによる蒸気機関の改良などにより、工業生産に機械が使用されるようになって大量

- 4 (1) A…1902年、B…1895年、C…1905年、D…1875年のできごとである。
- (2) A…1776年、B…1649年、C…1688年、D…1857～59年のできごとである。
- (3) ア、イ…イギリスとの間で治外法権（領事裁判権）の撤廃に成功したのは陸奥宗光外相のときである。ウ…井上馨は、外国に日本の西欧化を示すための欧化政策をすすめたが、ノルマントン号事件が発生し、その外交方針が弱腰であるとの批判を受け辞職した。

🔗入試につながる

●並べ替え問題に対応する力をつける

- 江戸時代までは、政治の中心となる権力者を順番に覚えておくと並べ替え問題に対応しやすい。
- 明治時代以降は国が政治を行っていくため、重要なできごとの年号を覚えておくと並べ替え問題に対応しやすい。

ステップ
2

- 1 (1)第一次護憲運動 (2)民本主義 (3)山東(省) (4)レーニン (5)エ (6)ガンディー (7)五・四運動 (8)エ (9)治安維持法 (10)イ (11)ウ (12)(例)戦前の政党政治が終わった。(13)ポツダム宣言 (14)①エ ②ウ ③イ ④ア
- 2 (1)①第一次世界大戦
②(例)主戦場となったヨーロッパ諸国にかわって日本がアジアなどで貿易を進めたため、貿易額、特に輸出額が大きく伸びた。
(2)①(例)納税額の条件がなくなり、満25歳以上のすべての男子に選挙権が認められたから。
②法律名：普通選挙法、首相名：加藤高明
- 3 (1)エ (2)エ (3)ウ

解説

- 1 (1)1912年立憲政友会の西園寺公望内閣が陸軍によって総辞職に追い込まれた。次の首相に藩閥の桂太郎が就任すると、政党や民衆などが、藩閥中心の官僚政治に反対して政党政治の確立を目指す運動を起こした。これが護憲運動である。
- (2)吉野作造は、民本主義という訳語を使ってデモクラシーの本質を説いた。民本主義は普通選挙運動に大きな影響をあたえた。
- (3)1914年、日本は日英同盟を理由にドイツに宣戦布告をし、ドイツが支配していた山東半島などを占領した。山東半島の場所は以下の通り。



- (5)シベリア出兵を見こして商人らが米の買い占めを行い、米価が上がったため、富山県の漁村の主婦が米の安売りを求めて米屋におしかけたのをきっかけに、米騒動が全国に広がった。
- (6)インドは、第一次世界大戦後に自治を認める

というイギリスとの約束をもとに、多くの兵士をヨーロッパの戦場に送った。しかしその約束が守られなかったため、ガンディーが指導する政党が中心となり、イギリスに対し非暴力・不服従の抵抗運動を起こした。

◆各国の民族運動

インド…非暴力・不服従運動

→ガンディーが指導者、イギリスに対し自治を求める。

中国…五・四運動

→反日運動+帝国主義に反対する運動。

朝鮮…三・一独立運動

→「独立万歳」、日本の植民地支配に反対。

- (9)治安維持法は私有財産制度を否定する社会主義運動やその思想などの取り締まりのために制定された。
- (10)ニューディール政策は、1933年からローズベルト大統領が行った政策である。政府が積極的に公共事業をすすめる、失業者を救済するなどした。
- (11)資源のとほしい日本は、世界恐慌でさらに深刻化した不況を克服しようとして、大陸侵略に乗り出した。軍部が奉天郊外の柳条湖で南満州鉄道の線路を爆破して満州事変を引き起

こし、満州を支配下において、翌年には満州国をつくった。

(13)ポツダム宣言には、日本の無条件降伏と日本の民主化を進める内容が盛りこまれていた。

(14)①は1945年、②は1940年、③は1937年、④は1933年のできごと。

2(1)第一次世界大戦ではヨーロッパが戦場となった。日本は連合国へ武器などの輸出を増やし、重工業が発達した。また、アジアやアフリカの市場から後退したヨーロッパ諸国にかわり、日本はアジアやアフリカへの輸出も増やした。

(2)①これまでは、有権者の資格に、一定額以上の国税を納める者という制限があった。

◆1925年に成立した法律

普通選挙法→1925年、満25歳以上の男子に選挙権。

治安維持法→1925年、社会主義・共産主義運動を取り締まる目的。

3(1)ア…国際協調より自国の経済を回復させることを優先したかったイギリスとフランスは、植民地貿易を増やす一方で、他国の商品には高い関税をかけた。イ…ファシスト党はイタリアのムッソリーニが率いていた政党である。ウ…世界恐慌の影響は日本にもおよび、経済の落ち込みは深刻なものとなった。

(2)Aは1939年8月、Bは1933年、Cは1939年9月、Dは1940年のできごとである。ドイツではヒトラーが政権を握った後、ソ連と不可侵条約を結び、ドイツ軍はポーランドへ侵攻した。

(3)ワシントン会議が開かれたのは第一次世界大戦後の1921～22年である。ア…ベルサイユ条約は1919年、イ…大西洋憲章は1941年である。

🔗入試につながる

●まずは日本国内のできごとと世界のできごとを分けて、流れをつかむ

大正時代以降は日本と世界のできごとが絡み合ってくるので、まずは日本のできごとと世界のできごとの流れをそれぞれ頭に入れていくと理解しやすい。その後、それぞれのできごとがどのように関係しているのかをつかむと理解が深まる。

ステップ
2

- 1 (1)㉔エ ㉕イ ㉖オ (2)①マッカーサー ②財閥解体 (3)①ニューヨーク ②ア
 (4)(例)選挙権があたえられる年齢が満20歳以上に引き下げられ、女子にも選挙権が認められたから。
 (5)冷戦(冷たい戦争) (6)平和主義 (7)東京 (8)石油危機(オイル・ショック)
 (9)①イ ②イ
- 2 (1)(例)地主の土地を国が買い上げ、小作人に安く売り渡した。
 (2)①朝鮮戦争 ②自衛隊 ③ア
- 3 (1)イ (2)イ・エ (3)イ→ウ→ア→エ

解説

- 1 (1)㉔労働組合法は、第二次世界大戦後に定められた労働三法の1つで、労働三権を保障し、使用者の不当労働行為を禁止した法律である。
- ㉕教育の民主化を進めるため、教育勅語を廃止し、教育基本法や学校教育法を定めた。
- ㉖1985年、雇用における男女平等を目指して男女雇用機会均等法が制定された。この法律では、募集・採用、配置・昇進の平等などを「努力義務」としていたが、1999年には、これらの差別を禁止規定に強化し、違反企業名を公表するなどの改正が行われた。
- (2)①GHQは連合軍最高司令官総司令部の略称である。GHQの方針は、戦前の軍国主義を改め、民主主義を根づかせることを目標に定められた。
- (5)第二次世界大戦後、アメリカ合衆国を中心とする資本主義諸国(西側陣営)と、ソ連を中心とする社会主義諸国(東側陣営)の対立が深まり、冷戦(冷たい戦争)とよばれるようになった。西側陣営は1949年に北大西洋条約機構(NATO)を、東側陣営は1955年にワルシャワ条約機構を結成した。
- (6)戦争の悲惨さを反省し、日本国憲法の前文と第9条に平和主義をうたっている。第9条には、戦争の放棄、戦力の不保持、交戦権の否

認が定められている。

- (7)高度経済成長が続く中、1964年にオリンピック・パラリンピック東京大会が開かれ、それに合わせて交通や都市の整備が進んだ。同年に東海道新幹線が開通したほか、1965年には名神高速道路が全線開通した。
- (8)第四次中東戦争が起こると、産油国であるアラブ諸国は、交戦国イスラエル側に立つ西側諸国に対抗して、石油価格の大幅な引き上げと、石油の供給制限を実施した。これにより、石油に依存する西側諸国が、経済的に大きな打撃を受けたことから、このできごとは石油危機(オイル・ショック)とよばれている。
- (9)①は1968年、②は1965年のできごとである。

◆民主化政策

財閥解体→三井・三菱などの財閥を解体。

農地改革→自作農の増加。

教育制度→教育勅語廃止、教育基本法公布。

労働法→労働組合法、労働基準法などを制定。

- 2 (1)第二次世界大戦後、農村の民主化をはかるため、農地改革が行われた。土地を地主から借りて耕作する小作人が多かったが、村に住んでいない地主(不在地主)の全耕地と在村地主の約1ha(北海道は4ha)以上の耕地は

国が買い上げて、もとの小作人に安く売り渡した。これによって自作農が大幅に増え、地主が農村を支配する力はおとろえた。

- (2)朝鮮は、主義の異なる2つの国に分けられたため、互いに対立し合う要素をもっていた。朝鮮戦争が始まると、GHQ（連合国軍最高司令官総司令部）の指令で、警察予備隊がつくられた。この警察予備隊は次第に強化され、1954年には自衛隊となった。

◆GHQの占領政策の転換

冷戦の始まり→朝鮮戦争の勃発→警察予備隊の設置→サンフランシスコ平和条約の調印→自衛隊の発足。

- 3(1)ア…治安維持法は1925年に制定された、共産主義運動や、天皇制、私有財産制度を否定

する運動を取り締まる法律である。ウ…財閥とは、三井・三菱・住友・安田などの資本家の中で、金融や貿易などさまざまな業種に進出して日本経済を支配するようになった。GHQは財閥が日本の軍国主義を支援していたと考え、解体を命じた。エ…戸主制度とは明治時代の民法に規定されていたもので、戸主（家長）にすべての権限がある制度である。日本国憲法における男女平等に基づき、改正民法では新たな家族制度が定められた。

- (2)ア…1956年のできごと。日本はソ連と国交を回復して国際連合に加盟した。イ…1965年、ウ…1951年、エ…1972年のできごとである。
(3)ア…1967年、イ…1945年、ウ…1955年、エ…1972年のできごとである。

🔗入試につながる

●同年に起きたできごととはセットで覚える

- ・1951年…サンフランシスコ平和条約、日米安全保障条約
- ・1956年…日ソ共同宣言、日本の国際連合加盟
- ・1964年…東海道新幹線開通、東京オリンピック・パラリンピック開催
- ・1972年…沖縄の日本復帰、日中共同声明

ステップ2

- 1 (1)①公布…1946年11月3日, 施行…1947年5月3日 ②平和主義
③(例)法律の範囲内で保障されていた。
- (2)Ⅰ象徴 Ⅱ戦争 Ⅲ交戦 Ⅳ個人 Ⅴ両性 (3)ロック (4)b 参政権 d 社会権
(5)精神(活動)の自由 (6)勤労の義務・納税の義務
- 2 (1)a 平等 b 幸福 (2)イ (3)エ (4)C→B→A
- 3 (1)イ (2)エ (3)世界人権宣言

解説

1 (1)①日本国憲法が公布された11月3日は文化の日, 施行された5月3日は憲法記念日となっている。

②第9条には, 戦争の放棄, 戦力の不保持, 交戦権の否認などが定められている。

③大日本帝国憲法の下では, 国民の自由や権利は法律の範囲内で認められたが, 見方を変えたと, 国民の自由や権利は法律で制限できるということであった。

(2)Ⅰ「象徴」と位置づけられた天皇には国政に関する権能はなく, 内閣の助言と承認のもとに国事に関する行為だけを行う。

Ⅱ国家として, 国際紛争を解決する手段としての「戦争」を放棄している。

Ⅲ第9条第2項で戦力の不保持, 「交戦権」の否認を規定しているが, 他国から戦争をしかけられた場合の自衛行為は禁止されていないと解釈されている。

(3)イギリスに生まれた思想家ロックは, 専制政治を批判し, 民主主義思想の発展に大きな影響をあたえた。おもな著書は, 『統治二論』である。

(4)b 参政権には, 選挙権, 被選挙権, 最高裁判所裁判官の国民審査権, 地方自治特別法の住民投票権, 請願権などが含まれる。

d 社会権には, 生存権, 教育を受ける権利, 勤労の権利, 労働基本権(労働三権)が含まれる。

(5)自由権は, 身体の自由, 精神の自由, 経済活動の自由に大別される。

◆自由権の分類

身体の自由→奴隷的拘束・苦役からの自由, 法定手続きの保障, 不当逮捕に対する保障, 住居の不可侵, 黙秘権の保障など。

精神の自由→思想・良心の自由, 集会・結社・表現の自由, 信教の自由, 学問の自由。経済活動の自由→居住・移転・職業選択の自由, 財産権の不可侵。

(6)公務員には憲法を尊重し擁護する義務も定められている(第99条)。また, 憲法で国民に勤労の義務を課していることは珍しく, 多くの国の憲法では, 国防の義務を課している。

三大原則→国民主権, 基本的人権の尊重, 平和主義。

三大義務→子どもに普通教育を受けさせる義務, 勤労の義務, 納税の義務。

2 (2)ワイマール憲法は, 第一次世界大戦に敗れたドイツで制定された民主的な憲法で, 生存権などの社会権が定められた。

(3)フランス革命により, 国民議会は, 封建制度を廃止し, 人権宣言を発表して, 自由, 平等, 友愛, 私有財産の不可侵など, 市民社会の原理を示した。

- (4)A：ワイマール憲法は、第一次世界大戦後の1919年にドイツで制定された。B：人権宣言は、1789年、フランス革命のときに出された。C：独立宣言は、1776年、アメリカ独立戦争のときに出された。古い順に並べ替えると、C→B→Aとなる。

◆人権思想の発達

独立宣言→アメリカ、1776年、自由・平等、革命権など。

人権宣言→フランス、1789年、人民主権など。

ワイマール憲法→ドイツ、1919年、生存権などの社会権。

- 3(1)ア…自由権（経済活動の自由）、ウ…参政権（請願権）、エ…社会権（労働基本権）である。

◆社会権

生存権、勤労の権利、教育を受ける権利、労働基本権（団結権、団体交渉権、団体行動権）

※権利であり、義務でもあるのは勤労である。

※労働三法

労働組合法、労働関係調整法、労働基準法。

- (2)ア…国民主権、基本的人権の尊重、平和主義である。イ…内閣の助言と承認が必要となる。ウ…大日本帝国憲法はドイツの憲法を参考にした。
- (3)1948年、すべての人間に等しく基本的人権が保障されるべきであるという目標を掲げた世界人権宣言が発表された。1966年には人権の保障を義務づけた国際人権規約が採択された。

確認

◆日本国憲法の重要な条文1

次の条文の1～13にあてはまる語句は？

第13条 すべて国民は、(1)として尊重される。生命、自由及び(2)に対する国民の権利については、(3)に反しない限り、立法その他の国政の上で、最大の尊重を必要とする。

第14条① すべて国民は、法の下に(4)であって、人種、信条、(5)、社会的身分又は門地により、政治的、経済的又は社会的関係において、差別されない。

第15条② すべて公務員は、全体の(6)であって、一部の(6)ではない。

第19条 思想及び(7)の自由は、これを侵してはならない。

第20条 (8)の自由は、何人に対してもこれを保障する。いかなる宗教団体も、国から特権を受け、又は政治上の権力を行使してはならない。

第25条 すべて国民は、(9)で(10)な(11)の生活を営む権利を有する。

第30条 国民は、法律の定めるところにより、(12)の義務を負う。

第32条 何人も、裁判所において(13)を受ける権利を奪われない。

【答え】

1 個人 2 幸福追求 3 公共の福祉 4 平等 5 性別 6 奉仕者 7 良心 8 信教 9 健康 10 文化的 11 最低限度 12 納税 13 裁判

⇒入試につながる

●憲法や法律の用語を正確に覚える

公民分野では、条文の穴埋め問題が頻出なので、条文は正確に覚える必要がある。学習して出題された条文は穴埋めになった箇所を正確に覚えていこう。

現代の政治と社会

ステップ
2

- 1 (1)①議院内閣制 ②Aエ Bイ Cウ Dア ③(例)過半数を国会議員から選ぶこと。
④(満)25(歳以上) ⑤6(年) ⑥二院制(両院制)
(2)①小選挙区比例代表並立制
②(例)両院協議会を開いても意見が一致しないとき、衆議院の議決が国会の議決となる。
- 2 (1)イ・ウ・カ (2)ウ
- 3 (1)刑事裁判 (2)(例)法廷に検察官や被告人がいるから。 (3)a良心 b法律
(4)(例)国民の中から選ばれた裁判員が重大な刑事裁判の第一審に参加する制度。 (5)公開
- 4 (1)ア (2)X地方税 Y地方交付税交付金 (3)ウ

解説

- 1 (1)①議院内閣制では、内閣は国会の信任に基づいて成立し、国会に対して連帯して責任を負う。国民は内閣総理大臣を直接選ぶことができず、国会により指名される。議院内閣制を採用している国の代表はイギリスで、これに対し、アメリカ合衆国では、国民によって選ばれた大統領が行政を行う大統領制を採用している。
②衆議院の内閣不信任決議と、内閣による衆議院の解散で権力の均衡が保たれている。
③文民の意味については、「職業軍人の経歴を持たない人」などの説がある。文民統制(シビリアンコントロール)の原則に立っている。
④被選挙権は、参議院議員と都道府県知事が満30歳以上、それ以外は満25歳以上である。
⑤任期は衆議院議員が4年、参議院議員が6年で、衆議院には解散があり、衆議院の方が国民の意見を反映しやすい。
⑥二院制には、一方の議院が議決したことを他方の議院が再検討することにより、審議を慎重に行うことができるという利点がある。この長所を生かすために、両議院は議員の選出方法や選挙区、任期、解散の有無など、いくつかの点で異なっている。
(2)①小選挙区比例代表並立制は、衆議院議員総選挙において、小選挙区制と比例代表制を組み合わせて行われる選挙制度で、小選挙区で

落選しても比例代表で当選する場合がある。
②解散があり任期も短い衆議院は、参議院よりも国民の意思をより強く反映しやすい。そのため、衆議院には、参議院より優越した権限があたえられている。

衆議院議員→被選挙権は満25歳以上、任期4年、解散あり。
参議院議員→被選挙権は満30歳以上、任期は6年、解散なし。

- 2 (1)アは国会、オは内閣の仕事である。エの郵便事業は、長い間郵政省の管轄のもとで行われてきたが、その後、日本郵政公社に移管され、2007年には、郵政事業民営化により、日本郵政グループの株式会社へ移行された。
(2)ア：請求先は首長である。イ：有権者の50分の1以上の署名が必要である。エ：請求先は選挙管理委員会である。

直接請求権の必要署名数	
有権者の50分の1以上	有権者の3分の1以上
監査請求→監査委員	首長、議員の解職、議会の解散請求→選挙管理委員会
条例の制定・改廃請求→首長	主要公務員の解職請求→首長

- 3(1)刑事裁判は、罪を犯した疑いのある人を裁く裁判で、民事裁判は、個人や企業間の利害対立など、私人間の争いを裁く裁判である。
- (2)刑事裁判は、被疑者の容疑がかたまと、検察官が被疑者を被告人として裁判所に起訴して行われる。民事裁判では、裁判所に訴えた人を原告、訴えられた人を被告という。資料中に検察官、被告人はいるが、原告、被告はいないことから判断する。

民事裁判	刑事裁判
私人間の争い	犯罪行為の裁判
原告と被告	検察官と被告人
和解・調停	有罪・無罪の判決 裁判員制度の導入

いずれの裁判も三審制を採用。

- (4)裁判員制度は、刑事裁判の第一審において、くじで選ばれた6人の裁判員が、3人の裁判官とともに参加し、被告人が有罪かどうか、有罪であればどのような刑罰をあたえるかを決める制度である。裁判に国民の視点を取り入れるため、司法制度改革の1つとして2009年から始まった。
- 4(1)ア…地方公共団体の議会で定めるのは条例。特別法は法律で、その地方公共団体の住民投票で過半数の同意を得られれば国会で制定される。
- (2)Y…国からの給付金は地方交付税交付金と国庫支出金で、使い道が指定されていない地方交付税交付金は、地方公共団体間の経済格差を是正するためのものである。
- (3)ア…首長は議会の解散をすることもできる。
イ…市町村長の解職請求に必要な署名数は有

権者の3分の1以上である。

確認

◆日本国憲法の重要な条文2

次の条文の1～11にあてはまる語句は？

第41条 国会は、(1)の最高機関であつて、国の唯一の(2)機関である。

第52条 国会の(3)は、毎年1回これを召集する。

第60条① (4)は、さきに衆議院に提出しなければならない。

第66条③ 内閣は、(5)権の行使について、国会に対し(6)して責任を負う。

第68条① 内閣総理大臣は、国务大臣を(7)する。但し、その(8)は、国会議員の中から選ばなければならない。

第76条① すべて(9)権は、最高裁判所及び法律の定めるところにより設置する下級裁判所に属する。

第81条 最高裁判所は、一切の法律、命令、規則又は処分が(10)に適合するかしないかを決定する権限を有する終審裁判所である。

第94条 地方公共団体は、その財産を管理し、事務を処理し、及び行政を執行する権能を有し、法律の範囲内で(11)を制定することができる。

【答え】

1 国権 2 立法 3 常会 4 予算 5 行政 6 連帯 7 任命 8 過半数 9 司法 10 憲法 11 条例

⇒入試につながる

●選挙に関する年齢制限

30歳以上…都道府県知事と参議院議員の被選挙権、25歳以上…市(区)町村長、都道府県・市(区)町村議会議員、衆議院議員の被選挙権、18歳以上…選挙権である。

国民経済と政府の役割

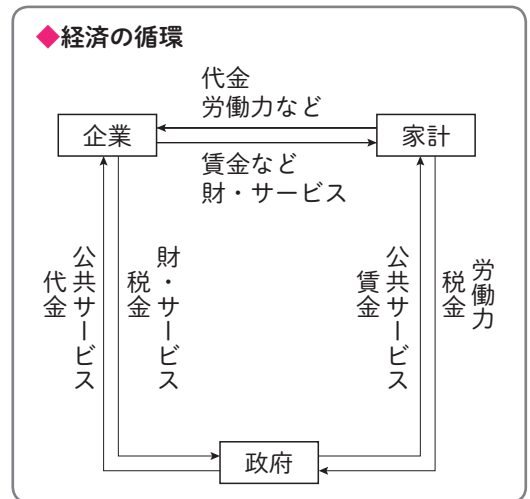
ステップ
2

- 1 (1)①交通・通信 ②(例)自動車, 携帯電話, インターネットなどが普及したから。 ③ウ
 (2)①c ②小売業 (3)①(例)より多くの利潤をあげること。 ②株主
 (4)①イ ②(例)所得税, 相続税 ③(例)公共事業の拡大, 減税
- 2 (1)aウ bイ cア dウ (2)Aイ・ウ Bア・エ
- 3 (1)aエ bウ cア (2)円高 (3)ウ

解説

- 1 (1)①交通・通信は, 1970年の5.2%から2020年の14.4%に増えた。割合がもっとも減ったのは食料である。
 ②現代社会の特質を表す言葉の1つに「情報社会」がある。インターネットや携帯電話が急速に普及しており, 通信費もそれに合わせて増加している。
 ③家計の収入には, 会社や官庁などに勤務して得られる給与収入, 個人で農業や工場, 商店などを営んで得られる事業収入, 土地などを貸すことで得られる地代や預貯金・株式から得られる利子・配当などの財産収入などがある。
- (2)①aは百貨店, bは大型スーパーマーケットである。近年, 百貨店の売り上げは減少している。
 ②消費者に商品を販売する業種を小売業という。小売業者には, 本屋や肉屋などの商店のほか, 百貨店, スーパーマーケット, コンビニエンスストアなども含まれる。
- (3)①企業の規模が大きくなると, 必要な資本も多額になり, それを個人でまかなうのは困難である。そこで, 株式会社は必要とする資金を少額の単位(株式)に分けて多くの出資者から資金を集め, 企業活動を行う。
 ②株主は, 株式会社に対する出資者のことで, 株主総会に出席でき, 原則1株につきひとつの議決権をもつ。また, 会社の利益に応じて配当を受ける。

- (4)①アは社会保障関係費。近年, 急速に高齢化が進んでいるため, 年金保険や介護保険などのサービスを受ける人の数が増加し, 費用がふくらんできている。そのため, 国の歳出に占める割合が, 最も高くなっている。イは国債費。近年, 国債の発行量が増加してきており, 利子と返済に伴う費用の割合が増加し, 社会保障関係費に次いで割合が高い。ウは地方交付税交付金, エは公共事業関係費。
 ②累進課税は, 税負担の公平をはかるため, 所得の多い人ほど税率は高く, 少ない人には低くする制度。わが国では所得税や相続税などで採用されている。
 ③政府が行うものを財政政策という。不況が長引くときは, 減税や公共事業の拡大を実施して景気を刺激し, 市中にお金が出回るようにする。



- 2(1)市場価格は、需要と供給の関係で決まる。需要量は商品を購入しようとする量で、供給量は商品が市場に出回る量である。一般に、「需要量<供給量」のとき価格は下落し、「需要量>供給量」のときは価格が上昇する。
- (2)**A**は好景気（好況）のときで、経済活動が活発になる。**B**は不景気（不況）のときで、経済活動は停滞する。

◆物価の変動

インフレーション…好景気のとき、物価が上がり続ける状態。通貨の価値が下がり、物価が上昇する。

デフレーション…不景気のとき、物価が下がり続ける状態。生産が多すぎるため商品の量が増え、通貨量が商品の流通に必要な量以下になり、物価が下がる。

デフレスパイラル…商品の値段が下がることで会社の利益が減り、従業員の給料が下がることにより、さらに値段を下げないと商品が売れなくなる。このように、ものの値段や給料がどんどん下がり続ける悪循環のこと。

- 3(1) a $1000000 \div 100 = 10000$ となる。
b $1000000 \div 125 = 8000$ となる。
c 1ドル100円のときは、アメリカ国内の自動車の価格は10000ドル、1ドル125円の時きは、自動車の価格は8000ドルとなる。1ドル

100円の時、アメリカの消費者からみると自動車を購入するために2000ドル多く支払う必要がある。

- (2) 1ドル125円から1ドル100円になることを円の価値が上がることから円高という。円高のとき、輸出品の外国での価格は高くなる。
- (3) **A**…労働時間や休日などの労働条件の最低限の基準を定めている法律は労働基準法である。**イ**…一人あたりの労働時間を短くすることで、より多くの就業者をうみ出すしくみをワーク・シェアリングという。ワーク・ライフ・バランスとは、仕事と個人の生活の調和のことである。**エ**…セーフティネットとは、失敗したときでも、安全（セーフティ）なように網（ネット）が準備されているしくみのことである。仕事を紹介してくれるハローワークや、生活の保障と自立支援をする生活保護制度などがある。

◆労働三法

労働基準法…労働条件の最低限の基準（1日8時間以内、週40時間以内労働、男女同一賃金など）を定める。

労働組合法…労働組合を組織する権利の保障などを定める。

労働関係調整法…労働者と使用者の間の問題の解決をはかる。

🔗入試につながる

●円高・円安

外国の通貨に対して、円の価値が高くなることを円高、低くなることを円安という。1ドル100円のように、異なる通貨間の価値の比率のことを為替レート（為替相場）という。

円高…日本への輸入産業が有利となり、日本人の海外旅行が増える傾向にある。

円安…日本からの輸出産業が有利となり、外国人の日本旅行が増える傾向にある。

ステップ
2

- 1 (1)①ニューヨーク ②総会 ③拒否権 ④**aカ bオ cア** (2)冷戦(冷たい戦争)
 (3)北大西洋条約機構 ④**Dオ Fア Gウ** (5)①酸性雨 ②オゾン層の破壊
 (6)**I**核拡散防止(核兵器不拡散) **II**京都 **III**パリ (7)**c**
- 2 (1)①**ウ** ②**イ** (2)①ベルリン ②アメリカ合衆国・ソ連
- 3 (1)**イ** (2)**ア** (3)**A**日本 **B**アメリカ

解説

- 1 (1)①国際連合は、1945年に発足し、本部はアメリカのニューヨークに置かれた。前身の国際連盟の本部は、スイスのジュネーブに置かれていた。
- ②総会は、全加盟国で構成され、1国1票の投票権をもつ。年1回定期的に開かれる。
- ③拒否権は、安全保障理事会の常任理事国にあたえられている、決議を拒否する権限である。重要事項の決定には、9理事国以上の賛成が必要とされ、常任理事国の1国でも拒否権を発動させると、議案は否決されることになる。
- ④**C**国際労働機関は、各国の政府・使用者・労働者の協力を通じて、労働条件の向上、労働問題の解決などの活動を行っている。
- (2)第二次世界大戦後、アメリカ合衆国を中心とする資本主義諸国と、ソ連を中心とする社会主義諸国との間の直接戦火を交えない対立を冷戦(冷たい戦争)とよんだ。
- (3)**NATO**(北大西洋条約機構)は西側諸国の軍事同盟で、冷戦が深刻化する中で結成された。
- (5)①酸性雨とは、石油などを燃やして排出される窒素酸化物や硫黄酸化物の作用により、酸性度が強まった雨のこと。森林が枯れたり、湖の魚が死滅したり、建物の表面がとけたりする被害が出ている。
- ②オゾン層の破壊は、フロンガスなどによるもので、地表に達する紫外線の増加が問題と

なる。紫外線は人体には有害で、皮膚ガンなどを引き起こすことが指摘されている。

◆地球環境問題の原因

- 地球温暖化→二酸化炭素などの温室効果ガス
 酸性雨→硫黄酸化物や窒素酸化物
 オゾン層の破壊→フロンガス
 砂漠化→過放牧、過度の焼畑農業
 熱帯林の破壊→鉱山や農地の開発、道路の建設、輸出用木材の伐採

- (6)**I**アメリカ、ソ連(現ロシア)、イギリス、フランス、中国以外は核兵器をもつことを禁じた。

◆核軍縮

- 1968年 核拡散防止条約…この条約以降も新たに核兵器を保有したり、保有しようとしたりしている国があることが問題となっている。
- 1996年 包括的核実験禁止条約…爆発を伴うすべての核実験の禁止(未発効)。
- 2017年 核兵器禁止条約…核兵器の廃絶を目指す条約だが、核保有国を中心に日本を含む多くの国が参加していない。

- 2 (1)2002年9月にスイス(ヨーロッパ)と東ティモール(アジア)、2006年6月にモンテネグロ(ヨーロッパ)、2011年7月に南スーダン(アフリカ)が加盟した。加盟国数は193か国であ

る（2022年5月）。

(2)①ベルリンを東西に分けたベルリンの壁は冷戦（冷たい戦争）の象徴とされていた。ソ連でペレストロイカが進むと、東欧諸国にも改革と自立を求める動きが起こり、1989年、この壁が取り壊された。

②1989年、ベルリンの壁が崩壊し、その後、地中海にあるマルタ島でアメリカのブッシュ大統領と、ソ連のゴルバチョフ書記長による米ソ首脳会談が行われ、冷戦の終結が宣言された。ソ連は1991年に崩壊し、ロシア連邦などに分かれて独立した。

1949年…北大西洋条約機構の成立

1955年…ワルシャワ条約機構の成立

1989年…ベルリンの壁崩壊

1989年…マルタ会談で冷戦終結の宣言

3(1)ア…水俣病の原因物質は有機水銀。

ウ…1967年に制定されたのが公害対策基本法である。その後、1993年に公害対策基本法を発展させた環境基本法が制定された。エ…国連環境開発会議（地球サミット）はブラジル

のリオデジャネイロで開催された。

◆四大公害病

水俣病…有機水銀（メチル水銀）

新潟水俣病…有機水銀（メチル水銀）

イタイイタイ病…カドミウム

四日市ぜんそく…二酸化硫黄（窒素化合物）

(2)A…中国、B…アメリカ、C…EU、D…インドとなる。

(3)1991年以降10年間にわたって世界1位を維持してきた日本のODAは、2001年～2005年にはアメリカに次いで2位となった。その後順位は後退し、2019年では4位となっている。

◆環境保全

再生可能エネルギー…水力、風力、太陽光、地熱などの技術革新。

循環型社会形成推進基本法（2000年）…廃棄物などを再活用してなるべくごみを出さない社会を目指す。

3R…リデュース（ごみをへらす）、リユース（再使用）、リサイクル（再生利用）。

🔗入試につながる

●略称と正式名称をおさえる

ILO（国際労働機関）、WHO（世界保健機関）、WTO（世界貿易機関）、UNESCO（国連教育科学文化機関）、UNICEF（国連児童基金）、UNCTAD（国連貿易開発会議）、APEC（アジア太平洋経済協力会議）、ASEAN（東南アジア諸国連合）、OPEC（石油輸出国機構）、NGO（非政府組織）、NPO（非営利団体）、ODA（政府開発援助）、TPP（環太平洋経済連携協定）

- 1** (1)ユーラシア大陸 (2)ウ (3)エ (4)環太平洋造山帯 (5)スペイン
(6)(例)(カナダ, アメリカ, メキシコの3か国は,)貿易協定を結び, 経済の面で結びつきを強めている。
- 2** (1)イ (2)ア・エ (3)エ
- 3** (1)ウ (2)国権 (3)ア・エ (4)イ (5)a (例)国会に対して連帯して責任を負う b 大統領
(6)(例)再議を求める
- 4** (1)A新潟県・② B群馬県・④ (2)aイ bア cウ (3)イ→ウ→ア (4)モンテスキュー
(5)団結権 (6)番人 (7)a与 b野

解説

- 1** (1)世界には6つの大陸があり, まとめて六大陸という。広い順に, ユーラシア大陸, アフリカ大陸, 北アメリカ大陸, 南アメリカ大陸, 南極大陸, オーストラリア大陸である。アフリカ大陸は, 大西洋とインド洋に面している。オーストラリア大陸は, 大陸全体が一つの国の領土となっている。
- (2)地図中の○は, 日本列島の対蹠点の近くに位置している。対蹠点とは, ある地点から見て, 地球の中心を通過して反対側にある地点のことである。北極点の対蹠点は南極点となる。例えば, ある地点が北緯38度, 東経135度の場合, その対蹠点は南緯38度, 西経45度の地点となる。
- (3)アはブラジル, イはインド, ウはインドネシアとなる。

◆おもな国の輸出額上位品目

中国…機械類, 衣類, 繊維品
 インドネシア…石炭, パーム油, 機械類
 フィリピン…機械類, 野菜・果実
 ドイツ…機械類, 自動車, 医薬品
 フランス…機械類, 航空機, 自動車
 ロシア…原油, 石油製品, 鉄鋼
 アメリカ…機械類, 自動車, 石油製品
 ブラジル…大豆, 原油, 鉄鉱石
 オーストラリア…鉄鉱石, 石炭

(「2021/22 世界国勢図会」)

- (4)世界には造山帯が2つある。ヨーロッパからインドネシアの島々まで続くアルプス・ヒマラヤ造山帯と, 太平洋を取り囲むように連なる環太平洋造山帯である。
- (5)ヒスパニックはメキシコと国境を接している州などに多く分布している。
- (6)3か国の中で比較的賃金安いメキシコに, アメリカやカナダから多くの工場が移転し, メキシコでは, 自動車工業やハイテク産業がさかんになっている。
- 2** (1)奈良時代から平安時代のころ, 朝廷は, 現在の東北地方から北海道地方に住んでおり, 朝廷の支配下にはいない人々のことを蝦夷とよんだ。桓武天皇は, 坂上田村麻呂を征夷大将軍に任命し, 蝦夷を従わせた。
- (2)織田信長が一乗谷を攻略したのは1573年のことである。ア…1688~89年, イ…1392年, ウ…1492年, エ…1857~59年のできごとである。
- (3)戊辰戦争は, 薩摩藩・長州藩を中心とする新政府軍と旧幕府軍の戦いである。鳥羽・伏見(京都府)で始まった戦いは新政府軍が優位にすすめ, 函館の五稜郭に立てこもった旧幕府軍を降伏させ, 終結した。
- 3** (1)ア…1689年, イ…1889年, ウ…1776年, エ…1919年のできごとである。
- (3)イ…国政調査権は衆議院と参議院のそれぞれが独立して行使できる。ウ…憲法改正の発議

は、衆議院と参議院でそれぞれ総議員の3分の2以上の賛成が必要であり、衆議院の優越は認められていない。

- (4)ア…裁判所、ウとエ…国会の仕事である。
- (5)大統領制では、大統領も議員も国民の選挙によって直接選ばれ、大統領は議会に対して責任を負わない。一方、議院内閣制では、内閣総理大臣や国務大臣は国民の選挙によって選出されず、内閣総理大臣は国会の指名、国務大臣は内閣総理大臣の任命により選出される。内閣は国会に対し、行政権の行使について連帯して責任を負っている。
- (6)ともに住民の直接選挙で選ばれる首長と議員は対等であり、首長は議会の決定が不服である場合は、議決を拒否して審議のやり直しを求めることができる。一方、議会は首長に対して、行政についての説明を求めることができ、議会が首長の方針に反対であるならば、不信任の決議をすることができる。

- 4 (1)①…山形県、②…新潟県、③…千葉県、④…群馬県、⑤…福島県である。A…「上杉謙信」や「日本有数の米の生産地」などから②の新潟県、B…「富岡製糸場」などから④の群馬県となる。

(2)北方領土で最も面積が広いのは択捉島で、次に広いのが国後島である。

(3)ア…「キリシタン大名」から、戦国時代のこと、イ…1095年(平安時代)、ウ…1498年(室町時代)のことである。

(5)労働基本権(労働三権)は、労働組合を結成して団結する権利(団結権)、労働条件の改善を訴えて使用者と交渉する権利(団体交渉権)とその要求が達せられない場合、ストライキなどの行動をとって強く要求する権利(団体行動権)からなる。

(6)裁判所は、法律や条例などが憲法に違反していないかを審査する違憲立法審査権をもち、最高裁判所は最終的に憲法違反かどうかを決定する権限をもっていることから、「憲法の番人」とよばれている。

(7)政権をになう党を与党、それ以外の政党を野党といい、野党は、与党の政策を批判したり政治を監視したりしている。日本では1955年以降、自由民主党(自民党)がほぼ一貫して単独で与党となり政権を担当してきた。1990年代以降は複数の与党で政権を担当する連立政権がつくられている。

🔗入試につながる

- 1 おもな国の輸出上位品目からどの国のものであるかを特定できるようにしておこう。
- 2 重要な世界のできごとが起きたとき、日本ではどの時代だったのかを確認しておこう。
- 3 重要用語は覚えるだけでなく、その用語の内容を説明できるようにしておこう。
- 4 地名や遺跡などは、必ず地図帳で場所を確認するようにしよう。

- 1** (1)①シラス(台地) ②ハザードマップ(防災マップ) (2)ア (3)エ
(4)(例)河川が短く、降った雨の多くが海に流れてしまうから。
- 2** (1)イ
(2)(例)薩英戦争で列強の軍事力を実感し、攘夷が難しいことを知ったので、列強の技術などを学び、幕府に対抗できる実力を備えようとしていたから。
(3)岩倉使節団 (4)エ (5)エ (6)ウ
- 3** (1)ア (2)イ (3)法人(税) (4)(企業の)社会的責任
- 4** (1)中大兄皇子 (2)イ (3)枕草子 (4)①エ
(2)(例)領地が細分化し、幕府に緊急事態があったときに対応できなくなるから。 ③建武の新政

解説

- 1** (1)①九州南部には、過去の大規模な火山活動の噴出物が厚く積もってできたシラス台地が広がっている。シラス台地は、非常に水を通しやすいため稲作には向かず、水が少なくやせた土地でも育つさつまいもが栽培されてきた。しかし、第二次世界大戦後にかんがい施設が整備され、野菜や茶など、収益の多い作物の栽培も行われるようになった。鹿児島茶は、静岡や京都の茶にならぶブランド茶となっている。
- ②ハザードマップ(防災マップ)とは、台風などによる水害や火山の噴火、地震による津波などの自然災害による被害を予測し、災害発生時の被害範囲や避難経路、避難場所などの情報を示した地図である。多くの地方公共団体でハザードマップの作成、配布が行われている。
- (2) Z 付近の標高は127.5mである。また、Y から Z 方向への間に100mの等高線があり、Z がYより標高が高いことが確認できる。
- (3)火山活動が活発な九州地方では、地下のマグマによって地下水が温められるため、各地に温泉がある。その地下水や地熱を利用した地熱発電がさかんである。九州地方では、このほかにも、太陽光発電や、バイオマス発電など、再生可能エネルギーを利用した発電も行われている。
- (4)沖繩県には長い河川がなく、雨が降ってもすぐに海に流れてしまうため、雨が少なく雨水不足になる。そのため、屋根の上に、雨水をろ過する貯水タンクを設置している家庭が多い。
- 2** (1)葛飾北斎は江戸時代の化政文化で活躍した浮世絵師である。アの狩野永徳は安土桃山時代、ウの尾形光琳と菱川師宣は江戸時代の元禄文化を代表する画家。
- (2)薩摩藩は、薩英戦争に敗北後、攘夷が難しいことを知り、幕府を武力で倒す考えを強め、列強から技術を学んだ。
- (3)岩倉使節団には、岩倉具視、木戸孝允、伊藤博文、大久保利通など政府関係者や、留学生として津田梅子などが同行した。
- (4)ア…日本は第一次世界大戦時、ドイツが租借していた山東半島の青島を攻撃した。イ…日本は1910年に韓国を併合した。ウ…1905年のポーツマス条約により、樺太の南半分を領有した。エ…1875年、樺太・千島交換条約により、千島列島をロシアより譲り受けた。
- (5)日本が国際連盟を脱退したのは、1933年のことである。ア…1918年、イ…1929年、ウ…1932年、エ…1937年のできごとである。
- (6)1972年、佐藤栄作首相のとき、沖縄が日本に

返還された。また、同年、田中角栄首相が、日中共同声明に署名をし、国交が正常化した。

- 3 1) 消費者を保護するため、製造物責任法 (PL法) が施行されたり、消費者庁が設置されたりした。

◆消費者の四つの権利

(アメリカのケネディ大統領)

- ・安全を求める権利
- ・知らされる権利
- ・選択する権利
- ・意見を反映させる権利

- (2) Y…流通コスト削減のため、大規模小売業者は、大量の商品を生産者から直接仕入れて販売することもある。
- (3) 法人税とは、法人の所得 (利益) に対して課される税金である。法人とは、法律で人と同じような権利や義務を認められた存在のことで、株式会社などがあてはまる。法人税と同じ、国税で直接税のものとして、所得税と相続税がある。
- (4) 企業の社会的責任 (CSR) とは、企業が利益を求めるだけでなく、社会の一員として、社会的な影響に責任をもち、よりよい社会になるように努力することである。例えば、働いている人が安心・安全に働けるようにした

り、企業がある地域の人々に迷惑をかけないようにしたりすることである。

- 4 1) 中大兄皇子は、都を大津宮 (滋賀県) に移し、即位して天智天皇となった。

(2) 663年、百済の救援要請に応じた日本は、白村江の戦いで唐・新羅連合軍に敗れた。その後、朝鮮半島統一を目指した新羅は、高句麗もほろぼし、唐の勢力を追放して朝鮮半島全域を支配した。

(3) 漢字をくずしたかな文字は、9世紀ごろから使われはじめ、広まっていった。男性の役人が使う政治上の文書では漢文が用いられたが、かな文字は女性が日常的な表記に用いたため、宮廷の女性たちがかな文字を使って文学作品を書くようになった。

(4) ①②恩賞を目当てにモンゴル軍との戦いに参加した御家人たちには、幕府から十分な恩賞が与えられず、不満が高まった。また、分割相続により領地が縮小し、借金を返済できず領地を売ってしまう御家人もいた。そのため幕府は御家人が売却した領地を取り戻せるように徳政令を出した。

③後醍醐天皇の政治は、武士より皇族や貴族たちを優先させるものであったため、武士の不満が高まり、建武の新政は2年半で終わった。

⇒入試につながる

- 1 地図記号、等高線の読み取り方を確認しておこう。
- 2 太平洋戦争に至るできごとが起きた順番を年表で確認しておこう。
- 3 税の種類 (国税と地方税、直接税と間接税) や制度 (累進課税) などを確認しておこう。
- 4 文学や建築の観点から国風文化の特徴をおさえておこう。

- 1** (1)太平洋 (2)ロシア連邦^{れんぽう} (3)南アメリカ大陸 (4)い (5)イ
- 2** (1)エ (2)①やませ ②(例) 平年と比べて夏の日照時間が短く、気温が低かったから。
(3)促成栽培
- 3** (1)院政 (2)前方後円墳 (3)エ→イ→ア→ウ (4)ウ (5)千利休 (6)ア
- 4** (1)(例) 政権を朝廷に返した (2)ウ→イ→ア→エ (3)ウ (4)フランス (5)吉田茂
- 5** (1)ウ (2)〇〇公共 △△福祉
(3)(例) (自由権や平等権の保障だけでは) 貧困や失業を改善する(ことができなかったから)。
(4)国際連合 (5)ウ
- 6** (1)公正取引委員会 (2)(例) 一般の銀行に対して、資金の貸し出しや預金の受け入れをおこなう。
(3)イ (4)Ⅰ 京都 Ⅱ パリ

解説

- 1** (1)南北アメリカ大陸とユーラシア大陸、オーストラリア大陸に挟まれている海洋は太平洋である。
- (2)日本の標準時子午線は東経135度である。地図からも確認できるように、東経135度の経線が通過する最も面積が大きい国は、ロシア連邦である。
- (3)P大陸…南アメリカ大陸、Q大陸…アフリカ大陸、R大陸…オーストラリア大陸、S大陸…ユーラシア大陸、T大陸…北アメリカ大陸となる。赤道が、各大陸のどのあたりを通過するのかを考えて判断していく。

大陸	熱帯	乾燥帯
ユーラシア	7.4%	26.1
アフリカ	38.6	46.7
北アメリカ	5.2	14.4
南アメリカ	63.4	14.0
オーストラリア	16.9	57.2

〔データブック オブ・ザ・ワールド 2022年版〕

- (4)日本が午後8時で、Aさんの国は午前8時であることから、日本とAさんの国の時差は12時間となる。時差1時間で経度15度の差があることから、12時間×15度=180度となり、日本から見て、地球の中心を通った裏側のい

(西経45度)がAさんがいる場所となる。

- (5)貿易額がもっとも多いイがEUである。面積は広い順に、ロシア→カナダ→アメリカ→中国→ブラジル→オーストラリアであるから、ウ…アメリカ、エ…中国、ア…ブラジルと考える。日本の面積は37.8万km²なので、オとなる。

◆EU以外のおもな経済地域

(2019年)

	面積 (千 km ²)	人口 (百万人)	GDP (億ドル)
ASEAN	4487	661	31554
USMCA	21783	494	244312
メルコスール	13921	306	25674

〔世界国勢図会 2021/22年版〕

- 2** (1)ア…漁獲量が他と比べてとても少ないので内陸県である栃木県、ウ…第3次産業の割合が高いので東京都、イとエ…三重県の製造品出荷額は鳥取県より高いため、エが三重県となる。
- (2)梅雨明け後の東北地方の太平洋側では、冷たく湿った風であるやませが、海から吹き込む。やませが長く続くと日照不足と低温から稲の生育が遅れる冷害が発生しやすくなる。
- (3)促成栽培、抑制栽培とも、市場に出回る農作物が少なく、価格が高い時期に出荷する栽培

方法である。

◆漁獲量が多い道県（2018年）

北海道（88万 t）

長崎県（29万 t）

茨城県（26万 t）

静岡県（20万 t）

宮城県（18万 t）

（「2021データでみる県勢」）

- 3 (1) 院政とは、摂政や関白に代わって、天皇の父親が天皇の補佐をするしくみである。上皇は、天皇と異なり、自由な立場で政治を行うことができた。白河上皇が院政を始めたころ（1086年～）の世界のできごととしては、十字軍の遠征の始まり（1096年～）がある。
- (3) ア…「坂上田村麻呂は、蝦夷のおもな拠点を攻め」から平安時代初期、イ…「聖武天皇は～都に東大寺を建てた」から奈良時代、ウ…「平家物語」が、琵琶法師によって」から鎌倉時代、エ…「壬申の乱に勝って即位した天武天皇」から飛鳥時代のできごとと判断する。
- (4) ア…「老中」などから江戸時代、イ…「執権」などから鎌倉時代、エ…「太政官」や「八つの省」などから奈良時代以降の政治について述べたものであるとわかる。
- (5) 千利休は、室町時代に始まった茶の湯を、静かな空間の中で、素朴な茶道具を使い、洗練された所作で客人をもてなす、わび茶へと成長させた。
- (6) ア…1517年、イ…1775年、ウ…610年ごろ、エ…936年のできごとである。それぞれの世界のできごとが起きた時期に近い日本のできごとは、ア…ポルトガル人による鉄砲伝来（1543年）。イ…田沼意次の老中就任（1772年）。ウ…聖徳太子による法隆寺建立（607年）。エ…平将門の乱（939年）である。

◆おもな乱

壬申の乱…672年（飛鳥時代）

平将門の乱*…939年（平安時代）

藤原純友の乱…939年（平安時代）

保元の乱…1156年（平安時代）

平治の乱…1159年（平安時代）

承久の乱…1221年（鎌倉時代）

応仁の乱…1467年（室町時代）

大塩の乱…1837年（江戸時代）

*935年とする説もある

- 4 (1) 幕末の混乱した情勢の中で、徳川慶喜は、1867年、公武合体の立場をとる土佐藩のすずめもあり、天皇へ政権を返すことを申し出た。慶喜には、あえて自ら政権を返上することで、新しい指導体制のもとでも政治の主導権を握るというねらいがあった。
- (2) ア…日比谷焼き打ち事件は1905年のできごとである。日露戦争後に結ばれたポーツマス条約では、国内の犠牲の大きさにもかかわらず、ロシアからの賠償金が得られなかったことから国民から強い不満の声があがり、暴動に発展した。イ…義和団事件は1900年のできごとである。列強諸国は、日清戦争に敗れた清に進出した。このような列強諸国の動きに対して、排外的な民衆運動の団体である義和団が力を増し、北京の外国公使館を取り囲んだ。ウ…甲午農民戦争は1894年のできごとである。朝鮮をめぐる日本と清が対立する中、朝鮮では、政府や外国勢力に反対する大規模な農民の暴動が起きた。エ…辛亥革命は1911年～のできごとである。三民主義を唱える孫文は、清を倒して近代国家をめざす革命運動を起こした。1912年、孫文は臨時大総統に就任し、アジアで最初の共和国憲法を制定した。

◆中国の王朝や国と日本の時代

中国の王朝や国	おもな日本の時代
漢	弥生時代
隋	飛鳥時代
唐	奈良～平安時代
宋	平安時代
元	鎌倉時代
明	室町～安土桃山時代
清	江戸～明治時代
中華民国	大正～昭和時代
中華人民共和国	昭和～現代

- (3)第一次世界大戦中、連合国やアメリカへの工業製品の輸出が増える一方、欧米からの輸入が止まったことにより、鉄鋼や造船などの重化学工業が成長し、工業生産額は農業生産額を上回るようになった。
- (4)日本は、アメリカの中国を援助するルートを断ち切り、必要な資源を確保するために、1940年、フランス領インドシナ北部に軍をすすめた。
- (5)中国は講和会議に招かれず、インド・ビルマ（今のミャンマー）は条約に反対して、講和会議に参加しなかった。また、ソ連、チェコスロバキア、ポーランドは条約に反対して調印しなかった。

- 5 1)ア…奴隷的拘束や苦役からの自由は生命・身体
の自由、イ…表現の自由は精神の自由である。

◆日本国憲法の自由権

精神の自由

- ・思想、良心の自由
- ・信教の自由
- ・集会、結社、表現の自由など
- ・学問の自由

生命・身体の自由

- ・奴隷的拘束、苦役からの自由
- ・法定の手続きの保障

- ・逮捕、拘禁などに対する保障
 - ・拷問の禁止、自白の強要の禁止などの刑事手続きの保障
- 経済活動の自由
- ・居住、移転と職業選択の自由
 - ・財産権の保障

- (2)公共施設を建設するために土地が収用されたり、建物の高さ制限がされたりするなど、経済活動の自由は精神の自由に比べて、公共の福祉による制限を受けやすい。
- (3)19世紀に発達した資本主義は、社会を豊かにした反面、貧富の差を生んだ。20世紀に入ると、国は国民の自由を保障するだけでは不十分で、人々の生活に介入して貧富の差を是正し、すべての人に人間らしい生活を営む権利を保障すべきだという考えが生まれた。
- (4)1948年、達成すべき共通の人権保障の水準として世界人権宣言が、国際連合総会で採択された。また、1966年には、人権の保障を義務付ける国際人権規約が採択された。
- (5)新しい人権として、日本国憲法には直接の記載はないが、環境権をはじめ、プライバシーの権利や知る権利などが認められている。

◆おもな新しい人権

- ・環境権→環境保全のために、環境基本法や事前に環境への影響を調査する環境アセスメント（環境影響評価）も義務付けられている。
- ・プライバシーの権利→私的な情報が勝手に利用されたり他人に知られたりしないように個人情報保護法が制定されている。
- ・知る権利→主権者として政治について正しい判断を下すためには、国や地方公共団体の情報を知る必要がある。知る権利のためにつくられたのが情報公開制度である。
- ・自己決定権→患者が自分自身で治療方法を決定できるように、手術の方法などを

医師が十分に説明して同意を得るインフォームド・コンセントが求められている。

- 6 (1) 公正取引委員会は、不正な価格操作などがあると、企業を摘発し、罰金の支払いを命じることができる。
- (2) 日本の中央銀行である日本銀行は、通貨や金融の調整を行い、国の財政政策と協議しながら金融政策を実施する。

◆日本銀行の三つの役割

- ・発券銀行…日本で唯一の発券銀行として日本銀行券を発行する。
- ・政府の銀行…日本銀行にある国の預金口座に、税金や社会保険料などの国の収入を預かる。この口座から、公共事業費や年金など国の支出が支払われる。
- ・銀行の銀行…一般の銀行の預金を受け入れたり、銀行に資金を貸し出したりする。

- (3) Y…20歳以上ではなく、40歳以上である。また希望制でなく、全員が加入する。

◆社会保障制度

- ・社会保険→医療保険、介護保険、年金保険、雇用保険、労災保険
- ・公衆衛生→感染症対策、予防接種、上下水道整備、公害対策など
- ・社会福祉→高齢者福祉、障がい者福祉、児童福祉、母子福祉など
- ・公的扶助→生活保護（生活、教育、住宅、医療などの扶助）

- (4) パリ協定とは、途上国を含むすべての参加国に、温室効果ガスの排出削減の努力を求める枠組みである。

◆環境問題への取り組み

- 1971 ラムサール条約採択
- 1972 国連人間環境会議(ストックホルム)
- 1992 国連環境開発会議(地球サミット)
(リオデジャネイロ)
- 1997 地球温暖化防止京都会議
京都議定書採択
- 2002 持続可能な開発に関する世界首脳会議(環境開発サミット)(ヨハネスバーク)
- 2015 パリ協定採択

🔗入試につながる

- 1 時差の問題はよく出題されるので、時差の求め方を確認しておこう。
- 2 各都道府県の人口、面積、産業などを確認しておこう。
- 3 歴史の重要なできごとがいつの時代に起こったのかを確認しておこう。
- 4 明治以降の日本の工業化について、整理しておこう。
- 5 人権については、世界の人権保障の確立の内容と関連させて、おさえておこう。
- 6 価格の決め方、日本銀行、社会保障、環境などは基本的な用語をおさえておこう。

